



Universidade Estadual
do Piauí - UESPI

CONCURSO PÚBLICO PREFEITURA MUNICIPAL DE PARNARAMA - MA

PROVA ESCRITA OBJETIVA
CARGO: AUXILIAR CONTÁBIL

DATA: 16/03/2014 – HORÁRIO: 8h30' às 12h30' (horário do Maranhão)

LEIA AS INSTRUÇÕES:

- Você deve receber do fiscal o material abaixo:
 - Este caderno com 50 questões objetivas sem falha ou repetição.
 - Um CARTÃO-RESPOSTA destinado às respostas objetivas da prova.
- Verifique se este material está completo e se seus dados pessoais conferem com aqueles constantes do CARTÃO-RESPOSTA.
- Após a conferência, você deverá assinar seu nome completo, no espaço próprio do CARTÃO-RESPOSTA utilizando caneta esferográfica com tinta de cor azul ou preta.
- Escreva o seu nome nos espaços indicados na capa deste CADERNO DE QUESTÕES, observando as condições para tal (assinatura e letra de forma), bem como o preenchimento do campo reservado à informação de seu número de inscrição.
- No CARTÃO-RESPOSTA, a marcação das letras correspondentes às respostas de sua opção, deve ser feita com o preenchimento de todo o espaço do campo reservado para tal fim.
- Tenha muito cuidado com o CARTÃO-RESPOSTA, para não dobrar, amassar ou manchar, pois este é personalizado e em hipótese alguma poderá ser substituído.
- Para cada uma das questões são apresentadas cinco alternativas classificadas com as letras (A), (B), (C), (D) e (E); somente uma responde adequadamente ao quesito proposto. Você deve assinalar apenas **uma alternativa para cada questão**: a marcação em mais de uma alternativa anula a questão, **mesmo que uma das respostas esteja correta**; também serão nulas as marcações rasuradas.
- As questões são identificadas pelo número que fica à esquerda de seu enunciado.
- Os fiscais não estão autorizados a emitir opinião nem a prestar esclarecimentos sobre o conteúdo das provas. Cabe única e exclusivamente ao candidato interpretar e decidir a este respeito.
- Reserve os 30(trinta) minutos finais para marcar seu CARTÃO-RESPOSTA. Os rascunhos e as marcações assinaladas no CADERNO DE QUESTÕES não serão levados em conta.
- Quando terminar sua Prova, antes de sair da sala, assine a LISTA DE FREQUÊNCIA, entregue ao Fiscal o CADERNO DE QUESTÕES e o CARTÃO-RESPOSTA, que deverão conter sua assinatura.
- O TEMPO DE DURAÇÃO PARA ESTA PROVA É DE **4h (quatro horas)**.
- Por motivos de segurança, você somente poderá ausentar-se da sala de prova após decorridas **2h (duas horas)** do início de sua prova.
- O rascunho ao lado não tem validade definitiva como marcação do Cartão-Resposta, destina-se apenas à conferência do gabarito por parte do candidato.

Nº DE INSCRIÇÃO

| | | | | | |
|--|--|--|--|--|--|
| | | | | | |
|--|--|--|--|--|--|

Assinatura

Nome do Candidato (letra de forma)

RASCUNHO

| | | | |
|----|--|----|--|
| 01 | | 26 | |
| 02 | | 27 | |
| 03 | | 28 | |
| 04 | | 29 | |
| 05 | | 30 | |
| 06 | | 31 | |
| 07 | | 32 | |
| 08 | | 33 | |
| 09 | | 34 | |
| 10 | | 35 | |
| 11 | | 36 | |
| 12 | | 37 | |
| 13 | | 38 | |
| 14 | | 39 | |
| 15 | | 40 | |
| 16 | | 41 | |
| 17 | | 42 | |
| 18 | | 43 | |
| 19 | | 44 | |
| 20 | | 45 | |
| 21 | | 46 | |
| 22 | | 47 | |
| 23 | | 48 | |
| 24 | | 49 | |
| 25 | | 50 | |

NÚCLEO DE CONCURSOS E PROMOÇÃO DE EVENTOS – NUCEPE CONCURSO PÚBLICO – PREFEITURA MUNICIPAL DE PARNARAMA - MA
FOLHA DE ANOTAÇÃO DO GABARITO -ATENÇÃO: Esta parte somente deverá ser destacada pelo fiscal da sala, após o término da prova.

N ° DE INSCRIÇÃO

| | | | | | | | |
|--|--|--|--|--|--|--|--|
| | | | | | | | |
|--|--|--|--|--|--|--|--|

TEXTO I (Para as questões de 01 a 07)

A história do pescador

"Fala sério..." Ninguém disse isso enquanto José Salvador Alvarenga narrava seu drama, mas certamente pensou. Mais de um ano perdido no Oceano Pacífico, num barco à deriva, alimentando-se de pássaros e tartarugas. Difícil de acreditar. "Eu não sabia a hora, o dia. Sabia apenas se era dia ou noite", disse Alvarenga, de 37 anos e natural de El Salvador, ao jornal britânico *The Daily Telegraph*. "Eu não via terra. Puro oceano." Na semana passada, quando esse misterioso homem apareceu do nada nas Ilhas Marshall - micropaís da Micronésia formado por atóis e ocupado por apenas 70 mil pessoas -, muitos ficaram de boca aberta. Sua odisseia mais parecia fruto da imaginação que realidade, apesar das precárias condições físicas de seu protagonista. Aos poucos, ele oferecia preciosos detalhes e conquistava os incrédulos ouvintes. Sim, José Salvador Alvarenga jurava ter passado 13 meses no Pacífico - e estava pronto para contar sua história.

(...)

(Revista *Época* - nº 819, de 10 de fevereiro de 2014. *Personagem da Semana*. JOSÉ SALVADOR ALVARENGA. p. 14)

01. A maneira como a linguagem é utilizada nas mais diferentes situações de comunicação auxilia-nos a produzir os sentidos sobre o que dizemos. No trecho acima, com o título do texto A história do pescador e a frase inicial "Fala sério..." o próprio autor
- a) defende a veracidade dos fatos a serem apresentados.
 - b) pretende colocar-se em situação de neutralidade quanto aos fatos apresentados.
 - c) tem a intenção de explorar aspectos relacionados à veracidade dos fatos apresentados.
 - d) coloca-se definitivamente contrário aos fatos apresentados.
 - e) não revela a sua opinião sobre os fatos a serem apresentados.
02. No trecho, temos a recorrência de uso de aspas para
- a) ressaltar falas ou citações de outros que não o próprio autor do texto.
 - b) marcar o posicionamento do que é narrado.
 - c) divergir sobre o que é exposto no texto.
 - d) mostrar que as palavras entre aspas estão escritas de forma incorreta.
 - e) indicar que as expressões entre aspas podem não ser muito conhecidas dos leitores.
03. A frase Aos poucos, ele oferecia preciosos detalhes e conquistava os incrédulos ouvintes. Revela
- a) que o pescador narra os detalhes sobre aquilo que viveu no mar de forma vaga e imprecisa.
 - b) que houve uma mudança na postura das pessoas em relação a acreditar ou não naquilo que o pescador dizia.
 - c) que as pessoas jamais acreditariam em uma história de pescador perdido no mar.
 - d) que conquistar a credibilidade das pessoas nem sempre é possível.
 - e) que as pessoas jamais acreditariam numa história daquelas, mesmo que fosse narrada com muitos detalhes.

04. Na frase: Sua odisseia mais parecia fruto da imaginação que realidade, vemos estabelecida entre Sua odisseia mais parecia fruto da imaginação e que realidade uma relação de
- a) causa.
 - b) condição.
 - c) explicação.
 - d) consequência.
 - e) comparação.
05. No segmento frasal condições físicas, a palavra físicas qualifica condições, que aparece em primeiro lugar. Considerando-se essa relação e a posição em que as palavras estão dispostas, o mesmo acontece em
- a) misterioso homem.
 - b) precárias condições.
 - c) preciosos detalhes.
 - d) jornal britânico.
 - e) incrédulos ouvintes.
06. No trecho, ele oferecia preciosos detalhes e conquistava os incrédulos ouvintes., a palavra destacada , quanto ao sentido, diz respeito àquele que não
- a) escuta.
 - b) acredita.
 - c) confia.
 - d) observa.
 - e) tolera.
07. Em Ninguém disse isso, a relação sintática que se estabelece entre disse e isso é de natureza distinta daquela que se observa em
- a) enquanto José Salvador Alvarenga narrava seu drama. (narrava e seu drama).
 - b) Eu não via a terra. (via e a terra).
 - c) quando esse misterioso homem apareceu do nada nas Ilhas Marshall (apareceu e nas Ilhas Marshall).
 - d) ele oferecia preciosos detalhes (oferecia e preciosos detalhes).
 - e) conquistava os incrédulos ouvintes (conquistava e os incrédulos ouvintes).

TEXTO II (Para as questões de 08 a 10)

Equilibrando o tempo

Falta de tempo. Um dos maiores problemas do mundo moderno é também um dos principais motivos que tem levado muitos estudantes brasileiros a optar pela educação a distância. Afinal, não é fácil conciliar uma rotina de estudos, com hora marcada e deslocamentos, com os afazeres da vida profissional e pessoal - o que significa, para muita gente, também cuidar das crianças e da casa. (...).

Mesmo com as vantagens, é um engano comum pensar que o curso a distância é sinônimo de vida fácil. (...).

(Guia de Educação a distância, 2014. São Paulo - Ed. Segmento. *Equilibrando o tempo*. Por Daniel dos Santos, p. 44-46)

08. Após a leitura do texto compreende-se que o seu título pretende

- a) revelar que os afazeres da vida diária atrapalham uma rotina de estudos.
- b) sinalizar para a necessidade de se estar atento à rotina de estudos.
- c) criticar a razão de se utilizar o tempo de forma não programada.
- d) mostrar uma razão de se utilizar o tempo disponível para estudo.
- e) revelar uma justificativa para a opção de realizar cursos a distância.

09. Na última frase do texto o autor admite que há uma crença de que

- a) um curso feito a distância não exige grandes esforços dos seus alunos.
- b) os alunos que optam por um curso a distância terão mais vantagens do que os estudantes de cursos presenciais em termos de aprendizagem.
- c) os cursos a distância oferecem mais opções em termos de escolha profissional.
- d) os cursos a distância oferecem maiores vantagens em termos de aquisição de conhecimentos para os alunos.
- e) os alunos escolhem os cursos a distância porque têm uma rotina dura de trabalho.

10. A opção em que a palavra apresentada é de gênero gramatical masculino é

- a) educação.
- b) vida.
- c) distância.
- d) problema.
- e) rotina.

MATEMÁTICA

11. Em uma pesquisa em uma escola de Parnarama, verificou-se que 150 alunos praticavam atletismo como única atividade esportiva, 250 alunos praticavam futebol, também como única atividade esportiva, e 70 alunos praticavam as duas atividades: atletismo e futebol. Quantos alunos foram pesquisados se todos optaram por pelo menos uma das duas atividades esportivas?
- a) 330.
 - b) 400.
 - c) 470.
 - d) 320.
 - e) 220.
12. Dois pedaços de barbante, um verde e outro preto, devem ser cortados em pedaços de mesmo tamanho. Essa medida tem de ser a maior possível. O barbante verde mede 120 metros, e o azul, 180 metros. Qual será o tamanho de cada pedaço depois de cortados?
- a) 15 metros.
 - b) 20 metros.
 - c) 30 metros.
 - d) 60 metros.
 - e) 90 metros.
13. Um guarda de trânsito notou que dos 60 carros que passaram por ele, 48 condutores usavam o cinto de segurança, como manda o Código de Trânsito Brasileiro. Qual é a fração irredutível que representa o número de condutores que passaram pelo guarda e não usavam o cinto de segurança?
- a) $\frac{4}{5}$
 - b) $\frac{1}{5}$
 - c) $\frac{2}{5}$
 - d) $\frac{1}{4}$
 - e) $\frac{3}{8}$

14. A altura de Gilson é 1,69 metro e a de sua irmã Paula é 1,94 metro. Qual é a diferença de altura, em centímetros, entre Paula e Gilson?
- a) 25 cm
 - b) 15 cm
 - c) 35 cm
 - d) 24 cm
 - e) 29 cm
15. João e Francisco pintaram o muro da casa de seu Antônio e, por esse trabalho, ganharam R\$ 300,00. Como João trabalhou mais do que Francisco, vai ganhar uma parte maior desse dinheiro. João vai ganhar R\$ 30,00 a mais do que o dobro do que Francisco ganhar. Quanto João vai receber?
- a) R\$ 230,00
 - b) R\$ 210,00
 - c) R\$ 180,00
 - d) R\$ 150,00
 - e) R\$ 90,00
16. O 13º salário é um direito garantido pela constituição federal. Consiste no pagamento de um salário extra ao trabalhador no final de cada ano. O décimo terceiro salário é calculado sobre o salário integral segundo a seguinte fórmula:
(valor do salário ÷ 12) × nº de meses trabalhados.
- Supondo-se que Marcos receba mensalmente R\$ 1500,00 e tenha trabalhado 8 meses, quanto ele vai receber de 13º?
- a) R\$ 780,00
 - b) R\$ 800,00
 - c) R\$ 850,00
 - d) R\$ 900,00
 - e) R\$ 1000,00
17. A praça de uma cidade tem 3000m² de área; 30% dessa área foi plantada com flores, 40% com grama, 12% com arbustos e a área restante foi coberta com seixo. Qual é a área da parte coberta apenas com seixo?
- a) 400 m²
 - b) 450 m²
 - c) 500 m²
 - d) 540 m²
 - e) 600 m²

18. A horta de dona Jacira possui formato retangular com área de 48m^2 . Ela resolveu redimensionar a horta, aumentando 1m na sua largura e diminuindo 2m no seu comprimento. Com isso, a área da horta aumentou para 50m^2 . Qual o perímetro da nova horta de Jacira?
- a) 32 m
 - b) 30 m
 - c) 24 m
 - d) 20 m
 - e) 16 m
19. Uma pessoa obesa, precisando emagrecer, foi a um médico e, sob sua orientação, fez um regime e reduziu seu peso a 80 kg. Sabendo que o peso dessa pessoa era de 112 kg e que ela emagreceu 4 kg por mês, quanto tempo durou o regime?
- a) 8 meses.
 - b) 7 meses.
 - c) 6 meses.
 - d) 10 meses.
 - e) 9 meses.
20. Seja $f(x) = -x^2 + 4x - 1$ uma função de variável real. Pode-se afirmar corretamente que esta função assume um valor
- a) mínimo, igual a -13 , para $x = 6$.
 - b) mínimo, igual a -6 , para $x = 5$.
 - c) máximo, igual a 3 , para $x = 2$.
 - d) máximo, igual a 2 , para $x = 1$.
 - e) máximo, igual a 5 , para $x = 3$.

21. Assinale a alternativa **CORRETA** sobre hardware.

- a) A memória RAM é considerada dispositivo de armazenamento não volátil.
- b) SSD é uma nova série de processadores mais avançados.
- c) A Cache é um dispositivo com menor capacidade de armazenamento, porém mais lenta que a memória RAM.
- d) O disco rígido possui maior capacidade de armazenamento e velocidade de leitura/gravação mais rápida do que a RAM.
- e) O Pendrive é um dispositivo de entrada e saída considerado mídia removível.




22. Sobre o Sistema Operacional Microsoft Windows, assinale a opção **CORRETA**.

- a) O Ext2/Ext3 é seu sistema de arquivos padrão.
- b) O NTFS é um sistema de arquivos que pode ser usado pelo Windows.
- c) Reiserfs é o sistema de arquivos mais moderno do Windows.
- d) O Ext4 é o novo sistema de arquivos do Windows Vista.
- e) A Swap é criada na instalação de todos os Windows.

23. Marque a alternativa **CORRETA** sobre software.

- a) O Sistema Operacional é o aplicativo editor de texto padrão.
- b) O Antivírus é classificado como software aplicativo.
- c) A planilha eletrônica é um software de linguagem de programação.
- d) Os drivers são softwares de sistema que contém informações sobre cada periférico.
- e) O Scandisk é um software para visualizar e-mail.

24. Qual a afirmação **VERDADEIRA** sobre o Microsoft Word e o Microsoft Excel?

- a) A combinação das teclas CTRL + X serve para sublinhar o texto.
- b) O botão  serve para copiar a formatação do texto selecionado e aplicar em outro texto.
- c) A combinação de teclas CTRL + F4 serve para minimizar as janelas.
- d) O botão  serve para sublinhar o texto com a cor preta.
- e) O botão  serve para iniciar um novo parágrafo.

25. Quanto à Internet, aponte a alternativa **CORRETA**.

- a) No Outlook é possível enviar um arquivo anexo a vários destinatários ao mesmo tempo.
- b) A Internet só permite acesso a páginas restritas de uma única empresa ou órgão público.
- c) O WWW é um serviço de entrega de mensagens eletrônicas para cidadãos de vários países.
- d) O Outlook é um software que viabiliza a navegação na Web.
- e) Download é um serviço que permite bater papo na Internet.

- 26.** A história do Maranhão é rica em conflitos históricos. No período colonial ocorreu uma revolta de caráter nativista, que tinha como principais objetivos abastecer a região com mão de obra escrava e produtos comerciais, bem como, sanar os conflitos com a Companhia Geral de Comércio do Maranhão. Este movimento foi
- a) Revolta dos Emboabas.
 - b) Revolta da Balaiada.
 - c) Revolta de Beckman.
 - d) Revolta de Amador Bueno.
 - e) Rebelião dos Holandeses.
- 27.** No contexto do processo de colonização do Brasil, dentro do modelo colonial, tivemos o surgimento de Matões, onde sua história está intrinsecamente ligada à origem do município de Parnarama. Sobre a história de Parnarama, atrelada ao contexto histórico do município de Matões, podemos afirmar:
- a) surgiu a partir da ação dos jesuítas, que tinha como base ocupar a região pelo processo de catequese.
 - b) o município tem sua origem no corredor migratório para o Estado do Piauí, no transporte do gado.
 - c) Parnarama surgiu a partir dos sertanismo de contrato em busca de nativos para o escravismo colonial interno.
 - d) teve sua origem na atuação dos sertanistas, nos corredores migratórios de colonizadores e viajantes.
 - e) Parnarama surgiu como foco de resistência ao ataque aos grupos nativos da região no século XIX.
- 28.** Uma das características do Estado do Maranhão é sua riqueza de diversidades e manifestações culturais. As lendas e os mistérios povoam a mentalidade popular do Estado. Entre as lendas do Maranhão tem uma que é a mais popular na cidade de São Luís. Assinale esta manifestação cultural da capital maranhense.
- a) A lenda de Dom Sebastião.
 - b) Manguda.
 - c) Ana Jansen e sua carruagem encantada.
 - d) Da Fonte do Ribeirão.
 - e) Bumba meu boi.
- 29.** A morte de Margareth Thatcher, conhecida como Dama de Ferro, em 08/04/2013, principal figura da política britânica na década de 80, suscitou muitas discussões, entre elas,
- a) a presença feminina no ambiente político internacional.
 - b) o legado político e econômico na implantação do neoliberalismo.

- c) a ampla política desenvolvida para proteção dos trabalhadores ingleses.
- d) a sua neutralidade política na Guerra das Malvinas.
- e) a sua atuação como a primeira mulher a defender um liberalismo conservador protegendo a legislação trabalhista inglesa.

30. “DADOS NOVOS, PROBLEMAS ANTIGOS - O Brasil aumentou significativamente os gastos com o sistema educacional, mas como mostram os dados mais recentes, ainda somos um país sem avanços notáveis.” (Revista Veja, 10/07/2013. p.100). Esta foi a chamada da reportagem na citada revista sobre a educação brasileira. Sobre este assunto, podemos apontar alguns pontos que colaboram para colocar o país sem “avanços notáveis” no setor, como:

- a) a falta de atenção ao sistema profissionalizante; a iniciativa privada ainda tem um maior número de matrículas no ensino superior; a falta de fiscalização na aplicação dos recursos públicos neste setor e outros.
- b) a necessidade de aprovações de planos de cargos e salários nos municípios; criação de sistema de currículo mais plural e criar um sistema de distribuição de livro para os alunos de escolas públicas.
- c) aprovação da Lei de Diretrizes e Bases (LDB); criação de um sistema de educação mais conservador e aplicação dos recursos maiores nos locais mais distantes.
- d) a criação de prova central para avaliar o ensino médio, base para o mercado de trabalho; instalação de unidades federais de ensino nos municípios e implantação da Prova Brasil.
- e) aplicação dos recursos apenas no ensino fundamental, deixando à iniciativa privada a responsabilidade do ensino superior, com ampliação do PROUNI – Programa Universidade para Todos; a instalação de escolas industriais em substituição das escolas agrícolas e implantação da Lei de Diretrizes e Bases (LDB) em cada município.

CONHECIMENTOS ESPECÍFICOS

31. Quanto à Contabilidade Pública no Brasil, examine as afirmativas abaixo.

- I. É disciplina que aplica, na Administração Pública, as técnicas de registros e apurações dos atos e fatos contábeis, em harmonia com as normas gerais do direito financeiro.
- II. É atípica à administração das agências reguladoras e das empresas.
- III. Consiste no ramo da Contabilidade que estuda e orienta, controla e demonstra a organização e a execução da fazenda pública, o Patrimônio Público e suas variações.
- IV. Segundo as especializações, classifica-se em contabilidade municipal, estadual e federal.

São corretas **APENAS** as afirmativas:

- a) I e II.
- b) I e III.
- c) III e IV.
- d) I, II e IV.
- e) II, III e IV.

32. A Lei nº 4.320/64 em seu art. 34 define o exercício financeiro, que compreende

- a) 12 meses coincidindo com o ano-calendário.
- b) 12 meses consecutivos quaisquer.
- c) 18 meses consecutivos.
- d) 18 meses coincidindo com o ano civil.
- e) 24 meses consecutivos.

33. O Plano Plurianual tem período de vigência definido. Qual das alternativas abaixo define corretamente esse período?

- a) Anual.
- b) Bianual.
- c) Trienal.
- d) Quadrienal.
- e) Quinquenal.

34. Os Créditos Adicionais classificam-se em

- a) suplementares, especiais e extraordinários.
- b) complementares, suplementares e de calamidade pública.
- c) suplementares, de reforço e extraordinários.
- d) complementares, especiais.
- e) suplementares, extraordinários e de calamidade pública.

35. Faça a relação entre os estágios e a caracterização da Receita e da Despesa Pública, numerando a coluna da esquerda de acordo com a direita.

- | | | |
|------------------|-----|---|
| 1 – Lançamento | () | Ato emanado de autoridade competente que cria para o Estado obrigação de pagamento, pendente ou não de implemento de condição. |
| 2 – Arrecadação | () | Momento em que os contribuintes comparecem perante aos Agentes arrecadadores a fim de liquidarem suas obrigações para com o Estado. |
| 3 – Recolhimento | () | Emissão de cheque ou ordem bancária em favor do credor. |
| 4 – Empenho | () | Verificação do implemento de condição, ou seja, verificação objetiva do cumprimento contratual. |
| 5 – Liquidação | () | Relação individualizada dos contribuintes, discriminando a espécie, o valor e o vencimento do imposto de cada um. |
| 6 – Pagamento | () | Ato pelo qual os agentes arrecadadores entregam diariamente ao Tesouro Público o produto da arrecadação. |

Marque a sequencia **correta**.

- a) 4, 2, 6, 5, 1, 3.
- b) 1, 3, 6, 5, 4, 2.
- c) 4, 2, 6, 3, 1, 5.
- d) 1, 3, 5, 6, 4, 2.
- e) 5, 2, 3, 1, 4, 6.

36. Os Créditos Adicionais Especiais têm por característica

- a) atenderem as despesas de caráter urgente e imprevisto.
- b) destinarem-se ao reforço de dotação orçamentária insuficiente.
- c) serem previstos na Lei Orçamentária Anual.
- d) dependerem da existência de recursos para financiá-los.
- e) independerem de autorização legislativa.

37. Quanto aos TIPOS de Créditos Adicionais (art. 41 da Lei 4.320/64), analise o quadro abaixo, que mostra um resumo das principais características dos referidos créditos, e assinale a alternativa que preenche corretamente as linhas pontilhadas da tabela.

| CARACTERÍSTICAS | CRÉDITOS ADICIONAIS | | |
|--------------------------------|--|--|--|
| | | | |
| Autorização Legislativa | Prévia, em Lei especial ou incluída na LOA | Prévia em Lei Especial | Independente de Lei |
| Abertura | Decreto do Executivo | Decreto do Executivo | Decreto do Executivo (Estados e Municípios) Medida Provisória (União) |
| Vigência | No Exercício | No Exercício, se aberto nos últimos quatro meses poderá ser prorrogado para o exercício seguinte | No Exercício, se aberto nos últimos quatro meses poderá ser prorrogado para o exercício seguinte |
| Fonte de Recursos | Requer | Requer | Independente |

- a) Suplementares, Especiais e Extraordinários.
- b) Complementares, Extraordinários e Especiais.
- c) Especiais, Suplementares e Extraordinários.
- d) Extraordinários, Especiais e Suplementares.
- e) Suplementares, Complementares e Especiais

38. Conforme a Lei das Licitações e Contratos n.º 8.666/93 e a Lei n.º 10.520/02, assinale a alternativa que elenca as modalidades de licitação:
- a) convite, concorrência pública, tomada de preços, concurso e dispensa de licitação.
 - b) tomada de preços, convite, concorrência pública, pregão e inexigibilidade.
 - c) concorrência pública, convite, tomada de preços, concurso e inexigibilidade.
 - d) concorrência pública, tomada de preços, convite, concurso, leilão e dispensa de licitação.
 - e) concorrência pública, tomada de preços, convite, concurso, leilão e pregão.
39. Consideram-se restos a pagar, de acordo com o art.36 da Lei nº 4.320/64, as despesas legalmente empenhadas, mas não pagas dentro do exercício financeiro, distinguindo-se as processadas das não-processadas.

É **CORRETO** afirmar que Restos a Pagar Processados referem-se a despesa

- a) empenhada, paga, mas ainda não liquidada.
 - b) empenhada, liquidada, mas ainda não paga.
 - c) empenhada, liquidada e paga.
 - d) empenhada, em liquidação e paga.
 - e) extra orçamentária a pagar.
40. Na Lei 4.320/64 em seu art. 34 consta que as despesas de exercícios encerrados, para os quais o orçamento respectivo consignava crédito próprio, com saldo suficiente para atendê-las, que não tenham processado na época própria, bem como os Restos a Pagar com prescrição interrompida e os compromissos reconhecidos após o encerramento do exercício poderão ser pagos à conta de dotação específica consignada no orçamento, discriminada por elementos, obedecida, sempre que possível, a ordem cronológica.

Qual despesa classifica-se como Despesa de Exercício Anterior?

- a) Despesa com Salário Família referente a registro de nascimento ocorrido no ano anterior.
 - b) Despesa com materiais de expediente, empenhada legalmente em período anterior.
 - c) Compra de móveis diversos para utilização na unidade.
 - d) Pagamento de compra de móveis diversos empenhada em período anterior.
 - e) Resgate de Operação de Crédito empenhada no período anterior.
41. O controle interno é peça fundamental para o pleno exercício da Administração Pública. Examine atentamente as afirmações abaixo e responda a seguinte questão:

Qual a função do Controle Interno?

- a) Apreciar as contas prestadas anualmente pelo chefe do Poder Executivo.
- b) Julgar as contas dos administradores e demais responsáveis por dinheiros, bens e valores públicos.
- c) Apreciar, para fins de registro, a legalidade da concessão de aposentarias e pensões.

- d) Realizar, por iniciativa própria, inspeções e auditorias de natureza contábil, financeira e orçamentária.
- e) Apoiar o controle externo no exercício de sua missão institucional.

42. Examine as afirmações concernentes aos Tribunais de Contas.

- I. O Tribunal de Contas, no Brasil, é órgão do Poder Executivo.
- II. O Tribunal de Contas é preposto do Poder Judiciário.
- III. O Tribunal de Contas é órgão judicante, por excelência, cível e criminal.
- IV. Compete ao Tribunal de Contas, entre outras atribuições, fiscalizar a aplicação de quaisquer recursos repassados pelos entes federativos mediante convênio, acordo, ajuste ou outros instrumentos congêneres.
- V. Cabe ao Tribunal de Contas apreciar, com definitividade, as contas dos administradores.

Assinale a alternativa **CORRETA**.

- a) Todas estão corretas.
- b) Somente uma é correta.
- c) Duas estão incorretas.
- d) Todas estão incorretas.
- e) Duas estão corretas.

43. Analise as afirmações em relação a Lei de Responsabilidade Fiscal e responda a seguinte questão: Quais os instrumentos de transparência da gestão fiscal?

- a) O orçamento fiscal, da seguridade social e de investimentos das estatais.
- b) Os instrumentos de planejamento: Plano Plurianual, Lei de Diretrizes orçamentárias e Lei de Orçamentária Anual.
- c) Os demonstrativos da execução orçamentária, compreendendo os Gastos com Educação, Pessoal, Saúde e Dívida Pública.
- d) Os planos, orçamentos e leis de diretrizes orçamentárias; as prestações de contas, o respectivo parecer prévio, os demonstrativos dos limites da dívida pública e as despesas com pessoal.
- e) Os planos, orçamentos e leis de diretrizes orçamentárias; as prestações de contas e o respectivo parecer prévio; o Relatório Resumido da Execução Orçamentária e o Relatório de Gestão Fiscal; e as versões simplificadas desses documentos.

44. A Lei de Responsabilidade Fiscal, em cada período de apuração, determina dois limites distintos para os gastos públicos com pessoal que NÃO poderão exceder

- a) 50% para União e 60% para os Estados e Municípios da receita corrente líquida.
- b) 60% para União e 50% para os Estados e Municípios da receita corrente líquida.
- c) 50% para União e 54% para os Estados e Municípios da receita orçamentária.
- d) 50% para União e 54% para os Estados e Municípios da receita corrente líquida.
- e) 40,9% para União e 49% para os Estados e Municípios da receita orçamentária.

45. De acordo com a Lei Complementar nº 101/2000, o campo de aplicação da Contabilidade Pública é (são)

- I. somente a Administração Pública.
- II. somente a Administração Indireta.
- III. todos os órgãos que dependem do Orçamento fiscal e da Seguridade Social, inclusive as empresas dependentes.
- IV. a Administração Direta e Indireta, excluídas as Empresas Públicas.
- V. somente o Poder Executivo, o Judiciário e o Ministério Público.

Está **CORRETO** o que se afirma **APENAS** em

- a) I.
- b) II.
- c) III.
- d) I, III e IV.
- e) II, III e V.

46. Conforme os demonstrativos contábeis previstos na Lei nº 4320/64, a ocorrência ou não de superávit financeiro pode ser verificada no(a)

- a) Balanço Patrimonial.
- b) Balanço Orçamentário.
- c) Balanço Financeiro.
- d) Demonstração das Variações Patrimoniais.
- e) Demonstração dos Fluxos de Caixa.

47. Relacione as Demonstrações Contábeis aplicadas no Setor Público com seus respectivos conceitos.

- 1. Demonstração das Variações Patrimoniais
- 2. Demonstração do Fluxo de Caixa
- 3. Demonstração do Resultado Econômico
- 4. Balanço Patrimonial
- 5. Demonstração das Mutações no Patrimônio Líquido

- () Evidencia, qualitativa e quantitativamente, a situação patrimonial da entidade, por meio de contas representativas do Patrimônio Público, além das contas de compensação.
- () Evidencia no mínimo os itens constituídos na estrutura descrita nesta parte, segregados em colunas.
- () Permite um melhor gerenciamento e controle financeiro dos órgãos e entidades do setor público e objetivo é contribuir para a transparência da gestão pública.
- () Permite a evidenciação de resultados alcançados, objetiva a verificação da otimização dos benefícios gerados à sociedade.
- () Evidencia as alterações verificadas no patrimônio, consiste nas variações quantitativas e qualitativas, confrontando as variações patrimoniais quantitativas aumentativas e diminutivas.

Assinale a sequência **CORRETA**.

- a) 4, 2, 3, 5, 1.
- b) 4, 5, 2, 3, 1.
- c) 1, 4, 3, 2, 5.
- d) 1, 5, 2, 3, 4.
- e) 5, 4, 3, 1, 2.

48. A lei orçamentária não poderá conter dispositivo estranho à fixação das despesas e previsão das receitas. Esta lei expressa qual princípio da administração pública?

- a) Exclusividade.
- b) Unidade.
- c) Universalidade.
- d) Especificação.
- e) Orçamento Bruto.

Examine as informações abaixo para responder a questões **49** e **50**.

Em 31 de dezembro foi elaborado o seguinte quadro demonstrativo, referente à execução orçamentária e financeira de um determinado município da federação:

| RECEITAS | PREVISTAS | EXECUTADAS |
|-----------------|------------------|-------------------|
| Correntes | 55.000,00 | 117.000,00 |
| De Capital | 250.000,00 | 234.000,00 |
| Despesas | Fixadas | Executadas |
| Correntes | 78.000,00 | 55.000,00 |
| De Capital | 247.000,00 | 247.000,00 |

49. Na elaboração do balanço orçamentário, o resultado do orçamento corrente correspondeu a

- a) superávit de 23.000,00
- b) superávit de 62.000,00
- c) déficit de 23.000,00
- d) déficit de 55.000,00
- e) déficit de 62.000,00

50. O mesmo balanço demonstrou que o Resultado Orçamentário Geral correspondeu a

- a) déficit de 36.000,00
- b) déficit de 49.000,00
- c) superávit de 55.000,00
- d) superávit de 49.000,00
- e) superávit de 36.000,00