



Vestibular UESPI 2011



Universidade Estadual do Piauí

PROVA III – Tipo 3
GEOGRAFIA – HISTÓRIA
DATA: 06/12/2010 – HORÁRIO: 8h30min às 12h30min (horário do Piauí)

LEIA AS INSTRUÇÕES:

- Você deve receber do fiscal o material abaixo:
 - Este caderno com 60 questões objetivas sem repetição ou falha.
 - Um CARTÃO-RESPOSTA destinado às respostas objetivas da prova.
- Verifique se este material está completo e se seus dados pessoais conferem com aqueles constantes do CARTÃO-RESPOSTA.
- Após a conferência, você deverá assinar seu nome completo, no espaço próprio do CARTÃO-RESPOSTA utilizando caneta esferográfica com tinta de cor azul ou preta.
- Escreva o seu nome nos espaços indicados na capa deste CADERNO DE QUESTÕES, observando as condições para tal (assinatura e letra de forma), bem como o preenchimento do campo reservado à informação de seu número de inscrição.
- No CARTÃO-RESPOSTA, a marcação das letras correspondentes às respostas de sua opção, deve ser feita com o preenchimento de todo o espaço do campo reservado para tal fim.
- Tenha muito cuidado com o CARTÃO-RESPOSTA, para não dobrar, amassar ou manchar, pois este é personalizado e em hipótese alguma poderá ser substituído.
- Para cada uma das questões são apresentadas cinco alternativas classificadas com as letras (A), (B), (C), (D) e (E); somente uma responde adequadamente ao quesito proposto. Você deve assinalar apenas **uma alternativa para cada questão**: a marcação em mais de uma alternativa anula a questão, **mesmo que uma das respostas esteja correta**; também serão nulas as marcações rasuradas.
- As questões são identificadas pelo número que fica à esquerda de seu enunciado.
- Os fiscais não estão autorizados a emitir opinião nem a prestar esclarecimentos sobre o conteúdo das provas. Cabe única e exclusivamente ao candidato interpretar e decidir a este respeito.
- Reserve os 30 (trinta) minutos finais para marcar seu CARTÃO-RESPOSTA. Os rascunhos e as marcações assinaladas no CADERNO DE QUESTÕES não serão levados em conta.
- Quando terminar sua Prova, antes de sair da sala, assine a LISTA DE FREQUÊNCIA, entregue ao Fiscal o CADERNO DE QUESTÕES e o CARTÃO-RESPOSTA, que deverão conter sua assinatura.
- O TEMPO DE DURAÇÃO PARA ESTA PROVA É DE 4h (QUATRO HORAS).
- Por motivos de segurança, você somente poderá ausentar-se da sala de prova após decorridas **2 (duas) horas** do início de sua prova.
- O rascunho ao lado não tem validade definitiva como marcação do Cartão-Resposta, destina-se apenas à conferência do gabarito por parte do candidato.

Nº DE INSCRIÇÃO				

Assinatura

Nome do Candidato (letra de forma)

PROCESSO SELETIVO VESTIBULAR UESPI / 2011
FOLHA DE ANOTAÇÃO DO GABARITO - ATENÇÃO: Esta parte somente deverá ser destacada pelo fiscal da sala, após o término da prova.
NÚCLEO DE CONCURSOS E PROMOÇÃO DE EVENTOS – NUCEPE

RASCUNHO			
01	<input type="checkbox"/>	31	<input type="checkbox"/>
02	<input type="checkbox"/>	32	<input type="checkbox"/>
03	<input type="checkbox"/>	33	<input type="checkbox"/>
04	<input type="checkbox"/>	34	<input type="checkbox"/>
05	<input type="checkbox"/>	35	<input type="checkbox"/>
06	<input type="checkbox"/>	36	<input type="checkbox"/>
07	<input type="checkbox"/>	37	<input type="checkbox"/>
08	<input type="checkbox"/>	38	<input type="checkbox"/>
09	<input type="checkbox"/>	39	<input type="checkbox"/>
10	<input type="checkbox"/>	40	<input type="checkbox"/>
11	<input type="checkbox"/>	41	<input type="checkbox"/>
12	<input type="checkbox"/>	42	<input type="checkbox"/>
13	<input type="checkbox"/>	43	<input type="checkbox"/>
14	<input type="checkbox"/>	44	<input type="checkbox"/>
15	<input type="checkbox"/>	45	<input type="checkbox"/>
16	<input type="checkbox"/>	46	<input type="checkbox"/>
17	<input type="checkbox"/>	47	<input type="checkbox"/>
18	<input type="checkbox"/>	48	<input type="checkbox"/>
19	<input type="checkbox"/>	49	<input type="checkbox"/>
20	<input type="checkbox"/>	50	<input type="checkbox"/>
21	<input type="checkbox"/>	51	<input type="checkbox"/>
22	<input type="checkbox"/>	52	<input type="checkbox"/>
23	<input type="checkbox"/>	53	<input type="checkbox"/>
24	<input type="checkbox"/>	54	<input type="checkbox"/>
25	<input type="checkbox"/>	55	<input type="checkbox"/>
26	<input type="checkbox"/>	56	<input type="checkbox"/>
27	<input type="checkbox"/>	57	<input type="checkbox"/>
28	<input type="checkbox"/>	58	<input type="checkbox"/>
29	<input type="checkbox"/>	59	<input type="checkbox"/>
30	<input type="checkbox"/>	60	<input type="checkbox"/>

Nº DE INSCRIÇÃO

--	--	--	--	--	--	--

GEOGRAFIA

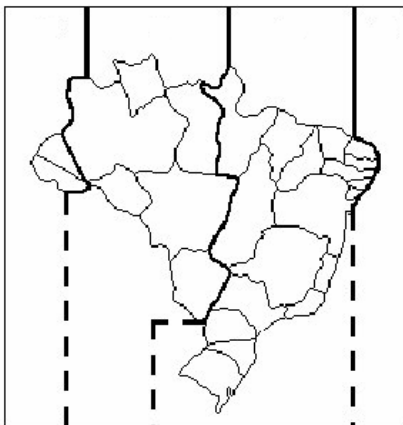
01. Leia com atenção o texto a seguir.

“No campo teórico da Geografia podem ser observadas diversas correntes. No século XIX, por exemplo, o geógrafo alemão Friedrich Ratzel escreveu um importante trabalho intitulado, em português, “Antropogeografia: fundamentos da aplicados à História”. Ratzel considera, nesse trabalho, as influências que as condições naturais exerceriam sobre a humanidade, defendendo que o meio natural definiria até a fisiologia e a psicologia humanas. O homem seria, portanto, muito marcado pelo ambiente natural. Ratzel foi, obviamente, influenciado pela teoria evolutiva de Charles Darwin...”

Que corrente teórica da Geografia está descrita acima?

- A) Naturalismo Geoeconômico.
- B) Possibilismo Geográfico.
- C) Princípio das Causas Naturais.
- D) Determinismo Geográfico.
- E) Ecologismo Geocientífico.

02. Observe atentamente o mapa a seguir



É correto afirmar que esse mapa refere-se::

- A) as Zonas Longitudinais Geoeconômicas do Brasil
- B) a Divisão dos Grandes Domínios Territoriais no Brasil Colonial.
- C) aos Fusos Horários do Brasil.
- D) as Faixas de Povoamento no Brasil Colonial.
- E) a Antiga Divisão Territorial do Brasil.

03. Um grupo de estudantes do Ensino Médio recebeu a incumbência de realizar estudos sobre a realidade sócio-ambiental do Estado do Piauí. Para desenvolver uma análise mais detalhada de uma dada região que se apresenta com preocupantes problemas ambientais, o grupo necessitou de um mapa que possuísse detalhes da região. Na pesquisa cartográfica, o grupo encontrou cinco mapas temáticos em escalas diferentes. Assinale aquela que melhor permitiria esse estudo detalhado.

- A) 1: 1.000.000.
- B) 1:100.000.
- C) 1: 600.000.
- D) 1: 250.000.
- E) 1: 50.000.

04. Os sistemas de projeção são indispensáveis para a elaboração de qualquer tipo de mapa. Com relação a esse assunto, observe o mapa a seguir e assinale o sistema de projeção correspondente.



- A) Projeção Poligonal.
- B) Projeção Azimutal Equidistante Polar.
- C) Projeção Cilíndrica.
- D) Projeção Policônica.
- E) Projeção Ortogonal.

05. O texto a seguir aborda um dos grandes compartimentos de relevo observados no Nordeste brasileiro. Leia-o.

“Trata-se de um conjunto de formas de relevo que, esculpidas no cristalino, acham-se inteiramente contidas na região nordestina. Geologicamente, corresponde o conjunto a um dos compartimentos, ou núcleos, melhor individualizados. Sua individualidade foi mais precisa, ainda, no Cretáceo. Nesse conjunto encontram-se as áreas de maior altitude no Estado de Pernambuco. No Terciário, esforços epirogênicos começaram a soerguê-lo. Estende-se de Alagoas até o Rio Grande do Norte.”

O conjunto referido corresponde à (ao):

- A) Chapada do Apodi.
- B) Pediplano Sanfranciscano.
- C) Planalto da Borborema.
- D) Depressão Sertaneja
- E) Pediplano Nordestino.

06. Observe o mapa a seguir.



A parte escura do mapa corresponde do ponto de vista geográfico à (ao):

- A) área de influência do Nafta.
- B) área tectonicamente estável do Hemisfério Sul.
- C) região do Cinturão de Fogo
- D) América Latina
- E) domínio dos países com IDH elevado.

07. Um pesquisador, investigando os principais aspectos do meio natural de uma área semiárida do Nordeste brasileiro defrontou-se com a paisagem fotografada e exposta a seguir.



Qual deverá ser a denominação que o pesquisador utilizará para definir esses elementos paisagísticos?

- A) Inselbergues sedimentares.
 - B) Matacões.
 - C) Afloramentos sedimentares.
 - D) Falhas.
 - E) Dobras.
08. A paisagem exibida a seguir foi fotografada numa determinada área do Estado do Piauí. Examine-a.



Pelos aspectos observados é correto concluir que se trata de um(a):

- A) Voçoroca.
 - B) Fratura tectônica.
 - C) Duna erodida.
 - D) Terraço marinho degradado.
 - E) Restinga fluvial erodida.
09. Depois de aproximadamente 11 minutos, a energia do Sol chega à Terra. Já que o Sol é muito maior que a Terra, os raios chegam praticamente paralelos entre si. Essa energia emitida pela estrela, importantíssima para a compreensão dos fenômenos meteorológicos e climáticos, é também denominada de:
- A) radiação de ondas longas.
 - B) convecção solar.
 - C) advecção solar.
 - D) radiação de ondas curtas.
 - E) irradiação turbulenta.

10. Existem diversas expressões que são geralmente empregadas na relação Terra-Sol, tais como **Afélio**, **Equinócios**, **Solstícios**, **Eclíptica**, **Periélio** etc. Afélio é :

- A) a parte do hemisfério sul que não fica iluminada durante o inverno.
- B) o momento em que a Terra se afasta mais do Sol.
- C) o tempo em que tem início a primavera no hemisfério norte.
- D) a porção mais iluminada do Sol voltada à Terra.
- E) o conjunto de explosões gigantescas que se verificam na coroa solar.

11. Muitas formas de atividades agrícolas geram quantidades surpreendentes dos constituintes dos gases de estufa. Destaca-se, entre essas atividades :

- A) o cultivo da cana-de-açúcar, principalmente no Brasil e no Caribe.
- B) a cafeicultura.
- C) o plantio de uva.
- D) o cultivo de arroz.
- E) o plantio de algaroba em áreas semiáridas.

12. Observe a fotografia a seguir.



É correto afirmar que esse é um espaço geográfico porque:

- 1) existem entre as casas restos de uma formação vegetal nativa que dominava na área.
- 2) É uma cidade planejada que está em consonância com as condições edáficas e inexistem afloramentos rochosos.
- 3) Há marcas na paisagem das ações antrópicas.
- 4) foi produzido pelo homem no outrora espaço natural.
- 5) o espaço onde se instalou uma cidade é plano, e inexistem evidências mais significativas do quadro natural.

Está(ão) correta(s) apenas:

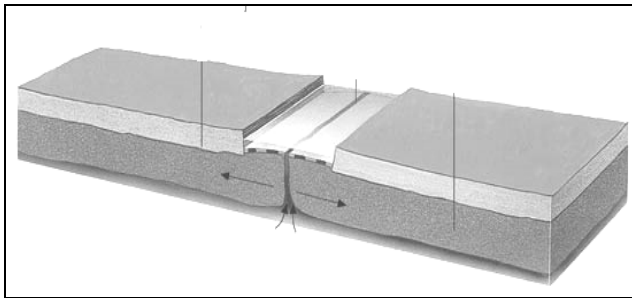
- A) 1
- B) 1 e 2
- C) 3 e 4
- D) 2, 3 e 5
- E) 1, 3, 4 e 5.

13. A fotografia a seguir mostra uma rede de drenagem em determinada região brasileira. Observe-a.



Esse tipo de hidrografia, pelas características observadas, é típica do seguinte tipo de relevo:

- A) paisagens geomorfológicas fluviais apalachianas.
B) planaltos cristalinos.
C) cuevas flúvio-lacustrinas.
D) planícies fluviais.
E) maciços residuais.
14. A Teoria da Tectônica de Placas explica diversos tipos de estrutura verificados na Litosfera. Observe a ilustração a seguir.



De acordo com essa teoria, esse desenho esquemático ilustra o (a)

- A) colisão de placas oceânica e continental.
B) mecanismo de subdução de placas litosféricas.
C) gênese dos arcos de ilhas e subsidência magmática.
D) formação tricheiras oceânicas.
E) expansão do assoalho submarino e a ascensão do magma.
15. As afirmativas a seguir apresentam algumas das principais características dos grandes espaços naturais brasileiros.
- 1) O solo amazônico, em geral, é considerado pobre para a realização de atividades agrícolas, pois apresenta baixo índice de nutrientes, além de ser ligeiramente ácido e bastante arenoso.
 - 2) Os maiores agentes de agressão ambiental no domínio dos cerrados são a intensa mecanização da lavoura, as queimadas constantes e a utilização intensiva de agrotóxicos; esses fatos contribuem para a redução da biodiversidade.
 - 3) O Pantanal, considerado como Patrimônio Nacional, possui uma vocação natural para o ecoturismo, uma vez que há um mercado muito consolidado na Europa e nos Estados, que promovem caminhadas e safáris fotográficos nesse espaço do Centro-Oeste brasileiro.

- 4) Os principais problemas dos ambientes costeiros brasileiros são a superexploração de seus recursos naturais, a alteração da rede de drenagem, a poluição causada, às vezes, pelo derramamento de petróleo, e a sua conversão em áreas industriais e urbanas.
- 5) Os campos do Sul do Brasil, também designados como pampas, pradarias e zonas de coxilhas, são constituídos por áreas de predomínio de herbáceas, localizados principalmente no Rio Grande do Sul, em áreas de clima subtropical.

Estão corretas:

- A) 1 e 4 apenas.
B) 1 e 5 apenas.
C) 2, 3 e 4 apenas.
D) 2, 4 e 5 apenas.
E) 1, 2, 3, 4 e 5.

16. No século XIX, a Geografia veio a se tornar uma ciência com método próprio de investigação e análise. Em relação a esta ciência, analise as alternativas abaixo e assinale a única correta.

- A) No Brasil, a Geografia científica teve início nas primeiras décadas do Século XX, graças à influência da Escola clássica de Jean Brunhes e de Frederico Ratzel.
- B) Trabalhos revelando preocupações com temas geográficos, tais como inventários de população e povoamento, identificação de formas de exploração e cultivo da terra, identificação de fenômenos e problemas ambientais, mapeamentos, somente vieram a ser realizados a partir da formação da Geografia Moderna, quando Humboldt e Ritter forneceram os seus ensinamentos.
- C) O conhecimento geográfico além de contribuir para a formação cultural dos indivíduos vem sendo utilizado, também, de forma pragmática, ao longo dos tempos.
- D) Os princípios do método geográfico da extensão, da analogia e da atividade foram formulados pelos mestres alemães Frederico Ratzel, Alexandre Humboldt e Karl Ritter, respectivamente.
- E) No princípio da Atividade, formulado por Vidal de la Blache, o geógrafo procura observar o caráter dinâmico do fato geográfico uma vez que o espaço geográfico se encontra em constante mudança, em transformação.

17. A regionalização mundial, realizada com base no critério de expansão e internacionalização dos mercados, agrupa os países em:

- A) Primeiro Mundo, Segundo Mundo e Terceiro Mundo.
B) Países exportadores de matérias-primas e países exportadores de Tecnologia.
C) Países Desenvolvidos, Países em Desenvolvimento e Países Subdesenvolvidos.
D) Países Centrais, Mercados Emergentes e Países Periféricos.
E) Países Ricos, Mercados Emergentes e Países Subdesenvolvidos.

18. A atividade industrial no Piauí, apesar da iniciativa arrojada desde o início do Século XX, não conseguiu ainda ter grande destaque no cenário regional. Com base na história da indústria piauiense, pode-se afirmar que:

- 1) Uma das principais atividades de processamento de produtos no Estado foi a preparação da carne de bovinos para comercialização com outras regiões do país, fato que ficou conhecido como “as charqueadas”.
- 2) Em vários municípios, ainda existe a elaboração de produtos feitos de forma artesanal, em pequenas unidades de produção com uso de uma pequena tecnologia.
- 3) Na história da indústria piauiense, há de se ressaltar os esforços de implantação de indústrias em Teresina, na primeira metade do Século XX, com destaque para a indústria têxtil, conhecida como “fiação”.
- 4) Atualmente, foram instituídos incentivos fiscais, através da Lei 4503 de 1992, que vem sendo adaptada à nova realidade, no sentido de atrair investidores para o setor industrial piauiense.
- 5) Hoje, o parque fabril é formado de indústrias de produção de cimento, bicicletas, eletrodomésticos, couros e peles, bebidas, cera de carnaúba, confecções, fiação e tecelagem, de alimentos, química e construção civil.

Estão corretas:

- A) 1 e 2 apenas
- B) 1, 2, 3, 4 e 5
- C) 1, 3, 4 e 5 apenas
- D) 2, 3 e 4 apenas
- E) 3 e 4 apenas

19. O transporte ferroviário é um dos principais elementos catalisadores do desenvolvimento econômico, social e ambiental integrado e sustentável de uma região. Sob esse enfoque, foi projetada a ferrovia Transnordestina, que:

- 1) permitirá a integração contínua e acelerada da estrutura produtiva do Nordeste com as demais regiões.
- 2) Integrará o sistema hidroviário do São Francisco, o sistema ferroviário sertanejo e o sistema rodoviário já existente, tornando mais eficiente a logística do transporte de carga.
- 3) Unirá as três portas mortas do sistema ferroviário do Nordeste: Missão Velha (CE), Salgueiro (PB) e Petrolina (PE), alavancando o desenvolvimento econômico de diversos setores, em sua área de abrangência, especialmente o polo Gesseiro do Araripe e o polo Agroindustrial de Petrolina e Juazeiro.
- 4) Contribuirá para a dinamização da atividade econômica nas áreas próximas à malha, aumentando, assim, a geração de emprego e renda e reduzindo as desigualdades sociais.
- 5) Propiciará a articulação da hidrovía do São Francisco, principalmente, com os portos de Pecém (CE) e Suape (PE), ligando-os ao cerrado piauiense.

Estão corretas:

- A) 1 e 5 apenas
- B) 2, 3 e 4 apenas
- C) 1, 4 e 5 apenas
- D) 1, 3, 4 e 5 apenas
- E) 1, 2, 3, 4 e 5

20. Considerando o fenômeno da urbanização no Piauí, analise as proposições abaixo:

- 1) A exemplo do que ocorreu no Brasil, o processo de urbanização no Estado se intensificou a partir de 1950 quando a população urbana foi se ampliando em proporção superior à população rural.
- 2) A criação de novos municípios no Estado, a partir de 1950, foi fator que também influenciou o processo de urbanização, uma vez que, no Brasil, de acordo com o IBGE, toda sede municipal é considerada cidade.
- 3) A expansão e a melhoria da rede rodoviária foram, entre outros fatores, responsáveis pela aceleração do processo de urbanização em determinadas áreas do Estado, no Século XX.
- 4) Segundo o IBGE, a área de influência de Teresina, que, em 1993, se estendia por todo o Estado do Piauí, por trechos do Ceará e do Maranhão, hoje se amplia, atingindo os estados do Tocantins e do Pará.
- 5) As atividades econômicas representadas pela indústria e pelos serviços são as grandes responsáveis pelo fato de a cidade de Teresina ser incluída na categoria de sub-metrópole do Estado.

Está(ao) correta(s) apenas:

- A) 2, 3, 4 e 5
- B) 3, 4 e 5
- C) 1, 2, 3, 4
- D) 1 e 3
- E) 1

21. Considerando a posse e uso da terra no Piauí, analise as afirmativas abaixo.

- 1) A pecuária intensiva ao lado da agricultura de subsistência foi responsável pela colonização e povoamento do território.
- 2) A concentração fundiária hoje existente no Estado tem suas origens históricas relacionadas ao próprio processo de produção e uso do solo.
- 3) Apesar da modernização e especialização da atividade agropecuária que caracteriza determinadas áreas rurais do Estado, técnicas tradicionais de manejo ainda são desenvolvidas em determinados locais onde se utiliza, inclusive, a prática da queimada.
- 4) Um grande entrave à agricultura familiar, responsável por grande parte da produção de alimentos é o problema relacionado à falta de terras, de recursos financeiros e de assistência técnica ao produtor.
- 5) A pecuária se faz presente em todos os municípios; contudo face a fatores históricos, ambientais e de investimentos na atividade, a distribuição dos rebanhos é muito irregular no território piauiense.

Estão corretas:

- A) 2 e 4 apenas
- B) 2, 3, 4 e 5 apenas
- C) 1, 2, 3, 4 e 5
- D) 1, 3, 4 e 5 apenas
- E) 2 e 5 apenas

22. A distribuição desigual da população na superfície terrestre leva à existência de regiões densamente povoadas e de regiões subpovoadas. São exemplos de áreas densamente povoadas:

- A) Europa Setentrional e Meridional.
- B) Ásia de Sudeste e Europa Centro-Occidental e Meridional.
- C) Ásia de Sudoeste e África Meridional.
- D) Oriente Médio e Oceania.
- E) Kalaari e África Setentrional.

23. Analise a Tabela abaixo, correlacionando-a com as proposições apresentadas a seguir.

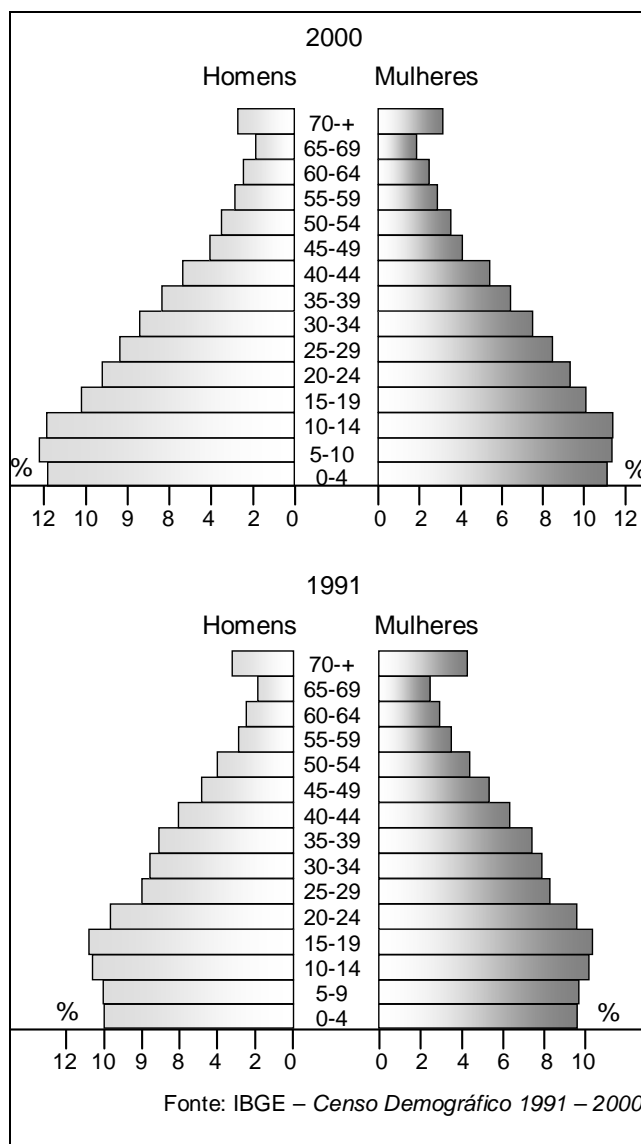
Países Mais Populosos do Mundo, Taxas de Crescimento Demográfico e Densidade Demográfica

Países	População Absoluta (em milhões) 2009	Densidade Demográfica (hab/km ²) 2009	Taxas de Crescimento Demográfico (2005-2010)
China	1.345,8	140,58	0,6
Índia	1.198,0	364,44	1,4
Estados Unidos	314,7	33,58	1,0
Indonésia	230,0	121,64	1,2
Brasil	193,7	22,75	1,0
Bangladesh	162,2	1.099,14	1,4
Federação Russa	140,9	8,25	-0,4

Fonte: Banco Mundial, 2010.

- A) Os Estados Unidos e o Brasil são os únicos países situados na América Anglo-Saxônica.
- B) Os Estados Unidos e o Brasil são os mais populosos e também os mais povoados do planeta.
- C) As taxas de crescimento demográfico mais baixas são um reflexo da ocorrência de taxas de fecundidade também baixas.
- D) Os indicadores demográficos utilizados para o cálculo da taxa de crescimento demográfico foram aqueles referentes às taxas de natalidade e de mortalidade.
- E) A densidade demográfica de Bangladesh de 1.099,14 hab/km² foi obtida da divisão da sua população relativa pela sua extensão territorial.

24. Analise as Pirâmides Etárias a seguir, correlacionando-as com as proposições apresentadas a seguir e assinale a opção correta.



- A) Estas Pirâmides Etárias são representativas de um país desenvolvido.
- B) Na análise desse Gráfico, se pode observar, além da distribuição da população por faixa etária, a sua distribuição por sexo, o comportamento de indicadores como natalidade, mortalidade, esperança de vida, bem como se ter uma noção a respeito da mão de obra disponível.
- C) Elas refletem o comportamento da estrutura etária de um país de regime demográfico de população envelhecida.
- D) O crescimento nas faixas etárias de idades superiores aos 70 anos tem reflexos diretos na economia do país, relacionados não só à questão da aposentadoria, como também a do mercado de trabalho.
- E) Comparando-se as duas Pirâmides, constata-se de 1991 para 2000, um crescimento das faixas de idades de 65 aos 69 anos e de 70 anos e mais. Os 70 anos são vistos hoje, por alguns estudiosos de população, como sendo a idade a partir da qual a população é considerada como idosa.

25. Os setores produtivos de um país são formados por um conjunto de atividades econômicas. Um exemplo de setor produtivo é o Secundário, constituído pelas seguintes atividades:

- A) agricultura, construção civil, extrativismo.
- B) construção civil, indústria de transformação, indústria extrativa vegetal e mineral, serviço industrial de utilidade pública.
- C) serviços, comércio, transportes, silvicultura.
- D) geração de energia, indústria de transformação, silvicultura, criatório.
- E) agroindústria, pecuária, caça e pesca, serviço industrial de utilidade pública.

26. O MERCOSUL, bloco econômico regional formado por países da América do Sul, atualmente, se encontra na fase de Mercado Comum. Nesta fase, o Bloco apresenta as seguintes características:

- A) Diminuição ou eliminação das tarifas alfandegárias entre os membros do grupo; livre circulação de mercadorias, pessoas e serviços no interior do Bloco.
- B) Abertura interna dos mercados e criação da TEC para regulamentação do comércio dos países do Bloco com as nações de fora.
- C) Diminuição ou eliminação das tarifas alfandegárias entre os países do Bloco; regulamentação do seu comércio com os países de fora, livre circulação de capitais, serviços e pessoas no interior do Bloco.
- D) Circulação livre de bens, serviços e pessoas no interior do Bloco; existência de uma Constituição.
- E) A prática de uma mesma política de desenvolvimento para os países membros.

27. São características das regiões geográficas brasileiras:

- 1) Atualmente, o crescimento econômico da região Centro-Oeste está atrelado ao bom desempenho da agropecuária e, principalmente, do agronegócio.
- 2) A Ferrovia Norte-Sul será um importante corredor de transporte que possibilitará a interligação entre as regiões Norte, Nordeste e o Centro-Oeste, consolidando o crescimento econômico do cerrado.
- 3) As maiores redes ferroviária e rodoviária, ao lado da presença dos mais movimentados portos e aeroportos, garantem à região Sudeste, a melhor logística de transportes do país.
- 4) Na região Nordeste, apesar da cana de açúcar continuar sendo o principal produto de exportação da sub-região da Mata nordestina, outras culturas vêm se destacando na economia regional, como a soja, no cerrado nordestino, e as lavouras irrigadas de frutas tropicais, no semiárido.
- 5) Na região Sul, a exemplo do que ocorre nas outras regiões brasileiras, os serviços são responsáveis pela maior parte da riqueza regional.

Estão corretas:

- A) 1, 2 e 3 apenas
- B) 2, 3, 4 e 5 apenas
- C) 1, 2, 3, 4 e 5
- D) 3 e 4 apenas
- E) 5 apenas

28. Dentre as alternativas abaixo, que dizem respeito à indústria brasileira no Século XXI, uma está **incorreta**. Assinale-a

- A) O Brasil detentor de um grande mercado interno, de abundantes recursos naturais, possui um parque industrial altamente diversificado e conta com um desenvolvido setor de alta tecnologia.
- B) Apesar de ser um país industrializado, apresenta indicadores sociais de países subdesenvolvidos, dependência tecnológica e necessidade de aporte de investimentos internacionais.
- C) No país, foram criados vários polos tecnológicos que concentram as atividades de pesquisa e desenvolvimento de tecnologias de ponta.
- D) As atividades desenvolvidas nos polos tecnológicos independem de outros setores da economia.
- E) Para a criação de polos tecnológicos que deram origem a instituições de ensino e pesquisa nacionais, foi fundamental o apoio governamental, colocando o país na vanguarda da tecnologia de ponta.

29. Analise as alternativas abaixo, que dizem respeito ao processo de globalização e suas consequências e assinale a **incorreta**.

- A) A mobilidade das atividades das transnacionais, o emprego de novas tecnologias nas áreas da informação e das telecomunicações, o crescimento global da produção e do capital e a interligação acelerada dos mercados foram fatores que contribuíram na segunda metade do Século XX, para a intensificação do processo de globalização.
- B) A globalização implica grande uniformização de padrões econômicos e culturais.
- C) A globalização apresenta conseqüências negativas para os países subdesenvolvidos. Uma delas se refere à falta de competitividade no mercado internacional dos produtos primários produzidos por esse grupo de países.
- D) Os resultados da globalização para os países pobres têm acarretado um elevado custo social, ocasionando a minimização do valor da mão de obra e o aumento do desemprego, com a predominância do conjuntural.
- E) Os países ricos também sofrem os efeitos do processo de globalização quando, por exemplo, as transnacionais reduzem seus custos através da redução salarial, do aumento da jornada de trabalho e da eliminação de conquistas sindicais.

30. Considerando a questão ambiental, analise as proposições abaixo.

- 1) O desenvolvimento sustentável é uma proposta de modelo de desenvolvimento fundamentado não apenas na dimensão social, mas também na dimensão ambiental.
- 2) Atualmente, ainda existem estudiosos que defendem que a preservação da natureza é uma necessidade que está acima da própria sobrevivência digna do homem. Entretanto, é possível combinar o uso racional dos recursos com a preservação da natureza.
- 3) A partir da Agenda 21 (Carta de Compromissos das Nações Unidas para o Século XXI), criada por ocasião da Eco 92, surge no Brasil, em conjunto de instrumentos legais para disciplinar o uso da água, da flora, da fauna e de outros recursos naturais.
- 4) A consciência de se utilizar os recursos naturais de forma responsável é o que deve ser buscado pelas gerações atuais, considerando os seus limites e a necessidade de reservas naturais para a preservação da biodiversidade. Isso implica mudanças de comportamento: o de produzir os bens materiais e o bem estar social, sem provocar prejuízos ao ambiente.
- 5) O meio ambiente apresenta dimensões ecológicas e socioambientais. Assim, a forma de convivência com a natureza está relacionada aos níveis de educação, de tecnologia e de crenças e valores de um povo.

Estão corretas apenas:

- A) 1 e 2
- B) 1 e 5
- C) 2, 3 e 5
- D) 1, 3, 4 e 5
- E) 2, 3, 4 e 5

HISTÓRIA

31. Portugal temia que as invasões de potências estrangeiras ocupassem sua colônia, Brasil. De imediato, Portugal conseguiu:

- A) ganhar recursos valiosos com a descoberta de minas de ouro no Sudeste.
- B) centralizar a administração com sedes bem armadas nas regiões Norte e Nordeste.
- C) explorar o pau-brasil com a ajuda de tribos indígenas brasileiras.
- D) fazer aliança política com a Espanha e fortalecer seu exército nacional.
- E) montar o sistema de capitanias hereditárias com auxílio da burguesia holandesa.

32. A Igreja Católica atuou, com destaque na colonização do Brasil. Esteve presente na catequese dos indígenas e na organização do poder local. De fato, a Igreja Católica:

- A) defendeu uma colonização sem hierarquias, justa e livre da violência comum na época.
- B) divulgou princípios do cristianismo, tentando aumentar seu prestígio, abalado na Europa pela Reforma.
- C) recusou as ideias da nobreza portuguesa na economia, incentivando a adoção do justo-preço.
- D) foi sempre favorável às reivindicações dos colonos nas rebeliões contra Portugal.
- E) manteve seu domínio religioso, sem atritos com o governo português e suas leis.

33. Nem sempre os portugueses firmavam seu poder político sem a resistência dos colonos. Na revolta liderada por Felipe dos Santos, no século XVIII, os colonos:

- A) lutaram contra a cobrança de impostos e a violência utilizada pela Metrópole.
- B) estabeleceram critérios para importar produtos vindos da Europa.
- C) acusavam os jesuítas de defenderem a escravidão e oprimir os nativos.
- D) divulgaram ideais republicanos contrários às práticas mercantilistas.
- E) queriam, apenas, a autonomia de Minas Gerais e a liberdade comercial.

34. As medidas políticas de D. Pedro I não agradavam à boa parte da população. Em Pernambuco, por exemplo, articulou-se a Confederação do Equador, em 1824, que:

- A) negava a importância do liberalismo, mas planejava a independência do Brasil.
- B) divulgava a importância de suas ideias em órgãos da imprensa atuante na época.
- C) conseguiu a autonomia do Nordeste, graças à coragem do líder e militar Cipriano Barata.
- D) tinha princípios democráticos, embora não possuísse apoio militar para seguir suas ações.
- E) estimulou a rebeldia dos escravos, projetando o fim dos latifúndios e das oligarquias.

- 35.** O café era um produto bem aceito, no continente europeu, desde o século XVIII. No Brasil, seu cultivo ganhou espaços importantes economicamente. Sua lavoura dispunha, no século XIX:
- A) da participação de imigrantes europeus, mas contava apenas com a escassa presença da mão de obra escrava.
 - B) do uso de técnicas agrícolas avançadas, produzidas para assegurar a qualidade do solo.
 - C) da forma de administrar, totalmente, diferente da existente na lavoura do açúcar.
 - D) de uma maior expansão em terras do Sudeste, com destaque para a economia de São Paulo.
 - E) da mão de obra escrava e da participação de alguns setores ligados aos colonizadores.
- 36.** A luta contra a escravidão foi lenta, mas persistente. Envolveu grupos urbanos e intelectuais liberais. Com o fim da escravidão, houve:
- A) mudanças fundamentais na estrutura de produção do Brasil e o início do processo de industrialização.
 - B) renovação na forma de dividir as propriedades agrícolas nas regiões do Piauí e do Ceará.
 - C) modernização dos costumes, com a extinção das rígidas hierarquias sociais.
 - D) crescimento do trabalho assalariado e formação de grandes partidos políticos.
 - E) falta de políticas sociais que dessem conta da nova ordem instalada com o fim da escravidão.
- 37.** As oligarquias fizeram-se presentes, mesmo com a chegada dos governos republicanos. O seu poder político era:
- A) maior nos centros rurais, limitado ao Norte e ao Sudeste, onde havia poderosos latifúndios.
 - B) restrito aos Estados mais agrícolas, como o Maranhão e o Piauí, e estava em decadência em São Paulo.
 - C) marcante nas decisões nacionais, influenciando a organização administrativa do país.
 - D) centralizador e violento, embora não tivesse presença nos centros urbanos do Sul.
 - E) monopolizado por latifundiários poderosos, isolados de outros grupos sociais.
- 38.** A liderança de Getúlio Vargas atravessou parte da história republicana do século XX. Na montagem da sua liderança, foi importante:
- A) a presença de políticos paulistas atuantes na UDN.
 - B) o apoio assegurado por parte das oligarquias rurais.
 - C) a formação de partidos políticos como a UDN e o PTB.
 - D) a articulação com os democratas radicais em 1930.
 - E) o auxílio dos Estados Unidos desde a posse no governo.
- 39.** A modernização cultural ampliou a produção brasileira e movimentou grupos de intelectuais. Na realização inicial do Cinema Novo, merecem destaque os cineastas:
- A) Gláuber Rocha e Néelson Pereira dos Santos.
 - B) Anselmo Duarte e Walter Salles.
 - C) Joaquim Pedro e Arnaldo Jabor.
 - D) Anselmo Duarte e Grande Otelo.
 - E) Jece Valadão e Walter Salles.
- 40.** Os governos militares, pós-64, conseguiram impor um sistema atuante e inibidor de rebeldias contra os excessos de violência. Na época do general Médici, houve:
- A) lutas democráticas importantes, com o fim da censura e a abertura do Congresso Nacional.
 - B) a exploração acentuada pelas propagandas oficiais de eventos sociais, como a vitória do Brasil na Copa do Mundo de futebol, em 1970.
 - C) o fim da censura aos jornais, mas a extinção de partidos socialistas ainda atuantes.
 - D) a reformulação da Constituição, garantindo o autoritarismo e a prevalência dos governos militares.
 - E) o início da formação de grupos ligados à luta contra a ditadura, com grandes passeatas em cidades do Sudeste.
- 41.** A democracia traz a renovação dos quadros políticos e incentiva o debate. No século XX, a política construída no Brasil conseguiu:
- A) firmar a igualdade social, combatendo as hierarquias e a falta de segurança no exercício dos direitos humanos.
 - B) aprimorar certas instituições e garantir o fim das práticas autoritárias e discriminatórias.
 - C) vencer dificuldades na administração pública, sem, contudo, suprir certas lacunas sociais.
 - D) renovar a vida dos partidos, graças a seus programas bem articulados com o liberalismo.
 - E) superar os impasses sociais e econômicos provocados pelo descontrole da inflação.
- 42.** Numa análise da atuação política do Partido dos Trabalhadores nos leva a admitir que, no Estado do Piauí, esse partido:
- A) ficou restrito a participar de campanhas políticas sem destaque nas votações obtidas.
 - B) está distante das oligarquias que mandam no governo local, tendo papel apenas secundário nas decisões.
 - C) atuou bastante nos meios sindicais rurais, não expandindo sua influência aos centros urbanos.
 - D) articulou-se com outros grupos sociais, evitando, porém, fazer alianças políticas com outros partidos.
 - E) conseguiu votações expressivas e teve participação ativa nos governos vencedores.

- 43.** A globalização atinge quase todos os países, mudando tradições e afirmando novos hábitos culturais. É forte a presença da tecnologia na sua expansão. No Brasil, por exemplo, a globalização:
- A) teve atuação limitada em decorrência do domínio da cultura importada dos Estados Unidos.
 - B) atingiu tradições seculares, definindo o fim das hierarquias e das desigualdades de direitos.
 - C) foi taxativa na divulgação de ideias universais no sentido de reafirmar antigas utopias.
 - D) transformou modelos sociais antigos e causou polêmica entre intelectuais e políticos.
 - E) restringiu-se a aumentar a capacidade de produção do país na área industrial.
- 44.** Os governos de Luis Inácio Lula da Silva surpreenderam e polemizaram. O presidente atingiu uma popularidade nunca vista no Brasil. Sobre seus governos, podemos afirmar que:
- A) realizou projetos sociais que extinguiram, radicalmente, a desigualdade social no Nordeste.
 - B) fortaleceu o desenvolvimento econômico, iniciado com reformas estruturais do governo de Fernando Collor.
 - C) fez alianças políticas com antigos adversários, o que provocou sérias críticas de muitos setores.
 - D) interessou-se em diminuir o poder das instituições financeiras e enfraquecer o poder dos bancos nacionais.
 - E) agilizou mudanças políticas relevantes, mas não promoveu programas significativos para a melhoria da vida social.
- 45.** A sociedade de consumo se consolida cada vez mais. As oportunidades de lazer se multiplicam, e os *shoppings centers* ganham espaços nas grandes cidades. Essas transformações, ocorridas também no Brasil:
- 1) conseguem alterar o ritmo e o modo de vida das populações urbanas.
 - 2) promovem o domínio das grandes empresas internacionais e nacionais no mercado local.
 - 3) afirmam o poder da tecnologia, deixando a população menos elitizada sem espaço para a criação de seus próprios bens de consumo.
 - 4) criam uma padronização geral de comportamento, embora o faça sutil e disfarçadamente.
- Estão corretas apenas:
- A) 1, 2 e 4
 - B) 1, 2 e 3
 - C) 2 e 3
 - D) 3 e 4
 - E) 1 e 4
- 46.** Na Antiguidade, Atenas conviveu com formas de governo e relações políticas com multiplicidades marcantes. Na época da Tirania, podemos destacar:
- A) a prevalência de atos violentos, com total apoio da nobreza e de seus representantes nas Assembleias.
 - B) a realização das reformas de Pisístrato, que afetaram o poder da nobreza e limitaram seus privilégios.
 - C) a democratização dos conselhos políticos, com o fim da escravidão feminina e da imigração de asiáticos.
 - D) o êxito das mudanças econômicas, sobretudo em decorrência da legislação feita por Sólon.
 - E) o fim da monarquia vitalícia e a instituição de um conselho popular poderoso e centralizador.
- 47.** A excelente localização geográfica de Roma ajudou na formação e no crescimento do seu império. Situada no centro da Itália, Roma:
- A) possuía bons lugares para portos, o que favoreceu o desenvolvimento do comércio.
 - B) lembrava a formação geográfica da Grécia e sua atuação marítima.
 - C) dedicou-se à agricultura, pois o solo fértil de que dispunha facilitava os progressos nessa área.
 - D) limitou-se a organizar um exército poderoso, preocupada com a administração política da cidade.
 - E) mostrou a força de uma sociedade democrática na constituição das suas riquezas.
- 48.** As primeiras invasões bárbaras causaram transtornos ao domínio dos romanos. Iniciava-se o período conhecido como Alta Idade Média. Nesse período:
- A) o cristianismo sofreu um forte abalo, sendo desprezado pelos invasores de forma radical.
 - B) o feudalismo começou a ganhar espaço, com o desmantelamento do Império Romano do Ocidente.
 - C) a unidade política dos romanos foi preservada, alterando-se apenas os padrões de sua hierarquia social.
 - D) a instabilidade política crescente provocou descentralizações nos reinos europeus menos poderosos.
 - E) a administração de Roma foi modificada, sem, contudo, significar a vitória dos invasores.
- 49.** A famosa cidade de Constantinopla foi o centro do Império Romano do Oriente. Sua localização era estratégica para o comércio da época. Do ponto de vista militar, Constantinopla era:
- A) arcaica e pouco funcional, tendo sido, por isso, invadida pelos bárbaros várias vezes.
 - B) cercada por altas muralhas que a ajudavam a se defender.
 - C) vulnerável, pois não tinha bons portos como a Grécia e o Egito.
 - D) guardada por uma esquadra marítima, mas sem centralização do seu comando.
 - E) protegida por um exército de mercenários vindos de pontos diferentes do Oriente Médio.

- 50.** Nem tudo na Idade Média estava conectado com a exaltação dos feitos religiosos e o poder do clero. Na literatura, temos exemplos do exercício de outras manifestações culturais. Por exemplo, o trovadorismo, surgido na França:
- A) destacava o amor romântico e o culto à mulher como tema central.
 - B) enaltecia as batalhas violentas dos seus senhores feudais.
 - C) cantava a bondade dos cristãos primitivos que viviam na Europa.
 - D) combatia as heresias e fazia dos cavaleiros seus heróis.
 - E) ressaltava a bravura dos nobres e a inteligência das mulheres.
- 51.** O Renascimento foi muito importante para as mudanças culturais ocorridas no Ocidente e trouxe muita influência da cultura clássica. Na pintura, o Renascimento:
- A) conseguiu superar o modelo grego, consagrando a religiosidade católica nas suas obras.
 - B) trouxe transformações decisivas para um novo olhar estético, mesmo sofrendo influências clássicas.
 - C) manteve padrões medievais, ficando nos limites do catolicismo e afirmando a prevalência de cores sombrias.
 - D) negou os valores dos tempos medievais, embora pouco explorasse as figuras da mitologia da Antiguidade.
 - E) copiou os modelos romanos, sendo pouco original, pois conservou a estética da Igreja Católica.
- 52.** A Igreja Católica teve seus poderes abalados pela Reforma, que provocou mudanças nas relações de poder na Europa. No entanto, é preciso ressaltar também que a Reforma foi:
- A) importante para algumas políticas da modernidade e para a renovação de crenças e costumes.
 - B) decisiva para o fim do domínio do catolicismo em toda a Europa, com seus ataques ao clero e ao papa.
 - C) localizada em alguns países, embora não tivesse uma dimensão internacional; limitou-se a controlar seus mais fanáticos seguidores.
 - D) defendida pelos conservadores da nobreza, sem apoio da burguesia e de outros grupos sociais.
 - E) destacada por alterar a base do absolutismo na Inglaterra e livrá-lo da tirania dos reis.
- 53.** Uma análise da Revolução Francesa permite perceber sua importância política, sem deixar de ressaltar sua violência e suas contradições. Na sua Declaração dos Direitos Humanos e do Cidadão:
- A) destacava-se a condenação à propriedade privada e ao capitalismo.
 - B) definia-se a vitória dos ideais do liberalismo, favoráveis à elite da época.
 - C) negava-se o valor da escravidão, embora não atacasse a sua existência nas colônias europeias.
 - D) afirmava-se a igualdade universal perante a lei, sem respeitar os limites desejados pela burguesia.
 - E) defendia-se a submissão das colônias, mas se omitia em relação aos danos da censura e da propriedade.
- 54.** O capitalismo ganhou espaços no mercado europeu com a industrialização de várias regiões. Mesmo com a divulgação das suas conquistas, recebia críticas de muitos teóricos. Por exemplo, os marxistas:
- A) acusavam o capitalismo de explorar os trabalhadores e provocar desigualdades sociais.
 - B) defendiam o fim imediato das relações capitalistas, com a implantação de um governo anarquista.
 - C) queriam o fim das monarquias constitucionais para que o capitalismo se humanizasse.
 - D) propunham a supremacia dos ideais iluministas e das ideias da filosofia idealista de Hegel.
 - E) criticavam os governos democráticos e liberais, sem pensar em fundar partidos políticos.
- 55.** O neocolonialismo se fez presente, com suas ambições territoriais, atingindo nações da África e da Ásia. Com relação à ocupação da China, houve:
- A) a presença marcante das tropas francesas e italianas, interessadas no comércio com o Oriente.
 - B) a participação de exércitos de vários países, inclusive de norte-americanos e russos.
 - C) a falta de reação da sociedade tradicional, sendo a China amplamente dominada.
 - D) o monopólio dos interesses dos ingleses na busca de riquezas minerais e agrícolas.
 - E) a reação dos comunistas com suas guerrilhas vitoriosas na luta contra as forças estrangeiras.
- 56.** Depois da 1ª. Guerra Mundial, houve a assinatura do Tratado de Versalhes e o desejo de que a paz caminhasse pelo mundo, sem disputas e competições. No entanto, o Tratado de Versalhes:
- A) provocou insatisfações no povo alemão, descontente com regras e cobranças dos vencedores.
 - B) influenciou o poder dos norte-americanos interessados na fundação do Mercado Comum Europeu.
 - C) apresentou ideias equilibradas para cessar as intrigas, mas não contou com o apoio dos franceses.
 - D) foi o único tratado assinado pelos países participantes da guerra, devido à extensão dos seus objetivos.
 - E) contou com a adesão de todas as nações europeias, deixando pequenas tensões entre ingleses e franceses.

57. Os sistemas totalitários impediram o aprofundamento da convivência democrática, em muitos países da Europa. No século XX, o fascismo dominou, com Mussolini no poder. O fascismo italiano, por exemplo:

- A) divulgou uma concepção militar e autoritária de mundo, incentivando o imperialismo e a censura.
- B) trouxe o crescimento dos preconceitos raciais contra os africanos, respeitando, porém, a cultura judaica tradicional.
- C) centralizou a organização econômica, mas não proibiu a vida partidária nos grandes centros urbanos.
- D) era diferente do nazismo alemão, pois evitou as censuras artísticas e celebrou o passado renascentista com destaque.
- E) criticou a industrialização e defendeu ideias corporativistas, sem, contudo, admitir a formação de sindicatos urbanos.

58. As mudanças sociais e econômicas não se dão isoladamente. Estão sempre em diálogo com a cultura e os seus significados. No século XX, o cinema conseguiu:

- A) firmar-se nos países industrializados, inibindo outras formas de comunicação social mais avançadas.
- B) fazer grande sucesso, sobretudo, na Europa, com as produções mais vendidas no mercado internacional.
- C) promover formas de viver do consumismo capitalista, modificando tradições e hábitos seculares.
- D) ser a única maneira de fazer uma cultura de valor profundo, com grande aceitação da sociedade urbana.
- E) penetrar nos centros mais populosos da sociedade norte-americana, sem, contudo, manter seu domínio por muito tempo.

59. A vitória de Obama agitou o mundo político e ganhou manchetes esperançosas. O inesperado acontecia num país marcado por preconceitos raciais. Com o exercício cotidiano do seu poder e as disputas internas nos Estados Unidos, houve no seu primeiro ano de atuação:

- A) o crescimento da sua credibilidade frente às elites do país, por ele assegurar a manutenção de políticas conservadoras.
- B) o fim da crise do capitalismo norte-americano, com o domínio dos democratas no Senado.
- C) a ascensão dos Estados Unidos no mundo das guerras internacionais e no comando das Nações Unidas.
- D) a queda da sua popularidade e resistências às suas mudanças mais sociais e favoráveis à maioria.
- E) o desmantelamento do poder político internacional americano, devido à constante perda de espaço econômico.

60. Os eventos mundiais consagram as novas tecnologias e transformam a sociedade numa aldeia global. Mobilizam-se investimentos fabulosos e há disputas entre as multinacionais. A Copa do Mundo, na África do Sul, por exemplo, provocou:

- 1) o desenvolvimento econômico dos africanos e de seus programas contra a miséria e o analfabetismo.
- 2) o fim dos preconceitos sociais, com uma melhor distribuição dos lucros nas empresas e nas comunidades negras.
- 3) a divulgação de meios de comunicação sofisticados, garantindo transmissões esportivas de alta qualidade.

Está(ão) correta(s):

- A) 1, 2 e 3
- B) 1 apenas
- C) 2 apenas
- D) 3 apenas
- E) 1 e 2 apenas