



PROCESSO SELETIVO SIMPLIFICADO

PREFEITURA MUNICIPAL DE PARNAÍBA

Secretaria Municipal de Saúde



Universidade
Estadual do Piauí

PROVA ESCRITA OBJETIVA – TIPO NF - 05
CARGO: **MOTORISTA CATEGORIA "D"**
DATA: 05/06/2016 – HORÁRIO: 9h às 12h (horário do Piauí)

LEIA AS INSTRUÇÕES:

01. Você deve receber do fiscal o material abaixo:
 - a) Este caderno com 40 questões objetivas sem falha ou repetição.
 - b) Um CARTÃO-RESPOSTA destinado às respostas objetivas da prova.**OBS: Para realizar sua prova, use apenas o material mencionado acima e, em hipótese alguma, papéis para rascunhos.**
02. Verifique se este material está completo e se seus dados pessoais conferem com aqueles constantes do CARTÃO-RESPOSTA.
03. Após a conferência, você deverá assinar seu nome completo, no espaço próprio do CARTÃO-RESPOSTA utilizando caneta esferográfica com tinta de cor azul ou preta.
04. Escreva o seu nome nos espaços indicados na capa deste CADERNO DE QUESTÕES, observando as condições para tal (assinatura e letra de forma), bem como o preenchimento do campo reservado à informação de seu número de inscrição.
05. No CARTÃO-RESPOSTA, a marcação das letras correspondentes às respostas de sua opção, deve ser feita com o preenchimento de todo o espaço do campo reservado para tal fim.
06. Tenha muito cuidado com o CARTÃO-RESPOSTA, para não dobrar, amassar ou manchar, pois este é personalizado e em hipótese alguma poderá ser substituído.
07. Para cada uma das questões são apresentadas cinco alternativas classificadas com as letras (A), (B), (C), (D) e (E); assinale apenas uma alternativa para cada questão, pois somente uma responde adequadamente ao quesito proposto. A marcação em mais de uma alternativa anula a questão, **mesmo que uma das respostas esteja correta**; também serão nulas as marcações rasuradas.
08. As questões são identificadas pelo número que fica à esquerda de seu enunciado.
09. Os fiscais não estão autorizados a emitir opinião nem a prestar esclarecimentos sobre o conteúdo das provas. Cabe única e exclusivamente ao candidato interpretar e decidir a este respeito.
10. Reserve os 30(trinta) minutos finais para marcar seu CARTÃO-RESPOSTA. Os rascunhos e as marcações assinaladas no CADERNO DE QUESTÕES não serão levados em conta.
11. Quando terminar sua Prova, antes de sair da sala, assine a LISTA DE FREQUÊNCIA, entregue ao Fiscal o CADERNO DE QUESTÕES e o CARTÃO-RESPOSTA, que deverão conter sua assinatura.
12. O tempo de duração para esta prova é de **3 (três) horas**.
13. Por motivos de segurança, você somente poderá ausentar-se da sala de prova depois de **1h e 30minutos** do início de sua prova.
14. O rascunho ao lado não tem validade definitiva como marcação do Cartão-Resposta, destina-se apenas à conferência do gabarito por parte do candidato.

Nº DE INSCRIÇÃO

--	--	--	--	--	--

Assinatura

Nome do Candidato (letra de forma)

RASCUNHO

01		21	
02		22	
03		23	
04		24	
05		25	
06		26	
07		27	
08		28	
09		29	
10		30	
11		31	
12		32	
13		33	
14		34	
15		35	
16		36	
17		37	
18		38	
19		39	
20		40	

NÚCLEO DE CONCURSOS E PROMOÇÃO DE EVENTOS – NUCEPE
 FOLHA DE ANOTAÇÃO DO GABARITO - ATENÇÃO: Esta parte somente deverá ser destacada pelo fiscal da sala, após o término da prova.
 PROCESSO SELETIVO SIMPLIFICADO – SECRETARIA MUNICIPAL DA SAÚDE - SESA - PARNAÍBA - PI

Nº DE INSCRIÇÃO

--	--	--	--	--	--	--

LÍNGUA PORTUGUESA

Leia o texto que segue para responder às questões de 01 a 07.

Estilo de vida saudável abre espaço para mercado de produtos naturais

A cada ano, a procura por produtos naturais faz com que o consumidor tenha mais opções de escolha.

Uma alimentação saudável traz benefícios para a vida. Além das vitaminas das frutas, verduras e produtos naturais, já foi comprovado que a alimentação saudável é essencial no combate a doenças como hipertensão, diabetes e dos problemas cardiovasculares. Pensando nisso, as pessoas estão cada vez mais em busca de produtos para serem acrescentados às refeições diárias, como uma maneira de prevenção de doenças e busca de qualidade de vida.

[...]

(Jornal O Dia – O Dia Domingo – Diversidade. Editora: Biá Boakari e Virgiane Passos. Por Aldenora Cavalcante. Teresina, 21 de fevereiro de 2016.)

QUESTÃO 01

O título do texto **Estilo de vida saudável abre espaço para mercado de produtos naturais** chama a atenção para

- a) um novo ramo de negócio que surge e se expande em função de novos hábitos de vida.
- b) um antigo e esquecido mercado de consumo.
- c) uma forma de vida por muitos rejeitada.
- d) um negócio que se expande em função dos recursos financeiros da população.
- e) uma forma de viver por muitos desejada.

QUESTÃO 02

O texto ressalta a relação entre alimentação e

- a) hábitos naturais.
- b) produtos a serem evitados para consumo.
- c) saúde dos idosos.
- d) tanto ao combate às doenças quanto a sua prevenção.
- e) crenças populares sobre doenças.

QUESTÃO 03

O subtítulo do texto **A cada ano, a procura por produtos naturais faz com que o consumidor tenha mais opções de escolha** sugere, claramente, a relação econômica que existe entre

- a) demanda e procura.
- b) aceitação e demanda.
- c) procura e oferta.
- d) mercado e oferta.
- e) preços e oferta.

QUESTÃO 04

Na frase: **A cada ano, a procura por produtos naturais faz com que o consumidor tenha mais opções de escolha**, a expressão sublinhada, sem alteração de sentido para o contexto, pode ser substituída por

- a) Em todos os anos.
- b) Ano a ano.
- c) Uma vez por ano.
- d) Nos últimos anos.
- e) No último ano.

QUESTÃO 05

Marque a opção na qual a palavra apresentada, de gênero gramatical masculino, tem um correspondente no gênero feminino.

- a) Estilo.
- b) Espaço.
- c) Produtos.
- d) Mercado.
- e) Consumidor.

QUESTÃO 06

Em: **Uma alimentação saudável traz incontáveis benefícios para a vida**, o segmento sublinhado na palavra **incontáveis** agrega à palavra original o sentido de

- a) confirmação.
- b) inclusão.
- c) afirmação.
- d) negação.
- e) repetição.

QUESTÃO 07

O trecho sublinhado em: **Uma alimentação saudável traz benefícios para a vida** estará igualmente correto e manterá sentido igual, em caso de substituição por

- a) à.
- b) sobre a.
- c) além da.
- d) sob a.
- e) até a.

Texto para as questões 08, 09 e 10.

Muito nutritiva

Todos sabemos que as cascas das frutas contêm importantes nutrientes. Por isso é comum encontrarmos recomendações para seu aproveitamento, principalmente pelas populações mais carentes. A banana, por exemplo, é considerada fruta muito nutritiva, rica em minerais principalmente o potássio. Quando a consumimos, a casca vai para o lixo. Por acaso, você sabe o quanto se perde para o lixo?

[...]

(Revista Coleção Frutas & saúde. Ano IV. Nº 42. P. 28)

QUESTÃO 08

De acordo com as informações do texto,

- a) as cascas das frutas têm mais nutrientes do que a própria fruta.
- b) as frutas são recomendadas, preferencialmente, às populações de maior poder aquisitivo.
- c) não aproveitamos as cascas das frutas e, assim, perdemos uma importante fonte de nutrientes.
- d) temos consciência de quanto perdemos de nutrientes concentrados nas cascas das frutas que jogamos no lixo.
- e) a banana, por ser rica em potássio, deve ser consumida pelas populações mais carentes.

QUESTÃO 09

No texto, temos estruturas como: **Todos sabemos ...**, **é comum encontrarmos recomendações...** e **Quando a consumimos,....** Antes das formas verbais sublinhadas subentende-se a existência da palavra

- a) Eu.
- b) Nós.
- c) Você.
- d) Vós.
- e) Eles.

QUESTÃO 10


O texto apresenta importantes informações especializadas sobre os nutrientes concentrados em frutas e nas suas cascas. Pelo teor das informações é escrito numa linguagem mais formal. Essa formalidade, no entanto, é quebrada no momento em que há uma aproximação maior com o interlocutor, leitor, verificada em

- a) Todos sabemos que as cascas das frutas contêm importantes nutrientes.
- b) Por isso é comum encontrarmos recomendações para seu aproveitamento, ...
- c) A banana, por exemplo, é considerada fruta muito nutritiva ...
- d) Quando a consumimos, a casca vai para o lixo.
- e) Por acaso, você sabe o quanto se perde para o lixo?

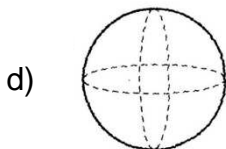
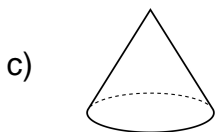
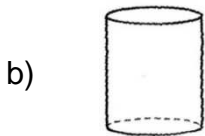
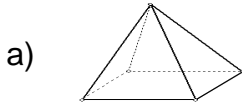
RACIOCÍNIO LÓGICO

QUESTÃO 11

Observe as vistas de um sólido geométrico.



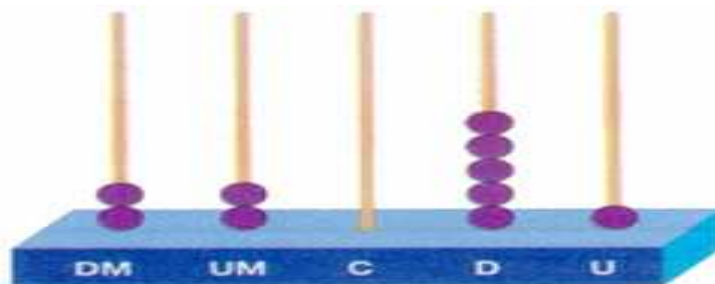
A qual dos sólidos abaixo essas vistas pertencem?



QUESTÃO 12

O ábaco é um instrumento de cálculo muito antigo, inventado há mais de 400 anos. Em alguns lugares do mundo ainda é utilizado, principalmente na Ásia. Qual número está representado no ábaco seguinte?

- a) 2251.
- b) 22051.
- c) 22150.
- d) 22501.
- e) 15022.



QUESTÃO 13

No Brasil, as distâncias máximas entre os pontos extremos norte-sul é de 4394 km e entre leste-oeste é de 4319 km. Arredondando esses números, respectivamente, para a unidade de milhar mais próxima e para a dezena mais próxima, obteremos:

- a) 4000 e 4400.
- b) 4390 e 4320.
- c) 4400 e 4320.
- d) 4000 e 4320.
- e) 4390 e 4300.

QUESTÃO 14

No quadro seguinte temos o horário das aulas a que Nicodemos deve assistir semanalmente.

Horário	2ª feira	3ª feira	4ª feira	5ª feira	6ª feira
De 7h 00min às 7h 50min	Língua Portuguesa	Ed. Física	Língua Portuguesa	Ed. Física	Língua Portuguesa
De 7h50min às 8h40min	Matemática	Ciências	Matemática	Ciências	Matemática
De 8h40min às 9h30min	Matemática	Língua Portuguesa	Matemática	Geografia/História	Espanhol
Intervalo (de 9h30min a 10h00min)					
De 10h00min às 10h50min	Geografia/História	Matemática	Ciências	Inglês	Geografia/História
De 10h50min às 11h40min	Arte	Língua Portuguesa	Geografia/História	Língua Portuguesa	Arte

Supondo-se que Nicodemos tenha assistido a todas as aulas de uma semana. Quantas horas de aulas de Matemática ele assistiu?

- a) 5 horas.
- b) 6 horas.
- c) 5 horas e 40 minutos.
- d) 6 horas e 30 minutos.
- e) 6 horas e 40 minutos.

QUESTÃO 15

Antônio pintou a numeração de todas as poltronas de um cinema de 1 a 300 e recebeu 50 centavos por algarismo pintado. Sabendo-se que Antônio gastou 66,00 reais com pincel e tinta, quanto ele recebeu líquido pelo trabalho de pintura?

- a) R\$ 84,00.
- b) R\$ 792,00.
- c) R\$ 396,00.
- d) R\$ 412,00.
- e) R\$ 330,00.

QUESTÃO 16

A oitava parte do décimo número da sequência 1, 2, 4, 8, 16, 32, ... é igual a:

- a) 16.
- b) 32.
- c) 64.
- d) 128.
- e) 256.

QUESTÃO 17

A quantidade mínima de planos que se deve utilizar para se fechar uma sala retangular em um espaço tridimensional é igual a

- a) 4.
- b) 6.
- c) 8.
- d) 5.
- e) 7.

QUESTÃO 18

Sérgio tem $\frac{6}{7}$ de um bolo e pretende comê-lo em 3 dias, em quantidades iguais. Que parte do bolo ele comerá por dia?

- a) $\frac{1}{21}$.
- b) $\frac{2}{21}$.
- c) $\frac{1}{7}$.
- d) $\frac{2}{7}$.
- e) $\frac{3}{7}$.

QUESTÃO 19

Em um concurso público foram aprovados $\frac{3}{8}$ dos candidatos inscritos. Sabendo que foram reprovados 375 candidatos, qual o total de candidatos aprovados neste concurso?

- a) 600.
- b) 300.
- c) 275.
- d) 255.
- e) 225.

QUESTÃO 20

Considere uma sequência onde cada termo, a partir do terceiro, é a soma dos dois anteriores mais próximos. Sabendo-se que o primeiro termo é igual a 2 e o sexto termo vale 2016, qual é o quinto termo desta sequência?

- a) 1210.
- b) 806.
- c) 802.
- d) 406.
- e) 402.

CONHECIMENTOS ESPECÍFICOS

QUESTÃO 21

O condutor envolvido em acidentes com vítimas, ao deixar de se identificar ao policial e de lhe prestar informações necessárias, acarreta em uma:

- a) Penalidade – Multa (três vezes) e suspensão do direito de dirigir; Medida administrativa – Recolhimento do documento de habilitação.
- b) Penalidade – Multa (cinco vezes) e suspensão do direito de dirigir; Medida administrativa – Recolhimento do documento de habilitação.
- c) Penalidade – Multa (cinco vezes) e suspensão do direito de dirigir; Medida administrativa – Apreensão do veículo.
- d) Penalidade – Multa (dez vezes) e apreensão do veículo; Medida administrativa- Remoção do veículo.
- e) Penalidade – Multa somente.

QUESTÃO 22

O condutor com a Carteira Nacional de Habilitação, que dirige sob efeito de álcool, está sujeito a:

- a) apreensão do veículo e multa.
- b) uma multa de R\$ 957,70.
- c) suspensão do direito de dirigir por 6 meses.
- d) detenção de 6 (seis) meses a 10(dez) ano.
- e) uma infração gravíssima e 7 pontos na habilitação.

QUESTÃO 23

Transitar com veículo em calçadas, canteiros centrais, ciclovia, acostamento e jardins públicos:

- a) Infração – gravíssima; Penalidade – Multa (três vezes).
- b) Infração- grave – Penalidade – Multa (cinco vezes).
- c) Infração – gravíssima – Penalidade – Multa (três vezes) e suspensão do direito de dirigir.
- d) Infração – Média – Penalidade – Multa.
- e) Infração – grave – Penalidade – Multa, suspensão do direito de dirigir e apreensão do veículo.

QUESTÃO 24

Analise as afirmações sobre as disposições em geral do Código de Trânsito Brasileiro e assinale a **INCORRETA**.

- a) Nos cruzamento com semáforo, estes determinam de quem é a preferência de passagem.
- b) O sinal vermelho indica parada obrigatória. Avançar com o sinal vermelho é infração gravíssima com suspensão do direito de dirigir.
- c) A parada do veículo deve ser feita antes da faixa de retenção. Parar sobre a faixa de pedestre é infração média e parar na área de interseção do cruzamento bloqueando o tráfego é infração gravíssima.
- d) O sinal amarelo alerta o condutor de que irá mudar para vermelho em seguida. Este é o momento de reduzir a velocidade e parar, desde que não resulte em perigo para o veículo que vem atrás.
- e) O sinal verde significa preferência de passagem, mas só é possível avançar se o tráfego à frente estiver livre, e se não houver pedestre sobre a faixa de travessia.

QUESTÃO 25

Dos procedimentos que incluem uma ultrapassagem segura e correta, **NÃO** se inclui:

- a) Avaliar a movimentação e proximidade dos demais veículos, inclusive os de trás, sinalizar e certificar-se de que a manobra poderá ser realizada com segurança.
- b) Ultrapassar pela esquerda, em locais onde seja permitido e com boa visibilidade.
- c) Ultrapassar pela direita, se o veículo da frente estiver sinalizando uma manobra para a esquerda;
- d) Deverá ultrapassar em cruzamento com outras vias e cruzamento com linha férrea.
- e) Facilitar a ultrapassagem, deslocando-se para a direita, sem acelerar, deixando espaço para o outro veículo intercalar.

QUESTÃO 26

São circunstâncias que sempre agravam as penalidades dos crimes de trânsito ter o condutor do veículo cometido a infração, **EXCETO**,

- a) com dano potencial para duas ou mais pessoas ou com grande risco de grave dano patrimonial a terceiros.
- b) utilizando o veículo sem placas, com placas falsas ou adulteradas.
- c) sem possuir Permissão para Dirigir ou Carteira de Habilitação.
- d) conduzir o veículo sem portar os documentos de porte obrigatório.
- e) quando a sua profissão ou atividade exigir cuidados especiais com o transporte de passageiros ou de carga.

QUESTÃO 27

A placa de advertência abaixo, significa:



- a) Que à frente existe um entroncamento oblíquo à sua direita.
- b) Que à frente existe uma confluência à esquerda.
- c) Que à frente existe uma confluência à direita.
- d) Que à frente existe um entroncamento oblíquo à sua esquerda.
- e) Que à frente existe um alargamento de pista à esquerda.

QUESTÃO 28

É correto afirmar sobre as marcas de canalização, **EXCETO**,

- a) são colocadas no início e no fim de canteiros centrais.
- b) são colocadas no início e no fim de obstáculos centrais.
- c) na cor branca indica unindo faixa de mesmo sentido.
- d) na cor amarela indica unindo faixa de sentidos contrários.
- e) são dispositivos que aumentam a visibilidade dos sinais.

QUESTÃO 29

Para conduzir veículo que se destina ao transporte de escolares, o condutor deve encontra-se habilitado, no mínimo, na categoria:

- a) B.
- b) C.
- c) D.
- d) A.
- e) ACC.

QUESTÃO 30

São órgãos com função coordenadora, consultiva e normativa do Sistema Nacional de Trânsito:

- a) DENATRAN, DNIT e DER.
- b) CONTRAN, DENATRAN e DETRAN.
- c) PRF, DER e CETRAN.
- d) CONTRAN e DENATRAN, apenas.
- e) CONTRAN, CETRAN e CONTRANDIFE.

QUESTÃO 31

As atribuições dos órgãos ou entidades executivos de trânsito dos Estados e do Distrito Federal estão em:

- a) Executar a fiscalização nas rodovias federais.
- b) Implantar, manter e operar sistema de estacionamento rotativo pago nas vias.
- c) Prestar suporte técnico, jurídico, administrativo e financeiro ao CONTRAN.
- d) Vistoriar e emplacar veículos.
- e) Construir as rodovias federais.

QUESTÃO 32

O processo de habilitação tem validade de um ano, com a possibilidade de transferir e continuar em outros Estados. No caso da Primeira Habilitação é possível candidatar-se à:

- a) Categoria AB.
- b) Categoria AC.
- c) Categoria D.
- d) Categoria E.
- e) Categoria AE.

QUESTÃO 33

Sempre que se envolver em acidentes ou presenciar acidentes de terceiros com vítimas, o condutor tem a obrigação de, **EXCETO**,

- a) sinalizar a área para evitar outros acidentes.
- b) providenciar socorro ou atendimento especializado para as vítimas.
- c) avisar a autoridade de trânsito e permanecer no local.
- d) prestar pessoalmente os primeiros socorros às vítimas, se tiver capacitado.
- e) remover imediatamente os veículos para desobstruir a via não acatando a autoridade.

QUESTÃO 34

Quando for inevitável dirigir sob a chuva, os condutores em geral devem observar os seguintes pontos, **EXCETO**,

- a) redobrar a atenção.
- b) reduzir a velocidade.
- c) diminuir a distância dos demais veículos.
- d) manter a acesa a luz baixa.
- e) redobrar o cuidado em curvas e frenagens.

QUESTÃO 35

Sobre o licenciamento, todo veículo automotor, elétrico, articulado, reboque ou semirreboque, para transitar na via deverá:

- a) Ser licenciado anualmente pelo órgão executivo do município.
- b) Os veículos bélicos deverão ser licenciados.
- c) Os veículos novos estão sujeitos ao licenciamento durante o trajeto entre a fábrica e o município de destino.
- d) O veículo somente será considerado licenciado, estando quitado os débitos relativos a tributos, encargos e multas de trânsito e ambientais, vinculados ao veículo.
- e) É opcional o porte do Certificado de Licenciamento Anual.

QUESTÃO 36

Ocorrendo infração prevista na legislação de trânsito, lavrar-se-á auto de infração, do qual constará, **EXCETO**,

- a) local, data e hora do cometimento da infração.
- b) caracteres da placa de identificação do veículo, sua marca e espécie e outros elementos julgados necessários à sua identificação.
- c) sempre a assinatura do infrator.
- d) sempre que possível, o prontuário do condutor.
- e) identificação do órgão ou entidade e da autoridade ou agente atuador ou equipamento que comprovar a infração.

QUESTÃO 37

Colisão com veículos que vêm em sentido contrário são gravíssimas e causadas principalmente por:

- a) Ultrapassagens bem feitas.
- b) Falta de habilidade para sair de situações críticas.
- c) Reações adequadas frente a condições adversas.
- d) Conversões bem realizadas.
- e) Perícia para fazer curva.

QUESTÃO 38

Sinais de possíveis problemas com a lubrificação do motor, que exigem assistência técnica, **EXCETO**,

- a) necessidade de completar o nível do óleo com frequência.
- b) escapamento emitindo fumaça azulada ou preta.
- c) presença de óleo no cárter.
- d) manchas de óleo no piso da garagem.
- e) presença de óleo no reservatório de água.

QUESTÃO 39

Havendo suspeita de fratura no crânio, devemos obedecer à seguinte recomendação:

- a) Manter o acidentando com a cabeça baixa.
- b) Não dar de beber ou comer à vítima.
- c) Apertar suas roupas na área do pescoço.
- d) Comprimir áreas moles da cabeça.
- e) Pressionar com gazes o sangramento no couro cabeludo.

QUESTÃO 40

Fator que promove um trânsito menos seguro:

- a) Desequilíbrio.
- b) Humildade.
- c) Bom senso.
- d) Empatia.
- e) Igualdade.