



CONCURSO PÚBLICO

CURSO DE FORMAÇÃO DE SOLDADOS BMPI



Universidade
Estadual do Piauí

PROVA ESCRITA OBJETIVA – TIPO A

DATA: 04/06/2023 – HORÁRIO: 8h30 às 12h30 (horário do Piauí)

LEIA AS INSTRUÇÕES:

01. Você deve receber do fiscal o material abaixo:
 - a) Este caderno (TIPO A) com 60 questões objetivas sem falha ou repetição;
 - b) O caderno da prova dissertativa e
 - c) CARTÃO-RESPOSTA destinado às respostas objetivas da prova. *Verifique se o tipo de caderno (TIPO A) é o mesmo que consta no seu Cartão-Resposta.*

OBS: Para realizar sua prova, use apenas o material mencionado acima e, em hipótese alguma, papéis para rascunhos.
02. Verifique se este material está completo e se seus dados pessoais conferem com aqueles constantes do CARTÃO-RESPOSTA.
03. Após a conferência, você deverá assinar seu nome completo, no espaço próprio do CARTÃO-RESPOSTA, utilizando caneta esferográfica com tinta de cor preta.
04. Escreva o seu nome nos espaços indicados na capa deste CADERNO DE QUESTÕES, observando as condições para tal (assinatura e letra de forma), bem como o preenchimento do campo reservado à informação de seu número de inscrição.
05. No CARTÃO-RESPOSTA, a marcação das letras correspondentes às respostas de sua opção deve ser feita com o preenchimento de todo o espaço do campo reservado para tal fim.
06. Tenha muito cuidado com o CARTÃO-RESPOSTA, para não dobrar, amassar ou manchar, pois este é personalizado e, em hipótese alguma, poderá ser substituído.
07. Para cada uma das questões são apresentadas cinco alternativas classificadas com as letras (A), (B), (C), (D) e (E). Assinale apenas uma alternativa para cada questão, pois somente uma corresponde adequadamente à resposta correta. A marcação em mais de uma alternativa anula a questão, mesmo que uma das respostas esteja correta. Também serão nulas as marcações rasuradas.
08. As questões são identificadas pelo número que fica à esquerda de seu enunciado.
09. Os fiscais não estão autorizados a emitir opinião nem a prestar esclarecimentos sobre o conteúdo das provas. Cabe única e exclusivamente ao candidato interpretar e decidir a esse respeito.
10. Reserve os 30 (trinta) minutos finais para marcar seu CARTÃO-RESPOSTA. Os rascunhos e as marcações assinaladas no CADERNO DE QUESTÕES não serão levados em conta.
11. Quando terminar sua prova, antes de sair da sala, assine a LISTA DE FREQUÊNCIA, entregue ao fiscal o CARTÃO-RESPOSTA assinado e devidamente preenchido, bem como os CADERNOS DE PROVA ESCRITA OBJETIVA E DISSERTATIVA.
12. O tempo de duração para esta prova é de **4h (quatro horas)**.
13. Por motivos de segurança, você somente poderá ausentar-se da sala de prova depois de **4h** do início da prova.
14. O rascunho ao lado não tem validade definitiva como marcação do Cartão-Resposta, destinando-se apenas à conferência do gabarito por parte do candidato.

Nº DE INSCRIÇÃO

--	--	--	--	--	--	--	--

Assinatura

Nome do Candidato (letra de forma)

RASCUNHO

01		31	
02		32	
03		33	
04		34	
05		35	
06		36	
07		37	
08		38	
09		39	
10		40	
11		41	
12		42	
13		43	
14		44	
15		45	
16		46	
17		47	
18		48	
19		49	
20		50	
21		51	
22		52	
23		53	
24		54	
25		55	
26		56	
27		57	
28		58	
29		59	
30		60	

CONCURSO PÚBLICO – CURSO DE FORMAÇÃO DE SOLDADOS BMPI
 NÚCLEO DE CONCURSOS E PROMOÇÃO DE EVENTOS – NUCEPE
 FOLHA DE ANOTAÇÃO DO GABARITO - ATENÇÃO: Esta parte somente deverá ser destacada pelo fiscal da sala, após o término da prova.



CONCURSO PÚBLICO – CURSO DE FORMAÇÃO DE SOLDADOS BMPI



N.º DE INSCRIÇÃO						

**CONHECIMENTOS BÁSICOS****LÍNGUA PORTUGUESA****Texto para responder as questões 01 e 02.**

A maneira mais clara e fácil de decretar o fim de uma pandemia seria se não houvesse mais circulação do Sars-CoV-2, o coronavírus causador da covid-19. [...] Enquanto isso, **embora** as estatísticas sobre vacinação revelem que até agora mais de 300 milhões de doses foram administradas, a parcela das pessoas 100% imunizadas fica muito abaixo disso, uma vez que a maioria dos imunizantes requer duas aplicações para surtir o efeito desejado. [...] **Apesar das** fortes campanhas de imunização em curso rápido em Estados Unidos, Israel, Emirados Árabes Unidos, Reino Unido e Chile, a vacinação vem em um ritmo muito mais lento em outros lugares do planeta.

Redação - BBC Mundo. 21 de março de 2022.

Disponível em: <https://www.bbc.com/portuguese/internacional-56406423>. Acesso em: 22 mar. 2023 (adaptado)

01. O gênero notícia tem como objetivo apresentar os fatos em torno de um acontecimento ou tema. Na notícia lida,

- a) a temática central corresponde à apresentação do papel dos países em relação à ciência.
- b) os estudos sobre a Covid-19 no mundo são o destaque do texto.
- c) a pandemia da Covid-19 e o seu enfrentamento são os elementos centrais do texto.
- d) observa-se o destaque dado ao fim da pandemia da Covid-19.
- e) o foco é o enfrentamento do Brasil durante a pandemia da Covid-19.

02. Na notícia, os termos “**embora**” e “**Apesar da**”

- a) foram utilizados com o propósito de conectar enunciados de orientação argumentativa contrária.
- b) são utilizados com o objetivo de ressaltar o fato que será novamente apresentado na oração seguinte.
- c) podem ser substituídos, respectivamente, por “mesmo que” e “Logo”, sem alteração semântica nas orações.
- d) imprimem o sentido de alternância dentro das orações.
- e) produzem o sentido de finalidade, na medida em que sinalizam a concordância das ideias veiculadas entre as orações.

03. Vício da fala

Para dizerem milho dizem mio
Para melhor dizem mió
Para pior pió
Para telha dizem teia
Para telhado dizem teiado
E vão fazendo telhados

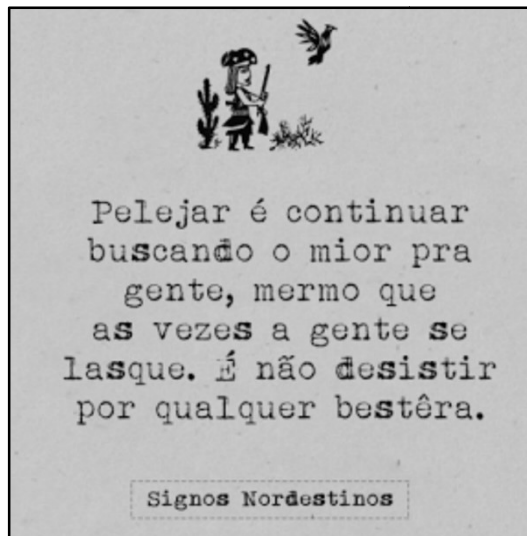
ANDRADE, Oswald. *Poesias reunidas*. Rio de Janeiro: Civilização Brasileira, 1971.

Um idioma pode ser falado de diferentes formas, registrando-se a variedade linguística em função do contexto em que a fala se realiza. Na poesia de Oswald de Andrade,

- a) os termos “mio”, “mió”, “pió”, “teia” e “teiado” são utilizados para ilustrar a escrita do falante de língua portuguesa.
- b) o título “Vício de fala” registra uma ocorrência que corresponde ao uso da norma culta.

- c) a linguagem ilustrada na poesia condiz com a realidade linguística da maioria das produções brasileiras escritas no século XXI.
- d) a poesia explora a variedade linguística a fim de sublinhar os usos linguísticos comuns a diferentes regiões do Brasil e em diferentes níveis de escolaridade.
- e) há uma representação distorcida dos usos linguísticos dos falantes de língua portuguesa no Brasil.

04.



Disponível em: https://web.facebook.com/SignosNordestinos/photos/a.722951624480964/959427524166705/?type=3&_rdc=1&_rdp.
Acesso em: 22 mar. 2023.

Entre as alternativas a seguir, qual apresenta uma afirmação que explica corretamente o funcionamento de alguns dos termos presentes na imagem?

- a) “Desistir” e “Pelejar” são vocábulos homônimos.
 - b) “Pelejar” apresenta sentido metafórico provocado pela transformação dos substantivos em verbos, como na relação entre “confrontar” e “confronto”.
 - c) “Pelejar” produz o sentido de aceitação diante das adversidades.
 - d) “Continuar” e “Pelejar” apresentam a mesma terminação característica de verbos de 1ª conjugação.
 - e) A terminação “-er”, em “Qualquer”, faz do vocábulo um verbo de 2ª conjugação.
05. Em 2008, a Associação Brasileira de Imprensa (ABI) publicizou a seguinte campanha centrada no modo como a informação produz distintos sentidos, ilustrada no uso da vírgula.

Vírgula pode ser uma pausa... ou não.

Não, espere.

Não espere.

Ela pode sumir com seu dinheiro.

23,4.

2,34.

Pode criar heróis.

Isso só, ele resolve.

Isso, só ele resolve.

Ela pode ser autoritária.

Aceito, obrigado.

Aceito obrigado.



Ela pode criar vilões.

Esse, juiz, é corrupto.

Esse juiz é corrupto.

Pode ser a solução.

Vamos perder, nada foi resolvido.

Vamos perder nada, foi resolvido.

A vírgula muda uma opinião.

Não queremos saber.

Não, queremos saber.

A vírgula pode condenar ou salvar.

Não tenha clemência!

Não, tenha clemência!

Uma vírgula muda tudo.

ABI: 100 anos lutando para que ninguém mude nem uma vírgula da sua informação.

Disponível em: <https://www.propagandashistoricas.com.br/2013/11/abi-100-anos-virgula-2008.html>.

Acesso em: 25 mar. 2023. (Adaptado)

Entre as afirmações a seguir, qual explica corretamente a relação entre o uso e a ausência das vírgulas conforme observadas na propaganda da ABI?

- a) Em “Aceito obrigado”, a ausência da vírgula produz um sentido que também se verificaria com o uso da vírgula.
- b) O trecho “Vamos perder nada, foi resolvido” produz o sentido de inconclusão.
- c) No trecho “Isso só, ele resolve”, há o sentido de imprecisão atribuída à afirmação.
- d) A retirada da vírgula em “Não, tenha clemência!” mantém o ato de clemência.
- e) Em “Esse, juiz, é corrupto”, as vírgulas sinalizam interação entre o falante e o interlocutor.

06. O que é rubrica?

Rubrica trata-se de uma versão reduzida, abreviada da assinatura convencional e é requisitada para a assinatura de contrato, para, como exposto acima, certificar de que o assinante tem ciência do conteúdo exposto nas páginas do contrato que assina. Outro aspecto é que, caso ocorra uma alteração do conteúdo das páginas do documento assinado, a rubrica no texto original é uma garantia de que uma das partes tem conhecimento somente do que foi materializado naquelas páginas, se eximindo de responsabilidade do eventual conteúdo que tenha sido inserido sem a sua anuência posteriormente.

Disponível em: <https://direitos.me/rubrica/>. Acesso em: 25 mar. 2023. (Adaptado)

Dentre as palavras abaixo, quais apresentam o mesmo padrão de sílaba tônica que ocorre em “rubrica”?

- a) Bênção – vítima – repartição.
- b) Felicidade – órfão – café.
- c) Gratuito – menino – amigo.
- d) Rápido – uníssonos – lápide.
- e) Árvore – último – urgência.



Texto para responder as questões 07 e 08.

Poema de Sete Faces

Quando nasci, um anjo torto
desses que vivem na sombra
disse: Vai, Carlos! ser gauche na vida.

As casas espiam os homens
que correm atrás de mulheres.
A tarde talvez fosse azul,
não houvesse tantos desejos.

O bonde passa cheio de pernas:
pernas brancas pretas amarelas.
Para que tanta perna, meu Deus, pergunta meu coração.
Porém meus olhos
não perguntam nada.

O homem atrás do bigode
é sério, simples e forte.
Quase não conversa.
Tem poucos, raros amigos
o homem atrás dos óculos e do bigode.

Meu Deus, por que me abandonaste
se sabias que eu não era Deus
se sabias que eu era fraco.

Mundo mundo vasto mundo,
se eu me chamasse Raimundo
seria uma rima, não seria uma solução.
Mundo mundo vasto mundo,
mais vasto é meu coração.

Eu não devia te dizer
mas essa lua
mas esse conhaque
botam a gente comovido como o diabo.

ANDRADE, Carlos Drummond de. **Alguma poesia**. São Paulo: Companhia das Letras, 2013.

07. Os diferentes gêneros textuais apresentam particularidades linguístico-textuais que são determinantes para que o leitor produza sentidos. Sobre o texto poético de Drummond, é correto afirmar que
- a) apresenta uma riqueza de figuras de estilo capazes de despertar diferentes sentidos no leitor.
 - b) tem como marcas centrais o uso excessivo de rimas, típicas do gênero lírico.
 - c) emprega a metáfora, a fim de produzir um sentido único, a ser decifrado pelo leitor.
 - d) explora eminentemente a linguagem denotativa, visando informar o leitor sobre o tema tratado.
 - e) dispõe de versos e rimas a fim de convencer o leitor sobre o tema discutido.



08. Sobre o poema de Drummond, avalie as seguintes afirmações:

- I - Em “O homem atrás do bigode / é sério, simples e forte./ Quase não conversa”, o registro “**homem**” será retomado elipticamente no segundo período.
- II - Em “Mundo mundo vasto mundo, /mais vasto é meu coração./ Eu não devia te dizer/ mas essa lua/ mas esse conhaque...”, o pronome “**esse**” recupera anaforicamente “**Mundo**”.
- III - Em “As casas espiam os homens / que correm atrás de mulheres. / A tarde talvez fosse azul, / não houvesse tantos desejos”, o termo “**tantos**” retoma “homens, mantendo a coesão e a coerência textual no poema.
- IV - Em “Quando nasci, um anjo torto / desses que vivem na sombra / disse: Vai, Carlos! ser gauche na vida”, o emprego de “**ser**” se justifica pela relação que mantém com “**anjo**”.
- V - Em “Quando nasci, um anjo torto / desses que vivem na sombra...”, verifica-se que “**torto**” funciona como um adjetivo, pois qualifica o seu termo antecedente.

Assinale a alternativa que apresenta APENAS as afirmações corretas.

- a) I e II.
- b) II e III.
- c) III e IV.
- d) I e V.
- e) IV e V.

09. “A solidariedade entre o verbo e o sujeito, que ele faz viver no tempo, exterioriza-se na concordância, isto é, na variabilidade do verbo para conformar-se ao número e à pessoa do sujeito da gramática.”

CUNHA, Celso; CINTRA, Lindley. *Nova gramática do Português contemporâneo*. 7. ed. Rio de Janeiro: Lexicon, 2017. Disponível em: <https://ia800706.us.archive.org/12/items/NovaGramaticaDoPortugusContemporaneo/Nova%20gram%C3%A1tica%20do%20portugu%C3%AAs%20contempor%C3%A2neo%20.pdf>. (adaptado)

A concordância verbal, de acordo com Celso Cunha e Lindley Cintra, é observada na relação indissociável entre o verbo e o seu complemento. Nas frases abaixo, qual apresenta a concordância verbal de acordo com a gramática normativa?

- a) Foi liberado duas salas para as reuniões da tarde.
- b) Fazem dois anos do ocorrido.
- c) Haviam dois projetos que precisavam ser encerrados hoje.
- d) Foi a secretária quem pediu os documentos.
- e) O diretor, acompanhado dos demais presentes, decidiram pelo cancelamento da atividade.

10. A linguagem formal é reconhecida pela preocupação rigorosa com a norma culta, na medida em que é utilizada em contextos profissionais, acadêmicos, discursos oficiais, dentre outros. A linguagem informal, por outro lado, apresenta marcas comuns da fala, uma vez que está sujeita a variações regionais e também cotidianas, como, ocorre, por exemplo, em conversas entre amigos e familiares.

Quanto a esse aspecto, analise os seguintes enunciados:

- I - Existem dias em que não devemos sair de casa.
- II - Será se vai chover hoje?
- III - Puxa, esse livro é pra gente ler rápido.
- IV - Enfim, tu necessitas repor os objetos retirados.
- V - Vossa excelência deve escolher o horário da reunião.

Assinale os enunciados em que se apresentam traços de informalidade.

- a) Apenas I e II.
- b) Apenas II e III.
- c) Apenas III e V.
- d) Apenas I e III.
- e) Apenas IV e V.

11. [A] relação necessária que se estabelece entre duas palavras, uma das quais serve de complemento à outra, é o que se chama de regência.

CUNHA, Celso; CINTRA, Lindley. *Nova gramática do Português contemporâneo*. 7. ed. Rio de Janeiro: Lexicon, 2017.

Disponível em:

<https://ia800706.us.archive.org/12/items/NovaGramaticaDoPortugusContemporaneo/Nova%20gram%C3%A1tica%20do%20portugu%C3%AAs%20contempor%C3%A2neo%20.pdf>. (adaptado).

Avalie os seguintes períodos no que concerne ao registro da regência verbal:

- I. O morador comentou sobre o ocorrido.
- II. Comunicuei os funcionários que solicitaram nossa resposta.
- III. Infelizmente a secretaria não soube me responder ao que lhe perguntei.
- IV. Sua atitude implicará em passar dias refazendo o trabalho.
- V. O diretor falou sobre os próximos passos da empresa.

Assinale os períodos em que regência verbal está estritamente de acordo com a gramática normativa.

- a) Apenas I e II.
- b) Apenas II e III.
- c) Apenas III e V.
- d) Apenas I e III.
- e) Apenas IV e V.

12.



Foto: ABr

AnarkiaBoladona grafita o feminismo

AnarkiaBoladona cria o "Grafiteiras pela Lei Maria da Penha", projeto que usa o grafite e a cultura urbana para combater a violência contra as mulheres. É o pontapé inicial para uma campanha, desenvolvida com outras grafiteiras brasileiras, que visa conscientizar sobre a recém-aprovada Lei Maria da Penha.

Disponível em: <http://memorialdademocracia.com.br/card/a-arte-engajada-de-anarkia-boladona> Acesso em: 25 mar. 2023. (adaptado)

Com base na imagem e no texto, avalie as seguintes afirmações:



- I. A frase presente no grafite é irrelevante para a compreensão de que se trata de uma obra associada ao feminicídio.
- II. A cor vermelha da tinta utilizada na frase “Luto como mulher” contribui para a associação com a luta contra o feminicídio, tematizado pela artista.
- III. A palavra “Luto” no grafite produz um duplo sentido, remetendo tanto ao enfrentamento e resistência da luta das mulheres perante a violência que sofrem quanto ao luto associado ao sentimento de dor e empatia perante a violência e as mortes já registradas.
- IV. Na frase grafitada em vermelho, “como” pode ser substituído por “perante”, sem alterar o sentido da frase, pois ambas as palavras são preposições.
- V. A imagem da mulher no grafite está associada ao papel da mulher no mercado de trabalho.

Assinale a alternativa que apresenta APENAS as afirmações corretas.

- a) I e II.
- b) II e III.
- c) III e IV.
- d) I e III.
- e) II e IV.

RACIOCÍNIO LÓGICO E MATEMÁTICO

13. Dada uma prova de múltipla escolha contendo 30 questões, com 5 alternativas por questão, em que apenas uma é correta, a probabilidade de dois candidatos responderem de forma idêntica a essa prova é de

- a) $\frac{1}{25}$.
- b) $\frac{1}{25^2}$.
- c) $\frac{1}{25^3}$.
- d) $\frac{1}{25^{15}}$.
- e) $\frac{1}{25^{30}}$.

14. Dado o sistema linear nas variáveis reais x, y e z :

$$\begin{cases} ax - 6y + 9z = 15 \\ -6x + 15y + bz = 9, \\ -3x + cy - 3z = 6 \end{cases}$$

em que os coeficientes a, b e c , nessa ordem, formam uma progressão aritmética de razão 3, e o coeficiente b é o dobro de a .

Se x, y e z é uma solução do sistema, então o produto $x \cdot y \cdot z$ é igual a

- a) 60.
- b) 18.
- c) 30.
- d) 16.
- e) 162.



15. Para todo n natural maior ou igual a 1 vale a seguinte relação: $\frac{1}{n(n+1)} = \frac{1}{n} - \frac{1}{n+1}$. Considere a soma S dada por

$$S = \frac{1}{1 \cdot 2} + \frac{1}{2 \cdot 3} + \frac{1}{3 \cdot 4} + \dots + \frac{1}{2022 \cdot 2023} .$$

Avalie as seguintes sentenças:

I. S é um número racional.

II. $S \leq \frac{1}{2}$.

III. $S = \frac{2022}{2023}$.

IV. $S \geq 1$.

Assinale a alternativa que contenha APENAS afirmações corretas.

- a) I e II.
- b) I e III.
- c) II e III.
- d) II e IV.
- e) III e IV.

16. O Corpo de Bombeiros do Piauí realizava um treino no litoral, na cidade de Luís Correia, quando, durante uma situação de emergência, o capitão de um barco disparou um sinalizador para avisar à guarda costeira que precisava de ajuda. A trajetória descrita pelo sinal luminoso foi um arco de parábola, dado pela função quadrática $f(t) = 120t - 6t^2$, em que $f(t)$ é a altura do sinal em relação ao nível do mar, em metros, e t , o tempo decorrido após o disparo, dado em segundos.

Qual a altura máxima, em metros, atingida pelo sinal luminoso?

- a) 6.
- b) 10.
- c) 20.
- d) 120.
- e) 600.

17. A planta de uma quadra tem formato retangular, com 12,5 cm de comprimento e 6,4cm de largura. Sabe-se que foi utilizada uma escala de 1:150 na construção da planta. Nesse caso, a área real dessa quadra, em metros quadrados, é igual a

- a) 80.
- b) 120.
- c) 180.
- d) 960.
- e) 1875.

18. Uma tenda de lona para acampamento, apoiada sobre uma superfície plana, possui formato de um hemisfério, e a área do piso, delimitado pela tenda, é igual a 12,56 m².

A quantidade de lona usada para a cobertura do acampamento foi de: (Se necessário, usar $\pi = 3,14$)

- a) 3,14m²
- b) 6,28 m²
- c) 12,56 m²
- d) 25,12 m²
- e) 50,24 m²



19. Um laboratório está desenvolvendo uma vacina contra gripe e avaliou os resultados de uma pesquisa com 200 voluntários, constatando que 73 sentiram dor de cabeça, 57 sentiram náuseas e 35 sentiram dor de cabeça e náuseas.

Quantos desses voluntários não sentiram dor de cabeça ou náuseas?

- a) 70.
- b) 95.
- c) 105.
- d) 127.
- e) 143.

20. Três vizinhos, Carlito, Jaykob e Machado, contaram suas aventuras para um grupo de amigos em um jantar. Sabe-se que Carlito e Jaykob mentiram, e Machado não mentiu.

Sobre essa situação, qual alternativa apresenta uma proposição verdadeira?

- a) Se Jaykob mentiu, então Carlito falou a verdade.
- b) Se Machado mentiu, então Carlito falou a verdade.
- c) Jaykob falou a verdade, e Machado mentiu.
- d) Carlito falou a verdade, e Machado mentiu.
- e) Jaykob mentiu, e Carlito falou a verdade.

21. Considere as seguintes afirmações:

(A₁) Se Lídia pula de paraquedas, então Juçara não canta.

(A₂) Ou Juçara canta ou Carla cozinha.

(A₃) Carla não cozinha se, e somente se, Lídia não dança.

Avalie as seguintes proposições:

- I. Ou Lídia dança ou Carla cozinha.
- II. Se Juçara não canta, então Lídia não dança.
- III. Carla cozinha se, e somente se, Lídia dança.
- IV. Se Lídia pula de paraquedas, então Lídia dança.

Assinale a alternativa que contenha APENAS afirmações corretas.

- a) I e II.
- b) II e III.
- c) III e IV.
- d) I e III.
- e) II e IV.

22. Uma executiva foi selecionada para representar sua empresa em uma reunião internacional. Na hora de montar sua mala, ela escolheu alguns itens para levar: 4 tipos de calças, 8 tipos de blusas, 3 tipos de pares de sandálias, 2 tipos de pares de brincos, 3 perfumes e 2 casacos. Para a primeira reunião, ela usou apenas um dos quatro primeiros itens citados. Além disso, quanto ao perfume, a executiva decidiu utilizar, nessa reunião, uma ou nenhuma das opções existentes. O mesmo critério ela adotou em relação ao casaco.

De quantas formas diferentes essa executiva pode se arrumar?

- a) 192.
- b) 384.
- c) 576.
- d) 1152.
- e) 2304.

23. “[...]. O Brasil urbano é o Brasil em que está presente o meio técnico-científico, área onde a vida de relações tende a ser mais intensa e onde, por isso mesmo, o processo de urbanização tende a ser mais vigoroso. Como admitimos que esta realidade vai estender-se rapidamente sobre o território nacional, as perspectivas da urbanização serão bem mais nítidas e fortes. Esse fato, porém, passa despercebido a quem faz projeções sem considerar a realidade e as tendências geográficas.[...]”

SANTOS, Milton. *A urbanização brasileira*. São Paulo: Editora HUCITEC, 1993.

Imagem 1



Imagem 2



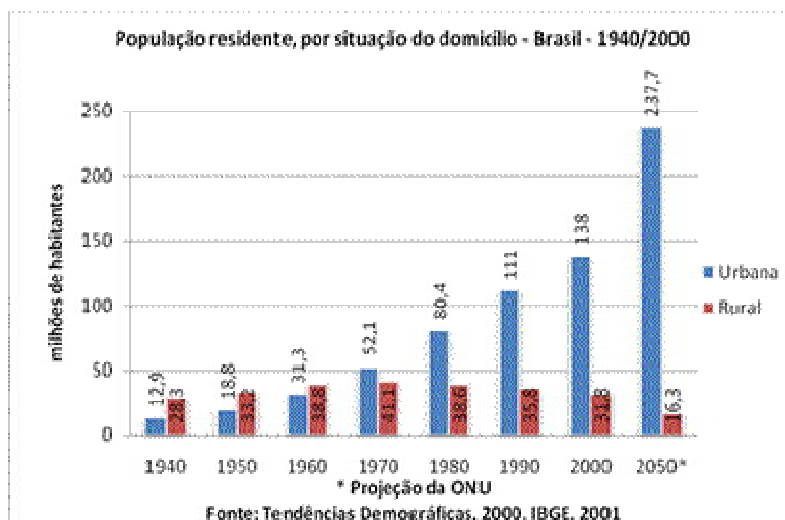
Me salva! Resumos. *Processo de urbanização*. Disponíveis em: <https://resumos.mesalva.com/processo-urbanizacao/>. Acesso em: 07 abr. 2023.

Analisando o texto de Santos (1993) e as imagens, assinale a afirmativa correta.

- O fenômeno de urbanização no Brasil tem como aspectos o desemprego e o subemprego, marcados pelo baixo processo técnico-científico. No contexto internacional, o fenômeno da urbanização tem repercussão diferente, em que tanto a segregação espacial quanto a econômica são fenômenos inexistentes.
- A urbanização no mundo é um processo em constante crescimento, destacando-se que, em 2030, 60% da população estarão no espaço urbano, promovendo o surgimento da periferia, a exemplo do processo de favelização, no Brasil, onde se acentua o desemprego devido ao baixo conhecimento técnico de parcela dessa população urbana.
- A associação entre as duas fontes, texto e imagens, permite concluir que a urbanização é um fator inevitável devido o desenvolvimento da economia capitalista. No processo de segregação espacial, o Brasil e o resto dos demais países vêm desenvolvendo políticas públicas conjuntas para resolver essa questão.
- O evento da urbanização no Brasil deixa de lado alguns pontos, como as realidades nacionais e seus elementos geográficos. O mundo urbanizado vem destruindo o ambiente natural e, ao mesmo tempo, alimentando o processo de marginalização, sendo que, nos países desenvolvidos, essa política vem sendo amenizada com ações estatais eficientes.
- A urbanização é um fenômeno global que tem aspectos de segregação espacial, com contrastes entre as habitações de condomínios, edifícios e favelas, e de segregação econômica, em que algumas pessoas podem comprar espaços em áreas nobres. Conforme a imagem 1, esse processo seguiu um ritmo lento, produzindo a imagem 2, segundo a qual a segregação vem diminuindo no Brasil.

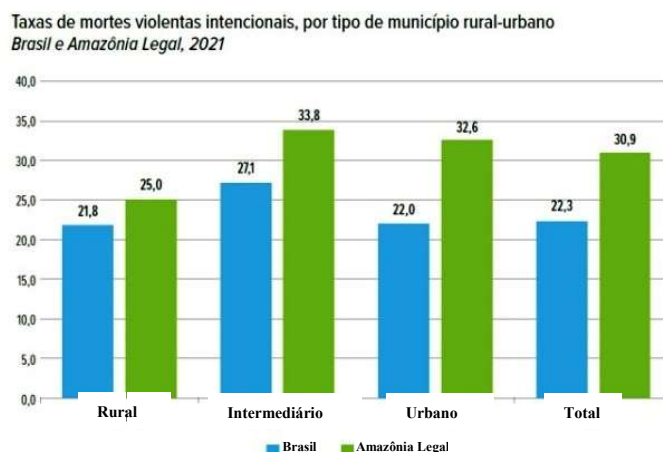
24. Em relação ao espaço brasileiro, têm-se os seguintes gráficos:

Gráfico 1



MIRANDA, Ângelo Tiago de. *Urbanização do Brasil - Consequências e características das cidades*. Disponível em: <https://educacao.uol.com.br/disciplinas/geografia/urbanizacao-do-brasil-consequencias-e-caracteristicas-das-cidades.htm>. Acesso em: 26 mar. 2023.

Gráfico 2



Fonte: Secretarias Estaduais de Segurança Pública e/ou Defesa Social; PC-MG; Instituto Brasileiro de Geografia e Estatística (IBGE); Fórum Brasileiro de Segurança Pública.

Fonte: Edição 2022 do Anuário Brasileiro de Segurança Pública 2022, p. 48. Disponível em: <https://forumseguranca.org.br/wp-content/uploads/2022/06/anuario-2022.pdf?v=5>. Acesso em: 26 mar. 2023.

Analisando os gráficos, assinale a afirmativa correta.

- O crescimento da população urbana é algo acentuado e identificado no gráfico 1. Essa projeção vem demonstrando esse crescimento, bem como as taxas por mortes violentas intencionais têm se mostrado em crescimento na maior parte nas cidades da Amazônia Legal.
- Os gráficos 1 e 2 demonstram que o crescimento da população urbana é algo normal na virada para o século XXI. Ao mesmo tempo, observa-se que o aumento das mortes violentas intencionais se acentua principalmente pela expansão populacional em todo o Brasil.
- Ao longo das décadas, o crescimento da população urbana no Brasil é algo nítido e referenciado pelo dado estatístico das Tendências Demográficas do IBGE. Ao mesmo tempo, o ritmo das mortes violentas intencionais vem acontecendo no mesmo ritmo em todo o Brasil.

- d) As formas de crescimento da população urbana demonstram que é algo normal, conforme o gráfico das Tendências Demográficas do IBGE, enquanto o gráfico das mortes violentas intencionais se acentuou na Amazônia Legal, como resultado do crescimento da economia associado aos crimes ambientais.
- e) Os gráficos se associam, pois a população urbana vem crescendo de forma acentuada, principalmente na região da Amazônia Legal, que demonstra um baixo índice nos crimes devido seu isolamento geográfico e a economia extrativa vegetal.
25. “[...] A Saúde Única é compreendida como um esforço colaborativo interdisciplinar entre medicina, veterinária e gestão ambiental como forma de prevenir e lidar com doenças infecciosas. Partindo desse conceito, o sucesso no controle de zoonoses depende da ação da sociedade nas causas do problema, o que significa mudar comportamentos individuais e coletivos relacionados ao uso de recursos e à conservação da natureza. [...]”

MORSELLO, Carla; RIBEIRO, Isabel Tostes; PRIST, Paula Ribeiro. Pandemia e mudanças ambientais globais: Qual é a relação. In: FRACALANZA, Ana P. et al. *Sociedade, meio ambiente e cidadania em tempos de pandemia*. São Paulo: Blücher, 2022. p. 40.

No fragmento de texto, o conceito de saúde se mostra mais englobante, pois, além do bem-estar físico, mental e social, acrescenta-se a qualidade de vida, sendo que a associação entre saúde e preservação ambiental vai se tornando mais necessária na atualidade. Diante desse contexto, analise as seguintes afirmações:

- I - Entre os processos de transmissão de zoonoses, podemos apontar a criação de animais selvagens em ambientes residenciais, retirando-os do seu *habitat* natural.
- II - O processo de destruição do ambiente natural dos animais promove o contato entre animais selvagens, animais domésticos e seres humanos, possibilitando o surgimento de algumas doenças.
- III - A participação das grandes corporações na degradação ambiental está em divergência com a desigualdade social, inclusive com as pandemias, pois essas empresas buscam aliar o ambiente urbano ao rural para as soluções de algumas problemáticas que surjam na sua atividade econômica.
- IV - A participação da sociedade civil juntamente com as instituições governamentais representa um ponto de reflexão na defesa do meio ambiente e na qualidade de vida como um todo.

É correto o que se afirma APENAS em

- a) I e II.
b) I e III.
c) III e IV.
d) I, II e IV.
e) I, III e IV.
26. A crise do *Silicon Valley Bank* (SVB), banco americano que investe no universo *tech*, promoveu o renascimento do debate relacionado à Crise de 2008. Sobre essas crises tem-se o seguinte:

Texto I

“[...] A crise envolvendo o Silicon Valley Bank, que faliu e foi fechado na manhã de sexta-feira, 10, pelo regulador financeiro da Califórnia, é um caso particular, e o impacto no Brasil deve ser macro, segundo o sócio e economista-chefe da Reach Capital, Igor Barenboim. O banco, que fornecia serviços financeiros em sua maioria para empresas do setor de tecnologia, sofreu uma corrida bancária decorrente do descompasso entre o valor de seus ativos e os ascendentes juros americanos. Quando o banco central americano, Federal Reserve, precisou subir as taxas para controlar a inflação, os preços dos títulos caíram. [...]”

LAUERTI, Beatriz. *Crise no SVB é caso particular e impacto no Brasil deve ser no cenário macro, diz especialista*. Disponível em: <https://flj.com.br/noticia/crise-no-svb-e-caso-particular-e-impacto-no-brasil-deve-ser-no-cenario-macro-diz-especialista>. Acesso em: 16 mar. 2023.

**Texto II**

“[...] A crise financeira de 2008 é considerada o **maior desastre econômico desde a Grande Depressão de 1929**. Apesar dos esforços do Federal Reserve e do Departamento do Tesouro dos Estados Unidos para evitá-la, aquela crise devastou a economia mundial. [...] A crise de 2008 foi causada por uma **combinação de vários fatores complexos**. Há muito tempo as instituições financeiras estavam concedendo empréstimos de alto risco, principalmente hipotecas, que resultaram em um resgate maciço dos contribuintes. De forma geral, é consenso dizer que **o mercado imobiliário americano iniciou uma grande reação em cadeia** que afetou todo o sistema financeiro. O gatilho foi uma combinação de **atividades especulativas**, concentrando-se em transações imobiliárias, especialmente nos EUA e na Europa, e na disponibilidade de crédito barato. [...]”

SIQUEIRA, Andressa. *O que foi a crise de 2008 e como afetou a economia global?* Disponível em: <https://blog.magnetis.com.br/crise-de-2008/>. Acesso em: 16 mar. 2023.

Avalie as seguintes afirmativas sobre a Crise de 2008 e a crise do Banco SVB em relação ao contexto mundial e nacional e assinale a **CORRETA**.

- a) As economias dos países estão blindadas, pois, a partir da Crise de 2008, os mecanismos financeiros se tornaram rígidos em relação à propagação de depressão econômica no cenário mundial, efeito de os capitais de investimentos serem nacionais.
 - b) A Crise de 2008 foi resultado de um conjunto de elementos, enquanto a atual relacionada ao Silicon Valley Bank é interna do mercado americano, relacionada aos financiamentos das empresas ligadas à tecnologia no contexto americano.
 - c) A crise financeira é resultado de um complexo universo de fatores, bem como ao relacionado ao Silicon Valley Bank, pois há de se observar a interligação das economias por meios de financiamentos, relações comerciais e outras modalidades, como foi o aporte habitacional relacionado à Crise de 2008.
 - d) O contexto relativo à Crise de 2008 foi a especulação imobiliária americana, ou seja, restrita ao universo americano, semelhante ao do *Silicon Valley Bank*, em que as crises, localizadas na América do Norte, dificilmente afetarão o universo financeiro.
 - e) A economia brasileira é imune ao risco das tribulações financeiras relacionadas ao mercado internacional, como foi visto na Crise de 2008 e na repercussão da crise do *Silicon Valley Bank*.
27. “A invasão da Rússia à Ucrânia iniciada em 24 de fevereiro de 2022 representará um divisor de águas na história das relações internacionais do século XXI. Em que pese o fato de conflitos no continente europeu não terem sido novidade no pós-guerra fria – vide os casos da desintegração da Iugoslávia (1992-1995), da guerra em Kosovo em 1999 e das invasões russas à Geórgia em 2008 e à própria Ucrânia em 2014 (Península da Criméia e região de Donbass) –, o conflito em curso tem natureza distinta e, logo, implicações também distintas para a segurança internacional. [...]”

LOUREIRO, Felipe. *A Guerra na Ucrânia: significados e perspectivas: consequências políticas, estratégicas e econômicas*. Disponível em: <https://repositorio.usp.br/directbitstream/f9556860-1aa2-4ba0-844c-d2ba84520e63/3075967%20Felipe-CEBRI-Revista%20A%20Guerra%20na%20Ucr%C3%A2nia%20significados%20e%20perspectivas.pdf>. Acesso em: 15 mar. 2023.

Considerando a temática em discussão, assinale a afirmativa correta:

- a) O conflito da Guerra da Ucrânia marca a perda geopolítica sofrida pela Rússia desde o final da Guerra Fria, que se consolidou no decorrer do século XX.
- b) A Guerra da Ucrânia corresponde a um conflito em que as questões relacionadas ao contexto dos refugiados promoveram uma discordância, pois os ucranianos afetados pela guerra obtiveram a negativa de entrarem nos países vizinhos, em virtude do temor da retaliação da Rússia.



- c) A Guerra da Ucrânia demonstra que os conflitos entre EUA e Rússia ainda estão bem vivos, necessitando que a China, país em evidência econômica mundial, entre nesse contexto para criar uma política internacional de paz e, principalmente, equilibrar o mercado econômico de todas as nações.
- d) A Guerra da Ucrânia demonstra a força da Rússia no contexto internacional, o que acende novamente o temor dos conflitos do período da Guerra Fria, todavia, com a neutralidade das demais nações, por compreenderem que é um assunto político interno entre a Rússia e a Ucrânia.
- e) A espiral de conflitos entre a Rússia e a Ucrânia é alimentada pelo interesse de países como China e Japão em promover um desequilíbrio na geopolítica na Ásia, para iniciar o avanço chinês e o japonês nos domínios políticos e econômicos russos.

28. “Entramos no século XXI com sinais evidentes de que a natureza vem dando severos recados em relação à forma com que estamos usando os recursos naturais. O Quarto Relatório Científico do IPCC (AR4) apresenta claras evidências de que mudanças de clima podem afetar significativamente o planeta, em especial, os países menos desenvolvidos nas regiões tropicais. [...]”.

LOBO, Emiliano. *Século XXI e a sustentabilidade ambiental*. Disponível em: <https://jornal.ufg.br/n/165403-seculo-xxi-e-a-sustentabilidade-ambiental>. Acesso em: 15 mar. 2023.

O fragmento acima é parte do texto *Século XXI e a sustentabilidade ambiental*, de autoria de Emiliano Lobo Godoi, professor da UFG.

Considerando a temática em questão, avalie as afirmações a seguir:

- I - A economia circular se propõe a ser um processo relacionado ao desenvolvimento econômico com o uso dos recursos naturais, que se utiliza de negócios com a otimização da dependência da matéria-prima no seu estado virgem, utilizando materiais mais duráveis, renováveis e recicláveis.
- II - A economia verde, que corresponde a um processo que as grandes economias que produzem altas emissões de carbono precisam adotar no seu contexto, constitui-se de um misto de manufatura com foco na produção industrial e no fabrico de produtos orgânicos.
- III - Uma das tendências mundiais em relação ao meio ambiente e ao uso dos recursos naturais será as empresas adotarem um processo de uma economia de baixo carbono.
- IV - Na sustentabilidade ambiental, a Região Amazônica é estratégica no equilíbrio mundial, pois concentra recursos como água, minerais e biodiversidade. Nesse cenário, o Brasil se torna um país de equilíbrio que vem promovendo a segurança e a racionalidade na extração dos recursos naturais.

É correto o que se afirma **APENAS** em

- a) I e II.
- b) I e III.
- c) III e IV.
- d) I, II e IV.
- e) II, III e IV.

CONHECIMENTOS REGIONAIS DO ESTADO DO PIAUÍ

29. O Piauí possui 224 municípios distribuídos em Territórios de Desenvolvimento, conforme dados da Secretaria do Planejamento do Estado do Piauí (2022).

Qual alternativa apresenta apenas a identificação correta dos citados territórios?

- a) Vale do Sambito e Tabuleiros do Alto Parnaíba.
- b) Carnaubais e Tabuleiros litorâneos.
- c) Planície litorânea e Vale do Rio Igarauçu.
- d) Cocais e Vale dos rios Piauí e Itainópolis.
- e) Serra da Capivara e Vale do Rio Longá.



30.

Rafael Fonteles apresenta plano de desenvolvimento do Piauí a empresários

Piauí Tech, Piauí Agro e Piauí Verde são as três vertentes do “maior projeto de desenvolvimento da história do Estado”.

30 de janeiro de 2023 às 18:09.

Fonte: <https://www.pi.gov.br/noticias/rafael-fonteles-apresenta-plano-de-desenvolvimento-do-piaui-a-empresarios/>

A manchete acima sinaliza perspectiva de desenvolvimento para o estado do Piauí. Considerando aspectos da produção piauiense e as principais características referentes ao comportamento desse segmento no Piauí, marque a afirmativa correta:

- a) São João do Piauí ficou conhecido por abrigar, em um assentamento da reforma agrária na região semiárida do estado, campos de fruticultura onde se destacam as melancias.
 - b) O município de Bom Jesus tem passado por grandes transformações urbanas e rurais, com a implementação da maior produção de grãos de sorgo em 2021.
 - c) O extrativismo vegetal tem o pó do coco babaçu como elemento principal neste segmento e segue como potencialidade para o Território de Desenvolvimento Entre rios.
 - d) Em Pedro II, ganham destaque as temperaturas mais amenas em razão do clima tropical de altitude e as minas de extração da ágata, indicando a mineração como potencialidade para a região.
 - e) Os galináceos representam o maior rebanho do estado, seguido pelo rebanho de caprinos, em segundo lugar, e pelo rebanho de ovinos, em terceiro lugar.
31. A Lei Estadual nº 4.854, de 10 de julho de 1996, que “Dispõe sobre a política de meio ambiente do estado do Piauí e dá outras providências”, refere-se à preservação e à conservação de recursos naturais renováveis e não renováveis.

Assinale a alternativa correta sobre as Unidades de Conservação localizadas em território piauiense:

- a) A Serra das Mangabeiras está incluída na categoria Parque ecológico e abrange áreas das nascentes do rio Parnaíba.
 - b) Uruçuí-Una está incluída na categoria de Estação Ecológica e fica localizada nos domínios dos cerrados piauienses.
 - c) O Parque ecológico Cachoeira do Urubu abrange trecho do leito do rio Maratoan, que fica entre os municípios de Batalha e Esperantina.
 - d) O Delta do Parnaíba é uma Área de Preservação Permanente e está localizado no litoral do estado do Piauí.
 - e) O Parque Floresta Fóssil está localizado em Teresina, sendo assim denominado por abrigar restos/vestígios de árvores estratificadas.
32. Sobre a constituição do território piauiense, o Piauí aparece como o terceiro maior estado da região Nordeste do Brasil, com área territorial de 251.755,485 km², abrigando população estimada em 3.289.290 habitantes (SEPLAN, 2022).

Considerando o contexto da constituição do território piauiense, avalie as seguintes afirmações:

- I - Ao final do século XVIII, havia 112 importantes núcleos urbanos consolidados em território piauiense. Atualmente, o estado conta com 223 municípios.
- II - A localização equidistante com as demais regiões produtoras do país e a navegabilidade do rio Parnaíba foram argumentos utilizados para a transferência da capital para Teresina, em 1851.
- III - Dentre as rodovias que perpassam o Piauí, a única rodovia do tipo radial é a BR-020, a qual conecta o estado com a capital federal do país.



IV - Dentre as quatro mesorregiões que dividem o estado (Norte, Centro-Norte, Sudoeste e Sudeste), é na mesorregião Sudeste que predominam os cerrados piauienses.

Marque a alternativa que apresenta APENAS afirmações corretas:

- a) I e II.
- b) I e III.
- c) II e III.
- d) III e IV.
- e) II e IV.

33.

Defesa Civil registra mais de 20 ocorrências devido a forte chuva em Teresina

A forte chuva que atingiu Teresina neste final de semana causou estragos por toda a cidade. Em entrevista ao Notícia da Manhã, o secretário municipal de Defesa Civil, Carlos Ribeiro, informou que o órgão registrou mais de 20 ocorrências na noite de sábado (11) e madrugada do domingo (12). Segundo o monitoramento do Instituto Nacional de Meteorologia (INMET), Teresina registrou 75,4 mm de chuva e ficou entre as dez cidades do Brasil com o maior acumulado nas últimas 24 horas.[...]

Fonte: <https://cidadeverde.com.br/noticias>. Acesso em: 13mar. 2023.

Acerca do comportamento das chuvas no Piauí, assinale a afirmação correta.

- a) A zona leste de Teresina é uma região que recebe, de forma recorrente, o impacto de alagamentos causados pela ocorrência de fortes chuvas, apesar de ser menos vulnerável às inundações causadas pelo regime dos rios presentes na capital.
- b) São exemplos de sistemas atmosféricos atuantes no clima piauiense: massa equatorial continental capaz de causar chuvas intensas, ondas de leste atenuadoras das marés e zona de convergência intertropical que gera ventos e tempestades.
- c) A zona norte de Teresina é uma das regiões impactadas historicamente por alagamentos, principalmente, na área da confluência dos rios Poti e Parnaíba. A construção do dique no bairro Poti Velho foi uma medida para conter o avanço das olarias nessa região.
- d) O fato de o Piauí estar em uma zona de transição entre dois grandes domínios morfoclimáticos minimiza as diferenças climáticas entre suas regiões e anula problemas com as frequentes chuvas de granizo nos municípios mais frios do estado.
- e) Considerando a distribuição das chuvas no território do Piauí, o clima semiárido instalado na região sudeste do estado está condicionado pelos baixos índices de evapotranspiração registrados nas estações meteorológicas ali disponibilizadas.

34. Não predominam grandes altitudes nas formas de relevo no Piauí (MAVIGNIER, 2007).

Quanto a isso, avalie as seguintes afirmativas:

- I. As planícies do estado estão associadas principalmente às áreas da bacia sedimentar do rio Parnaíba e estendem-se até o extremo norte do Piauí, em direção ao Delta do rio Parnaíba, que faz divisa com o estado do Maranhão.
- II. O relevo piauiense apresenta feições caracterizadas como planícies e platôs. Com isso, o ponto mais elevado é atribuído à Chapada das Matopibas, na região de fronteira com Bahia e Tocantins.
- III. Dentre os grandes grupos de relevos (Arco da Fronteira, Chapadões do Sul, Cuestas do centro, Contrafortes da Ibiapaba e Morros isolados), o conjunto Chapadões do Sul abriga a Serra das Confusões.
- IV. Os cânions do rio Poti são considerados patrimônio da humanidade desde o ano 2000, em virtude da ocorrência de intenso fluxo turístico na região dos Chapadões do Sul.



Marque a alternativa que apresenta APENAS afirmações corretas:

- a) I e II.
- b) II e III.
- c) III e IV.
- d) I e III.
- e) III e IV.

NOÇÕES DE INFORMÁTICA

35. A Internet é uma gigantesca rede mundial de computadores interligados entre si. Ela possui uma série de recursos de informação e serviços, como documentos inter-relacionados em hipertextos, correio eletrônico, acesso remoto e transferência de arquivos. Para navegação na internet, utilizam-se programas conhecidos como navegadores web, que têm a capacidade de exibir páginas armazenadas na Internet.

Com relação aos conceitos sobre Internet, avalie as seguintes afirmações:

- I - *Link* é uma ligação feita em uma palavra, texto ou imagem que sempre indica uma URL para acesso a um endereço de outra página.
- II - URL (*Uniform Resource Locator*) é o endereço de um recurso disponível na Internet. O formato da URL é composto pelo domínio e caminho do recurso, porém não especifica o protocolo utilizado.
- III- Os históricos dos navegadores web têm a função de registrar automaticamente as páginas visitadas recentemente.
- IV- A lista de favoritos são páginas da web armazenadas por ação do usuário.

Assinale a alternativa que apresenta APENAS as afirmações corretas.

- a) I e II.
- b) II e III.
- c) III e IV.
- d) I e III.
- e) II e IV.

36. No Microsoft PowerPoint 2019, é possível adicionar anotações do orador aos slides. O painel de anotações é uma caixa que aparece abaixo de cada slide. Dessa forma, quando o computador está conectado a um projetor, e o usuário inicia a apresentação (tendo utilizado o recurso de anotações nos slides), no modo de exibição do apresentador, ficam visíveis _____ na tela do computador e _____ na tela do projetor.

As expressões que, corretamente, preenchem respectivamente as lacunas são

- a) apenas as anotações | apenas os slides.
- b) os slides e as anotações | apenas os slides.
- c) apenas os slides | apenas os slides.
- d) apenas os slides | apenas as anotações.
- e) apenas os slides | os slides e as anotações.



37. O Excel 2019 é um software de edição de planilhas eletrônicas desenvolvido pela Microsoft que permite criar e formatar planilhas e gráficos simples ou complexos. Essas planilhas são constituídas por células organizadas em linhas e colunas. Trata-se de um programa dinâmico, com interface atrativa e muitos recursos para o usuário, tais como fórmulas e funções para elaboração de cálculos.

Em relação ao Microsoft Excel 2019, avalie as seguintes afirmações:

- I - A funcionalidade para obtenção de dados externos permite a importação de arquivos CSV, porém não possibilita a importação de dados de um Banco de Dados.
- II - As linhas são representadas por números; as colunas, por letras, e o endereço da célula é formado pela letra da coluna e número da linha.
- III - A opção de classificação de dados permite a ordenação por texto (A a Z ou Z a A) e números (dos menores para os maiores ou dos maiores para os menores), porém não possibilita a classificação de data e hora (da mais antiga para a mais nova e da mais nova para a mais antiga).
- IV - Uma fórmula pode conter todos os seguintes itens: funções, referências, operadores e constantes. Além disso, as fórmulas sempre começam com o sinal de igual.

Assinale a alternativa que apresenta APENAS as afirmações corretas.

- a) I e II.
 - b) II e III.
 - c) III e IV.
 - d) I e III.
 - e) II e IV.
38. O Word 2019 é um processador de texto desenvolvido pela Microsoft, projetado para criar documentos de qualidade profissional. Com as melhores ferramentas de formatação de documento, o Word ajuda a organizar e escrever os documentos com mais eficiência. Além disso, os documentos podem ser enriquecidos com imagens, *links*, gráficos e tabelas, entre outros elementos.

Em relação ao Microsoft Word 2019, avalie as seguintes afirmações:

- I – Para inserir uma imagem em um documento, executam-se os seguintes passos: guia *Inserir*, grupo *Ilustrações*, clica-se em *Imagens* e em uma das seguintes opções: *Este Dispositivo* ou *Imagens Online*, que permitem, respectivamente, inserir imagens do próprio computador ou inserir imagens de várias fontes online.
- II – Na guia *Layout*, há a opção *Imprimir*, que permite visualizar e configurar a impressão do documento.
- III – É possível se aplicarem em uma mesma palavra as formatações Negrito, Itálico e Sublinhado. Essas opções são encontradas no grupo *Fonte* da guia *Página Inicial*.
- IV – A inserção de tabela a um documento pode ser realizada clicando com o botão direito do mouse no documento; depois, no menu *Tabela*, escolhendo-se o número de colunas e de linhas desejadas.

Assinale a alternativa que apresenta APENAS as afirmações corretas.

- a) I e II.
- b) II e III.
- c) III e IV.
- d) I e III.
- e) II e IV.



39. O Windows 10 é um sistema operacional gráfico desenvolvido pela Microsoft que utiliza imagens, ícones, menus e outros elementos visuais para facilitar a interação e ser mais amigável ao usuário. É também responsável pelo gerenciamento de todos os hardwares e softwares dos computadores.

Em relação ao Microsoft Windows 10, avalie as seguintes afirmações:

- I - Há diferentes maneiras de remover um programa do computador, sendo que uma delas é através de *Programas\Programas e Recursos do Painel de Controle*.
- II - Para organizar os ícones na Área de Trabalho, clica-se, com o botão direito do mouse, na *Área de Trabalho* e no menu *Classificar por*; em seguida escolhe-se uma das opções: *Nome, Tamanho, Tipo de item* ou *Data de modificação*.
- III - Um atalho, para funcionar corretamente, deverá estar armazenado no mesmo local do arquivo, pasta ou programa que será acessado pelo atalho.
- IV - A partir do *Explorador de Arquivos* não é possível acessar os arquivos, pastas e atalhos localizados na Área de Trabalho.

Assinale a alternativa que apresenta APENAS as afirmações corretas.

- a) I e II.
- b) II e III.
- c) III e IV.
- d) I e III.
- e) II e IV.

40. O computador é constituído por um conjunto de componentes que são integrados para funcionar como se fossem um único elemento e que tem por objetivo realizar manipulações com dados. De forma geral, os elementos de hardware utilizados no processamento de dados são: processador (CPU), memória e os dispositivos de entrada e saída.

MONTEIRO, M. A. *Introdução à Organização de Computadores*. 5. ed. Rio de Janeiro: LTC, 2007.

Entre os componentes básicos do hardware de um computador, qual é constituído de vários dispositivos com características diferentes de desempenho, porém todos servindo a um mesmo propósito: armazenamento e recuperação?

- a) Periféricos.
- b) Processador.
- c) Memória.
- d) Dispositivos de entrada.
- e) Dispositivos de saída.

CONHECIMENTOS ESPECÍFICOS

LEGISLAÇÃO INSTITUCIONAL

41. Segundo a Lei nº 5.949, de 17/12/2009 (Lei de Organização Básica do Corpo de Bombeiros Militar do Estado do Piauí), alterada pela Lei nº 7.772, de 04/04/2022, os órgãos de execução serão classificados de acordo com a necessidade dos serviços operacionais e administrativos de uma determinada área, sendo considerados, para este fim, alguns requisitos. Nesse contexto, identifique a alternativa correta, a qual apresenta apenas os referidos requisitos previstos nessa norma:
- a) População, território de desenvolvimento, poder operacional, a carreira bombeiro militar e mapeamento fluvial do Piauí.
 - b) Indicadores de acidentes e violência no trânsito, território de desenvolvimento, valor histórico e cultural, malha viária e meio ambiente.
 - c) Estrutura hierárquico-disciplinar, rede de bares e lanchonetes, território de desenvolvimento, população e poder operacional.



- d) Indicadores de acidentes e violência no trânsito, população indígena, território de desenvolvimento, mapeamento fluvial do Piauí e poder operacional.
- e) Densidade de indústria e comércio, mapeamento fluvial do Piauí, população indígena, território de desenvolvimento e estrutura hierárquico-disciplinar.
42. Analise as afirmações a seguir, com fundamento na Lei nº 5.462, de 30/06/2005, Lei de Promoção de Praças do Corpo de Bombeiros Militar do Estado do Piauí, e indique a alternativa correta:
- a) Essa Lei estabelece os critérios e as condições que asseguram às praças do Corpo de Bombeiros Militar do Estado do Piauí (CBMEPI) e da Polícia Militar do Piauí (PMPI) o acesso na hierarquia bombeiro militar, mediante promoção de forma seletiva, gradual e sucessiva.
- b) A promoção é um ato jurídico e tem como finalidade básica o preenchimento seletivo das vagas pertinentes ao grau imediatamente superior, com base nos efetivos fixados pelo Exmo. Sr. Governador do Estado do Piauí, através da publicação de decreto.
- c) A promoção por merecimento não está condicionada à existência de vaga, pois se baseia no conjunto de qualidades e atributos que distinguem e realçam o valor da praça entre seus pares, avaliados no decurso da carreira, em particular na graduação que ocupa ao ser cogitado para a promoção.
- d) As promoções das praças do Corpo de Bombeiros Militar do Piauí são efetuadas apenas pelos critérios de antiguidade e merecimento.
- e) A forma seletiva, gradual e sucessiva da promoção resultará de um planejamento para a carreira das praças, organizado no Corpo de Bombeiros Militar do Estado do Piauí, de acordo com a sua peculiaridade. O planejamento assim realizado deverá assegurar um fluxo de carreira regular e equilibrado.
43. A Lei nº 3.808, de 16/07/1981, que trata do Estatuto dos Policiais Militares do Estado do Piauí, regula a situação, obrigações, deveres, direitos e prerrogativas dos Policiais e Bombeiros Militares do Estado do Piauí. Com fundamento nessa lei, assinale “V” para a(s) afirmação(ões) verdadeira(s) e “F” para a(s) falsa(s) e, ao final, assinale a alternativa com a sequência correta:
- I. () A precedência entre policiais militares da ativa do mesmo grau hierárquico é assegurada pela antiguidade no posto ou na graduação, salvo nos casos de precedência funcional em lei ou regulamento.
- II. () Graduação é o grau hierárquico dos Oficiais, conferido por ato do Governador do Estado.
- III. () Em igualdade de posto ou graduação, os Bombeiros Militares da inatividade têm precedência sobre os da ativa, pois possuem mais tempo de serviço.
- IV. () O provimento do cargo policial militar se faz por ato de nomeação, designação ou determinação expressa de autoridade competente.
- V. () Os Bombeiros Militares encontram-se em três situações: ativo, inativo e reserva convocada temporariamente.
- VI. () O sentimento do dever, o pundonor policial-militar e decoro da classe impõem a cada um dos integrantes da Polícia Militar condutas moral e profissional irrepreensíveis, com observância dos preceitos da ética policial-militar.
- VII. () A antiguidade em cada posto ou graduação é contada a partir da data da assinatura do ato da respectiva promoção, nomeação, declaração ou inclusão, salvo quando estiver taxativamente fixada outra data.
- a) V – V – F – V – F – F – V
b) V – V – F – F – F – V – V
c) V – V – F – V – F – F – F
d) V – F – F – V – F – V – V
e) V – F – F – V – F – F – V



44. De acordo com a Lei nº 7.725, de 17/01/2022 (Código de Ética e Disciplina dos Militares do Estado do Piauí), analise as afirmações a seguir, e marque a alternativa correta:

- a) Decoro da classe é o dever do militar pautar a sua conduta corretamente, exigindo-se dele, em qualquer ocasião, comportamento ético que refletirá no seu desempenho perante a Corporação.
- b) Pundonor militar é o valor moral e social da instituição perante a comunidade.
- c) Honra pessoal é o sentimento de dignidade coletiva, apreço e respeito de que é objeto ou se torna merecedor o militar perante seus superiores.
- d) É dever ético do militar estadual estar disponível e preparado para as missões que desempenhar quando estiver devidamente escalado de serviço.
- e) A deontologia militar é constituída pelos valores e deveres éticos, traduzidos em normas de conduta que se impõem para que o exercício da profissão do militar estadual atinja plenamente os ideais de realização do bem-comum.

45. Tendo como referência a Lei nº 7.725, de 17/01/2022, que dispõe sobre o Código de Ética e Disciplina dos Militares do Estado do Piauí, analise as afirmações a seguir, assinalando “V” para a(s) afirmação(ões) verdadeira(s) e “F” para a(s) falsa(s). Ao final assinale a alternativa com a sequência correta:

- I. () Transgressão disciplinar é toda ação praticada pelo militar contrária aos preceitos estatuídos no ordenamento jurídico pátrio, ofensiva à ética, aos deveres e às obrigações militares, mesmo na sua manifestação elementar e simples, ou ainda que afete a honra pessoal, o pundonor militar e o decoro da classe, previstos no Código em referência, não caracterizada como crime ou contravenção penal.
- II. () Da prática de transgressão disciplinar decorrem ao infrator as sanções previstas apenas no Código em referência, não cabendo mais responsabilidades penal e/ou civil.
- III. () Ao aluno matriculado em curso de formação para ingresso nas Corporações Militares, no que concerne à disciplina, além do disposto nos regulamentos próprios dos estabelecimentos de ensino onde estiver matriculado, aplica-se, subsidiariamente, o previsto no Código em referência.
- IV. () A aplicação das sanções disciplinares previstas no Código em referência ficam vinculadas e dependentes do resultado de eventual ação penal ou cível.
- V. () As sanções disciplinares aplicáveis aos militares estaduais são advertência, repreensão, suspensão, reforma disciplinar compulsória, demissão, licenciamento e exclusão a bem da disciplina.
- VI. () As sanções disciplinares aplicáveis aos militares estaduais dependem do posto, graduação ou função que exercem.
- VII. () As transgressões são classificadas, de acordo com a sua gravidade, em gravíssimas, graves, médias e leves.

- a) V – F – V – F – F – F – F
- b) V – F – F – F – F – F – V
- c) V – F – V – F – V – F – F
- d) V – F – V – V – F – F – V
- e) V – F – V – V – V – F – V

46. A Lei nº 5.949, de 17/12/2009, é a Lei de Organização Básica do Corpo de Bombeiros Militar do Estado do Piauí (alterada pela Lei nº 7.772, de 04/04/2022). Com base nesta legislação, analise as afirmações a seguir, assinalando “V” para a(s) afirmação(ões) verdadeira(s) e “F” para a(s) falsa(s). Ao final assinale a alternativa com a sequência correta:

- I. () O Corpo de Bombeiros Militar está estruturado em órgãos de direção geral, órgãos de direção setorial, órgãos de apoio, órgãos de assessoramento e órgãos de execução.



- I. () Os órgãos de execução são responsáveis pela realização das operações dos bombeiros militares.
- III. () Os órgãos de direção geral incumbem-se do planejamento geral, visando ao emprego do pessoal e material da Corporação.
- IV. () São órgãos de Direção Geral: I - Comando Geral, constituído de Comandante-Geral e Subcomandante-Geral, e II - Alto Comando.
- V. () Os órgãos de direção setorial realizam o comando da Corporação.
- VI. () Os órgãos de apoio atendem às necessidades de pessoal, de material e de serviço de toda a corporação.
- VII. () Os órgãos de assessoramento prestam serviços afetos às áreas de consultoria e de assessoramento técnico.

- a) V – V – F – F – V – V – F
- b) V – V – F – V – F – V – V
- c) V – V – F – F – V – F – V
- d) V – V – F – F – F – V – V
- e) F – V – F – F – V – V – V

47. Tendo como referência a Lei nº 5.949, de 17/12/2009, Lei de Organização Básica do Corpo de Bombeiros Militar do Estado do Piauí (alterada pela Lei nº 7.772, de 04/04/2022), identifique a alternativa correta, que contenha apenas Órgãos de Direção Setorial do Corpo de Bombeiros Militar do Estado do Piauí:

- a) Diretoria de Gestão de Pessoas (DGP), Ajudância Geral (AJG), Diretoria Administrativa e Financeira (DAF), Diretoria de Ensino, Instrução e Pesquisa (DEIP).
- b) Diretoria de Ensino, Instrução e Pesquisa (DEIP), Núcleo de Defesa Civil (NDC) e Diretoria Administrativa e Financeira (DAF).
- c) Estado-Maior-Geral (EMG), Diretoria de Ensino, Instrução e Pesquisa (DEIP), Ajudância Geral (AJG) e Diretoria de Gestão de Pessoas (DGP).
- d) Diretoria de Segurança Contra Incêndio (DSCI), Diretoria de Gestão de Pessoas (DGP), Diretoria Administrativa e Financeira (DAF) e Diretoria de Ensino, Instrução e Pesquisa (DEIP).
- e) Estado-Maior-Geral (EMG), Núcleo de Defesa Civil (NDC), Diretoria de Segurança Contra Incêndio (DSCI) e Diretoria de Gestão de Pessoas (DGP).

48. Tendo como referência a Lei nº 3.808, de 16/07/1981 (Estatuto dos Policiais Militares do Estado do Piauí) e a Lei nº 5.276, de 23/12/2002 (Lei de Desvinculação do Corpo de Bombeiros da Polícia Militar do Piauí), analise as afirmações a seguir, assinalando “V” para a(s) afirmação(ões) verdadeira(s) e “F” para a(s) falsa(s). Ao final, assinale a alternativa com a sequência correta:

- I. () Desde a sua desvinculação da Polícia Militar do Piauí, o Corpo de Bombeiros vem aplicando legislação própria.
- II. () As obrigações inerentes ao cargo de policial militar devem ser compatíveis com o correspondente grau hierárquico e definidas em legislação ou regulamentação peculiares.
- III. () A precedência entre policiais militares da ativa do mesmo grau hierárquico é assegurada pela antiguidade no posto ou na graduação, salvo nos casos de precedência funcional em lei ou regulamento.
- IV. () A subordinação não afeta de modo algum a dignidade pessoal do policial militar e decorre, exclusivamente, da estrutura hierárquica da Polícia Militar.
- V. () O Corpo de Bombeiros Militar do Estado do Piauí passa a integrar a composição organizacional do Poder Executivo Estadual como órgão da Administração Indireta, subordinada diretamente ao Secretário de Defesa Civil, nos termos da Constituição do Piauí.
- VI. () Cabe ao policial militar a responsabilidade integral pelas decisões que tomar, pelas ordens que emitir e pelos atos que praticar.



VII. () O Ingresso nos Quadros de Oficiais do Corpo de Bombeiros Militar dar-se-á no posto de Aspirante a Oficial BM e no Quadro de Praças, na graduação de Soldado BM, obedecendo aos requisitos previstos em leis específicas da Corporação.

- a) F – V – F – F – F – V – F
- b) F – V – F – F – F – F – F
- c) F – V – F – F – V – V – V
- d) F – F – F – F – F – V – V
- e) F – V – V – V – F – V – F

49. Considerando a Lei nº 3.808, de 16/07/1981 (Estatuto dos Policiais Militares do Estado do Piauí), que também se aplica ao Corpo de Bombeiros Militar do Estado do Piauí, analise as afirmações a seguir e, com base na norma mencionada, indique a alternativa correta:

- a) A hierarquia, a disciplina e o companheirismo são a base institucional do Corpo de Bombeiros Militar do Piauí. A autoridade e a responsabilidade crescem com o grau hierárquico.
- b) Durante o prazo de 3 (três) anos contados da posse, não poderá o bombeiro militar ser afastado das suas atividades de defesa civil, nem ser removido, redistribuído ou transferido, exceto nos casos de comprovada necessidade, cabendo exclusivamente ao Governador do Estado o respectivo ato.
- c) A disciplina e o respeito à hierarquia devem ser mantidos, em todas as circunstâncias da vida, entre policiais militares da ativa, da reserva remunerada e reformados.
- d) O Subtenente BM é denominado Oficial em Condição Especial.
- e) Os Bombeiros Militares reformados poderão ser convocados para o serviço ativo, em caráter transitório e mediante aceitação voluntária, por ato do Governador do Estado do Piauí, desde que haja conveniência para o serviço.

50. Analise as afirmativas a seguir e, com fundamento na Lei nº 5.949, de 17/12/2009 (Lei de Organização Básica do Corpo de Bombeiros Militar do Estado do Piauí), na Lei nº 7.725, de 17/01/2022 (Código de Ética e Disciplina dos Militares do Estado do Piauí) e na Lei nº 3.808, de 16/07/1981 (Estatuto dos Policiais Militares do Estado do Piauí), marque a afirmativa correta:

- a) O cargo de Comandante-Geral do Corpo de Bombeiros Militar do Estado do Piauí é privativo de oficial do último posto da Corporação, integrante do Quadro de Oficiais Bombeiros Militar Combatentes a ser nomeado pelo Governador do Estado, podendo, excepcionalmente, ser nomeado um Coronel da Polícia Militar do Estado do Piauí para o referido cargo.
- b) O Quadro de Oficiais Bombeiros Militar Complementares será constituído pelos Oficiais promovidos a partir da graduação de Subtenente do Quadro de Praças, formados no Curso de Formação de Oficiais Bombeiros Militar (CFOB).
- c) O Conselho de Disciplina é o processo administrativo disciplinar especial destinado a apreciar a capacidade de permanência nas fileiras da Corporação Militar Estadual das praças do serviço ativo com estabilidade assegurada, das praças especiais, bem como a capacidade das praças da reserva remunerada e reformada de permanecerem na situação de inatividade em que se encontram, criando-lhes, ao mesmo tempo, condições para se defenderem.
- d) O Conselho de Disciplina funcionará, quando possível, com a totalidade de seus membros, em local que a autoridade instauradora, ou seu presidente, julgue melhor indicado para a realização dos trabalhos.
- e) Os integrantes da reserva remunerada, em hipótese alguma, poderão ser convocados para a ativa.

NOÇÕES DE DIREITO

51. Em conformidade com o artigo 58 da Constituição do Estado do Piauí, são considerados militares os membros da Polícia Militar e do Corpo de Bombeiros Militar, ambos organizados com base na hierarquia e disciplina (BRASIL, 1989).

Constituição Estadual do Piauí. Brasília, DF: Senado Federal. 2023. Disponível em: <https://www2.senado.leg.br/bdsf/item/id/70447>. Acesso em: 02 maio 2023.

Avalie as seguintes afirmações:

- I. Aquele militar do Estado em atividade que aceitar cargo ou emprego público civil permanente poderá ser transferido para a reserva, nos termos da lei.
- II. As patentes dos oficiais da Polícia Militar e do Corpo de Bombeiros Militar do Estado são conferidas pelo Governador.
- III. As patentes, com prerrogativas, direitos e deveres a elas inerentes são asseguradas em plenitude aos oficiais da ativa, excetuando-se os da reserva ou reformados, da Polícia Militar e do Corpo de Bombeiros Militar do Estado, sendo-lhes privativos os títulos, postos e uniformes militares.
- IV. Para que o oficial perca o posto e a patente, deverá ser julgado indigno do oficialato ou com ele incompatível, por decisão do Tribunal Superior Militar de Justiça (em tempo de paz) ou de tribunal especial (em tempo de guerra).
- V. Ao militar do Estado são vedadas apenas a sindicalização e a filiação a partido político, enquanto estiver em efetivo serviço.

Assinale a alternativa que apresenta APENAS as afirmações corretas.

- a) I e II.
- b) II e III.
- c) III e V.
- d) I e III.
- e) II e V.

52. A Justiça Militar no Estado do Piauí rege-se, em primeiro plano, pela Constituição estadual, sendo constituída, em primeiro grau, na forma da lei, por juízes de Direito de entrância final e pelos Conselhos de Justiça, presididos por Juiz de Direito e, em segundo grau, pelo próprio Tribunal de Justiça, em conformidade com o disposto no artigo 131 da Constituição do Estado do Piauí (BRASIL, 1989).

Constituição Estadual do Piauí. Brasília, DF: Senado Federal. 2023. Disponível em: <https://www2.senado.leg.br/bdsf/item/id/70447>. Acesso em: 02 maio 2023.

Em relação à sua organização e composição, é correto afirmar o seguinte:

- a) Compete ao Juiz de Direito do Juízo Militar processar e julgar apenas os crimes militares cometidos contra civis.
- b) Os crimes militares, exceto os praticados contra civis, deverão ser processados e julgados pelo Juiz de Direito do segundo juízo militar.
- c) Compete ao Conselho de Justiça dispor sobre a organização, o funcionamento e a competência da Justiça Militar.
- d) Compete à Justiça Militar estadual processar e julgar os policiais militares e bombeiros militares do Estado, nos crimes militares definidos em lei, ressalvadas a competência do júri quando a vítima for civil e as ações civis contra atos disciplinares militares, cabendo ao Tribunal de Justiça decidir sobre a perda do posto e da patente dos oficiais e da graduação das praças.
- e) Os juízes auditores gozam dos mesmos direitos, vantagens e vencimentos dos desembargadores do Tribunal de Justiça.



53. Entende-se por dano destruir, inutilizar ou deteriorar coisa alheia conforme o artigo 163 do Código Penal Brasileiro. (BRASIL, 1951).

BRASIL. *Código Penal Brasileiro*. Brasília, DF, 2023. Disponível em: https://www.planalto.gov.br/ccivil_03/decreto-lei/del2848compilado.htm. Acesso em: 02 maio 2023.

Nesse viés constitui-se crime de dano contra o patrimônio público

- a) subtrair coisa móvel alheia, para si ou para outrem, mediante grave ameaça ou violência à pessoa, ou depois de havê-la, por qualquer meio, reduzido à impossibilidade de resistência.
- b) suprimir ou deslocar tapume, marco, ou qualquer outro sinal indicativo de linha divisória, para apropriar-se, no todo ou em parte, de coisa imóvel alheia.
- c) destruir, inutilizar ou deteriorar coisa tombada pela autoridade competente em virtude de valor artístico, arqueológico ou histórico.
- d) suprimir ou alterar, indevidamente, em gado ou rebanho alheio, marca ou sinal indicativo de propriedade.
- e) subtrair, para si ou para outrem, coisa alheia móvel.

54. Em 15 de janeiro, na cidade de Teresina, João foi preso após disparar tiros em uma briga de bar, levando a vítima baleada à morte.

Conforme o entendimento do Código Penal Brasileiro, no que diz respeito aos crimes contra a vida, o crime cometido por João se qualifica como

- a) instigação ou auxílio ao suicídio.
- b) infanticídio.
- c) homicídio.
- d) lesão corporal.
- e) rixa.

55. A respeito do Poder de Polícia, Celso Antônio Bandeira de Melo (2021, p.785) declara que “Através da Constituição e das leis os cidadãos recebem uma série de direitos. Cumpre ressaltar, todavia, que o seu exercício seja compatível com o bem-estar social. Em suma, é necessário que o uso da liberdade e da propriedade seja entrosado com a utilidade coletiva, de tal modo que não implique uma barreira capaz de obstar à realização dos objetivos públicos.”

MELLO, Celso Antônio Bandeira de. *Curso de Direito Administrativo*. São Paulo: Malheiros, 2021.

Avalie as seguintes afirmações:

- I. O poder de polícia é a atividade do Estado que consiste em limitar o exercício dos direitos individuais em favor do interesse público.
- II. São características do poder de polícia a discricionariedade e a autoexecutoriedade ou exigibilidade, prescindindo de coercibilidade.
- III. Pode-se conceituar o poder de polícia como um direito do particular em não fazer algo, pois libera a conduta individual a ser exercida em conformidade com o interesse do particular.
- IV. O poder de polícia se reparte entre Legislativo (que elabora e aprova a lei) e o Executivo (que a regulamenta, a aplica e a controla).
- V. O poder de polícia, para que não seja exercido com abuso ou desvio, deve ser praticado levando-se em conta a necessidade e a eficácia, prescindindo da proporcionalidade.

Assinale a alternativa que apresenta APENAS as afirmações corretas.

- a) I e II.
- b) II e III.
- c) I e IV.
- d) I e III.
- e) II e V.



56. A respeito do abuso de poder, Fernanda Marinela Sousa Santos (2011, p. 225) alega que “Usar normalmente o poder público é uma prerrogativa, é empregá-lo segundo as normas legais, a moral da instituição, a finalidade do ato e as exigências do interesse público, devendo ser utilizado em benefício da coletividade administrativa. Entretanto, nem sempre o administrador utiliza adequadamente esse instrumento, caracterizando o que se denomina abuso de poder.”

SANTOS, Fernanda Marinela Sousa. *Direito Administrativo*. São Paulo: SaraivaJur, 2011.

Avalie as seguintes afirmações:

- I. A ausência de legitimidade por parte da conduta do administrador coloca-a na ilegalidade e configura-se como abuso de poder.
- II. Configura-se como abuso de poder a conduta ilícita do agente público dentro dos limites administrativos.
- III. O agente público, dentro de sua competência, mesmo afastando-se do interesse público que deve nortear todo o desempenho administrativo, não pratica abuso de poder.
- IV. O agente pratica abuso de poder ao atuar dentro dos limites legais e do permitido no gozo de suas faculdades administrativas.
- V. A discricionariedade administrativa é necessária na prática rotineira das atividades da Administração, e, para afastar o abuso de poder, deverá ser demarcada pela finalidade pública e pelo bem comum.

Assinale a alternativa que apresenta APENAS as afirmações corretas.

- a) I e II.
 - b) II e IV.
 - c) III e V.
 - d) I e III.
 - e) I e V.
57. Segundo Celso Antônio Bandeira de Mello (2021, p. 944), um dos pilares do moderno Direito Constitucional é, exatamente, a sujeição de todas as pessoas, públicas ou privadas, ao quadro da ordem jurídica, de tal sorte que a lesão aos bens jurídicos de terceiros engendra para o autor do dano a obrigação de repará-lo.

MELLO, Celso Antônio Bandeira de. *Curso de Direito Administrativo*. São Paulo: Malheiros, 2021.

Acerca da responsabilidade civil do Estado é correto afirmar o seguinte:

- a) No Brasil, a teoria objetiva foi reconhecida e é adotada desde a Constituição de 1988 até os dias atuais.
- b) Está prevista no artigo 37, §6º, e declara que as pessoas jurídicas de direito público e as prestadoras de serviço público responderão pelos danos que seus agentes, nessa qualidade, causarem a terceiros, assegurado o direito de regresso contra o responsável nos casos de dolo ou culpa.
- c) É dependente da criminal, só devendo ser apreciada após o seu trânsito em julgado.
- d) Nas condutas comissivas, no fazer, na ação do Estado, a responsabilidade está sujeita à teoria objetiva, dependendo, em algumas situações, da demonstração de dolo ou culpa.
- e) A responsabilidade civil do Estado é fundamentada no princípio da legalidade.



58. Em conformidade com a Constituição Federal, em seu artigo 1º, tem-se que a República Federativa do Brasil é formada pela união indissolúvel dos Estados e Municípios e do Distrito Federal (BRASIL, 1988).

Constituição da República Federativa do Brasil. Brasília, DF: Câmara dos Deputados. 2023. Disponível em: https://www.planalto.gov.br/ccivil_03/constituicao/constituicao.htm. Acesso em: 02 maio 2023.

Entre os fundamentos que compõem a estrutura da República Federativa do Brasil, considerando o disposto no art. 1º da Constituição Federal de 1988, tem-se

- garantia do desenvolvimento nacional.
 - a dignidade da pessoa humana.
 - construção de uma sociedade justa, livre e solidária.
 - a prevalência dos direitos humanos.
 - igualdade entre os Estados.
59. A organização político-administrativa da República Federativa do Brasil compreende a União, os Estados, o Distrito Federal e os Municípios, todos autônomos, em conformidade com o disposto no artigo 18 da Constituição Federal (BRASIL, 1988).

Constituição da República Federativa do Brasil. Brasília, DF: Câmara dos Deputados. 2023. Disponível em: https://www.planalto.gov.br/ccivil_03/constituicao/constituicao.htm. Acesso em: 02 maio 2023.

Nos termos da Constituição, assinale a alternativa correta:

- Brasília não é a capital administrativa, sendo apenas a capital federal.
 - Os Estados podem incorporar-se entre si, subdividir-se ou desmembrar-se para se anexarem a outros, ou formarem novos Estados ou Territórios Federais, por meio de lei complementar aprovada no Congresso Nacional, independente da aprovação da população diretamente interessada.
 - Os Territórios Federais integram a União, e sua criação, transformação em Estado ou reintegração ao Estado de origem não serão reguladas em lei complementar.
 - A criação, a incorporação, a fusão e o desmembramento de Municípios far-se-ão por lei estadual, dentro do período determinado por Lei Complementar Federal, e dependerão de consulta prévia, mediante plebiscito, às populações dos Municípios envolvidos, após divulgação dos Estudos de Viabilidade Municipal, apresentados e publicados na formada lei.
 - É permitido à União, aos Estados, ao Distrito Federal e aos Municípios criar distinções entre brasileiros ou preferências entre si.
60. Acerca do Estado de Defesa, o artigo 136 da Constituição Federal cuidou em disciplinar um estado de exceção, indicando suas hipóteses autorizadoras e consequências possíveis. Trata-se de uma situação excepcional para preservar ou restabelecer a ordem pública ou a paz social (BRASIL, 1988).

Constituição da República Federativa do Brasil. Brasília, DF: Câmara dos Deputados. 2023. Disponível em: https://www.planalto.gov.br/ccivil_03/constituicao/constituicao.htm. Acesso em: 02 maio 2023.

Nesse sentido e com base nas disposições constitucionais vigentes, é correto afirmar o seguinte:

- No tocante às restrições impostas pelo Decreto de Estado de Defesa, não deverá contemplar as comunicações telefônicas.
- O estado de defesa poderá ser superior a trinta dias, podendo ser prorrogado uma vez, por igual período, na hipótese de surgimento de fato novo que justifique sua decretação.
- Durante o estado de defesa e o estado de sítio, poderá o direito de reunião ser restringido ou suspenso.
- Na vigência do estado de defesa, a prisão ou detenção de qualquer pessoa poderá ser prorrogada, na hipótese de justificada manutenção da mesma para preservação da ordem pública, prescindindo de autorização do Poder Judiciário.
- Após decretado o estado de defesa ou sua prorrogação, o Presidente da República, dentro de vinte e quatro horas, submeterá o ato com a respectiva justificação ao Congresso Nacional, que decidirá por maioria relativa.



PROVA DISSERTATIVA

TEXTO I

Como as Nações Unidas apoiam os Objetivos de Desenvolvimento Sustentável no Brasil

A ONU e seus parceiros no Brasil estão trabalhando para atingir os Objetivos de Desenvolvimento Sustentável. São 17 objetivos ambiciosos e interconectados que abordam os principais desafios de desenvolvimento enfrentados por pessoas no Brasil e no mundo.

Os Objetivos de Desenvolvimento Sustentável no Brasil

Os Objetivos de Desenvolvimento Sustentável são um apelo global à ação para acabar com a pobreza, proteger o meio ambiente e o clima e garantir que as pessoas, em todos os lugares, possam desfrutar de paz e de prosperidade. Estes são os objetivos para os quais as Nações Unidas estão contribuindo a fim de que possamos atingir a Agenda 2030 no Brasil.

Objetivo 1. Acabar com a pobreza em todas as suas formas, em todos os lugares

1.1 Até 2030, erradicar a pobreza extrema para todas as pessoas em todos os lugares, atualmente medida como pessoas vivendo com menos de US\$ 1,90 por dia

1.2 Até 2030, reduzir pelo menos à metade a proporção de homens, mulheres e crianças, de todas as idades, que vivem na pobreza, em todas as suas dimensões, de acordo com as definições nacionais

1.3 Implementar, em nível nacional, medidas e sistemas de proteção social adequados, para todos, incluindo pisos, e até 2030 atingir a cobertura substancial dos pobres e vulneráveis

1.4 Até 2030, garantir que todos os homens e mulheres, particularmente os pobres e vulneráveis, tenham direitos iguais aos recursos econômicos, bem como o acesso a serviços básicos, propriedade e controle sobre a terra e outras formas de propriedade, herança, recursos naturais, novas tecnologias apropriadas e serviços financeiros, incluindo microfinanças

1.5 Até 2030, construir a resiliência dos pobres e daqueles em situação de vulnerabilidade, e reduzir a exposição e vulnerabilidade destes a eventos extremos relacionados com o clima e outros choques e desastres econômicos, sociais e ambientais

1.a Garantir uma mobilização significativa de recursos a partir de uma variedade de fontes, inclusive por meio do reforço da cooperação para o desenvolvimento, para proporcionar meios adequados e previsíveis para que os países em desenvolvimento, em particular os países menos desenvolvidos, implementem programas e políticas para acabar com a pobreza em todas as suas dimensões

1.b Criar marcos políticos sólidos em níveis nacional, regional e internacional, com base em estratégias de desenvolvimento a favor dos pobres e sensíveis a gênero, para apoiar investimentos acelerados nas ações de erradicação da pobreza

Fonte: Nações Unidas Brasil. 2023. Disponível em: <https://brasil.un.org/pt-br/sdgs/1>. Acesso em: 6 abr. 2023.

TEXTO II

Como superar a extrema pobreza no Brasil

A pobreza e a extrema pobreza continuam, ano após ano, a ser uma grande marca na sociedade brasileira. Segundo os dados mais recentes do IBGE, em [?] o país tinha 13,5 milhões de pessoas em situação de extrema pobreza, de acordo com critérios do Banco Mundial. Somadas aos que estão na linha da pobreza, chegam a 25% da população do país.

As características e a distribuição da população em situação de pobreza e extrema pobreza chamam a atenção. Os pretos e pardos correspondem a 72,7% dos que estão em situação de pobreza ou extrema pobreza - são 38,1 milhões de pessoas. Dentre aqueles em condição de extrema pobreza, as mulheres pretas ou pardas compõem o maior contingente: 27,2 milhões de pessoas. Vale destacar que o rendimento domiciliar per capita médio de pretos ou pardos é metade do recebido pelos brancos.



“Um quarto da população brasileira, 52,7 milhões de pessoas, vive em situação de pobreza ou extrema pobreza.” [...]

Fonte: **Ponte Social**. 8 de fev. 2021. Disponível em: https://pontesocial.org.br/post-como-superar-a-extrema-pobreza?gclid=Cj0KCOjw27mhBhC9ARIsAIFsETE3hfXdj0ZPckIaKQPz_26tzTaSX7uLc2-Bcqqnj-aAzYv96G9GzgsaAgpoEALw_wcB. Acesso em: 6 abr. 2023. (com adaptações).

TEXTO III

Pandemia acentuou desigualdade brasileira, aponta estudo da FGV

Perspectiva de melhoria está no pagamento do novo Bolsa Família

A desigualdade de renda no Brasil é ainda maior do que o imaginado. A constatação é da pesquisa da FGV Social, que uniu a base de dados do Imposto de Renda da Pessoa Física (IRPF) à da Pnad Contínua, elaborada pelo Instituto Brasileiro de Geografia e Estatística (IBGE). A pesquisa mostrou que o índice de Gini chegou a 0,7068 em 2020. O valor é superior ao 0,6013 calculado apenas na Pnad Contínua. Cada 0,03 ponto corresponde a uma grande mudança da desigualdade.

“A desigualdade, quando a gente combina dados do imposto de renda com as pesquisas domiciliares, ela se apresenta bem mais alta, e a mudança dela na pandemia não foi de queda como se acreditava, mas de um pequeno aumento”, explicou o diretor da FGV Social, Marcelo Neri, em entrevista à **Agência Brasil**.

Segundo o professor, a renda dos mais ricos revelada no imposto de renda é mais alta do que é captado pela Pnad. “Se a pessoa declara imposto de renda, declara o que ela tem, se não paga imposto à toa, então há desigualdade por captar mais a renda dos mais ricos. E durante a pandemia, o grupo do meio, a classe média, não teve o auxílio e também não tinha renda do capital para estabilizar o choque adverso”, disse, acrescentando que essa parcela, classe média, ainda teve mais efeitos com as perdas de empregos.

Conforme o cálculo do Gini, quanto mais perto de 1 está o indicador, maior é a desigualdade. A pandemia também é responsável por influenciar a desigualdade. Diferente do que se pensava, mesmo com o Auxílio Emergencial, a desigualdade brasileira não recuou durante a pandemia. Com a metodologia usual do Gini o patamar teria passado de 0,6117 para 0,6013. No entanto, com a combinação das bases, o indicador vai de 0,7066 para 0,7068.

Neri destacou que as perdas dos mais ricos (os 1%) foi de 1,5%, nível menor do que a metade da classe média, que ficou em 4,2%, e se tornou, segundo o professor, a grande perdedora da pandemia.

“Embora a renda dos mais pobres tenha sido protegida pelo Auxílio Emergencial, a renda da classe média teve uma queda quase três vezes maior do que a do topo da distribuição. Foi [queda de] 4,2% para a classe média e menos 1,2% para o topo da distribuição. A fotografia da desigualdade e o filme da pandemia são piores do que imaginavam. Essa é uma imagem mais macro da pesquisa”, explicou.

Fonte: BRASIL, Cristina Indio. Pandemia acentuou desigualdade brasileira, aponta estudo da FGV. **Agência Brasil**. 14 de fev. 2023, Rio de Janeiro. Disponível em: <https://agenciabrasil.ebc.com.br/economia/noticia/2023-02/pandemia-acentuou-desigualdade-brasileira-aponta-estudo-da-FGV>. Acesso em: 6 abr. 2023.

Construa um texto dissertativo-argumentativo em prosa, com extensão de, no mínimo, 30 (trinta) linhas e, no máximo, 40 (quarenta) linhas, apresentando seu posicionamento acerca da questão atual da pobreza no Brasil.