



Universidade Estadual
do Piauí - UESPI

CONCURSO PÚBLICO PREFEITURA MUNICIPAL DE PARNARAMA - MA

PROVA ESCRITA OBJETIVA

CARGO: TÉCNICO EM ENFERMAGEM

DATA: 16/03/2014 – HORÁRIO: 8h30' às 12h30' (horário do Maranhão)

LEIA AS INSTRUÇÕES:

- Você deve receber do fiscal o material abaixo:
 - Este caderno com 50 questões objetivas sem falha ou repetição.
 - Um CARTÃO-RESPOSTA destinado às respostas objetivas da prova.
- Verifique se este material está completo e se seus dados pessoais conferem com aqueles constantes do CARTÃO-RESPOSTA.
- Após a conferência, você deverá assinar seu nome completo, no espaço próprio do CARTÃO-RESPOSTA utilizando caneta esferográfica com tinta de cor azul ou preta.
- Escreva o seu nome nos espaços indicados na capa deste CADERNO DE QUESTÕES, observando as condições para tal (assinatura e letra de forma), bem como o preenchimento do campo reservado à informação de seu número de inscrição.
- No CARTÃO-RESPOSTA, a marcação das letras correspondentes às respostas de sua opção, deve ser feita com o preenchimento de todo o espaço do campo reservado para tal fim.
- Tenha muito cuidado com o CARTÃO-RESPOSTA, para não dobrar, amassar ou manchar, pois este é personalizado e em hipótese alguma poderá ser substituído.
- Para cada uma das questões são apresentadas cinco alternativas classificadas com as letras (A), (B), (C), (D) e (E); somente uma responde adequadamente ao quesito proposto. Você deve assinalar apenas **uma alternativa para cada questão**: a marcação em mais de uma alternativa anula a questão, **mesmo que uma das respostas esteja correta**; também serão nulas as marcações rasuradas.
- As questões são identificadas pelo número que fica à esquerda de seu enunciado.
- Os fiscais não estão autorizados a emitir opinião nem a prestar esclarecimentos sobre o conteúdo das provas. Cabe única e exclusivamente ao candidato interpretar e decidir a este respeito.
- Reserve os 30(trinta) minutos finais para marcar seu CARTÃO-RESPOSTA. Os rascunhos e as marcações assinaladas no CADERNO DE QUESTÕES não serão levados em conta.
- Quando terminar sua Prova, antes de sair da sala, assine a LISTA DE FREQUÊNCIA, entregue ao Fiscal o CADERNO DE QUESTÕES e o CARTÃO-RESPOSTA, que deverão conter sua assinatura.
- O TEMPO DE DURAÇÃO PARA ESTA PROVA É DE 4h (quatro horas).
- Por motivos de segurança, você somente poderá ausentar-se da sala de prova após decorridas 2h (duas horas) do início de sua prova.
- O rascunho ao lado não tem validade definitiva como marcação do Cartão-Resposta, destina-se apenas à conferência do gabarito por parte do candidato.

Nº DE INSCRIÇÃO

--	--	--	--	--	--

Assinatura

Nome do Candidato (letra de forma)

RASCUNHO

01		26	
02		27	
03		28	
04		29	
05		30	
06		31	
07		32	
08		33	
09		34	
10		35	
11		36	
12		37	
13		38	
14		39	
15		40	
16		41	
17		42	
18		43	
19		44	
20		45	
21		46	
22		47	
23		48	
24		49	
25		50	

NÚCLEO DE CONCURSOS E PROMOÇÃO DE EVENTOS – NUCEPE CONCURSO PÚBLICO – PREFEITURA MUNICIPAL DE PARNARAMA - MA
FOLHA DE ANOTAÇÃO DO GABARITO -ATENÇÃO: Esta parte somente deverá ser destacada pelo fiscal da sala, após o término da prova.

Nº DE INSCRIÇÃO

--	--	--	--	--	--	--

TEXTO I (Para as questões de 01 a 07)

A história do pescador

"Fala sério..." Ninguém disse isso enquanto José Salvador Alvarenga narrava seu drama, mas certamente pensou. Mais de um ano perdido no Oceano Pacífico, num barco à deriva, alimentando-se de pássaros e tartarugas. Difícil de acreditar. "Eu não sabia a hora, o dia. Sabia apenas se era dia ou noite", disse Alvarenga, de 37 anos e natural de El Salvador, ao jornal britânico *The Daily Telegraph*. "Eu não via terra. Puro oceano." Na semana passada, quando esse misterioso homem apareceu do nada nas Ilhas Marshall - micropaís da Micronésia formado por atóis e ocupado por apenas 70 mil pessoas -, muitos ficaram de boca aberta. Sua odisseia mais parecia fruto da imaginação que realidade, apesar das precárias condições físicas de seu protagonista. Aos poucos, ele oferecia preciosos detalhes e conquistava os incrédulos ouvintes. Sim, José Salvador Alvarenga jurava ter passado 13 meses no Pacífico - e estava pronto para contar sua história.

(...)

(Revista Época - nº 819, de 10 de fevereiro de 2014. *Personagem da Semana*. JOSÉ SALVADOR ALVARENGA. p. 14)

01. A maneira como a linguagem é utilizada nas mais diferentes situações de comunicação auxilia-nos a produzir os sentidos sobre o que dizemos. No trecho acima, com o título do texto A história do pescador e a frase inicial "Fala sério..." o próprio autor
- a) defende a veracidade dos fatos a serem apresentados.
 - b) pretende colocar-se em situação de neutralidade quanto aos fatos apresentados.
 - c) tem a intenção de explorar aspectos relacionados à veracidade dos fatos apresentados.
 - d) coloca-se definitivamente contrário aos fatos apresentados.
 - e) não revela a sua opinião sobre os fatos a serem apresentados.
02. No trecho, temos a recorrência de uso de aspas para
- a) ressaltar falas ou citações de outros que não o próprio autor do texto.
 - b) marcar o posicionamento do que é narrado.
 - c) divergir sobre o que é exposto no texto.
 - d) mostrar que as palavras entre aspas estão escritas de forma incorreta.
 - e) indicar que as expressões entre aspas podem não ser muito conhecidas dos leitores.
- 03 . A frase Aos poucos, ele oferecia preciosos detalhes e conquistava os incrédulos ouvintes. Revela
- a) que o pescador narra os detalhes sobre aquilo que viveu no mar de forma vaga e imprecisa.
 - b) que houve uma mudança na postura das pessoas em relação a acreditar ou não naquilo que o pescador dizia.
 - c) que as pessoas jamais acreditariam em uma história de pescador perdido no mar.
 - d) que conquistar a credibilidade das pessoas nem sempre é possível.
 - e) que as pessoas jamais acreditariam numa história daquelas, mesmo que fosse narrada com muitos detalhes.

04. Na frase: Sua odisseia mais parecia fruto da imaginação que realidade, vemos estabelecida entre Sua odisseia mais parecia fruto da imaginação e que realidade uma relação de
- a) causa.
 - b) condição.
 - c) explicação.
 - d) consequência.
 - e) comparação.
05. No segmento frasal condições físicas, a palavra físicas qualifica condições, que aparece em primeiro lugar. Considerando-se essa relação e a posição em que as palavras estão dispostas, o mesmo acontece em
- a) misterioso homem.
 - b) precárias condições.
 - c) preciosos detalhes.
 - d) jornal britânico.
 - e) incrédulos ouvintes.
06. No trecho, ele oferecia preciosos detalhes e conquistava os incrédulos ouvintes., a palavra destacada , quanto ao sentido, diz respeito àquele que não
- a) escuta.
 - b) acredita.
 - c) confia.
 - d) observa.
 - e) tolera.
07. Em Ninguém disse isso, a relação sintática que se estabelece entre disse e isso é de natureza distinta daquela que se observa em
- a) enquanto José Salvador Alvarenga narrava seu drama. (narrava e seu drama).
 - b) Eu não via a terra. (via e a terra).
 - c) quando esse misterioso homem apareceu do nada nas Ilhas Marshall (apareceu e nas Ilhas Marshall).
 - d) ele oferecia preciosos detalhes (oferecia e preciosos detalhes).
 - e) conquistava os incrédulos ouvintes (conquistava e os incrédulos ouvintes).

TEXTO II (Para as questões de 08 a 10)

Equilibrando o tempo

Falta de tempo. Um dos maiores problemas do mundo moderno é também um dos principais motivos que tem levado muitos estudantes brasileiros a optar pela educação a distância. Afinal, não é fácil conciliar uma rotina de estudos, com hora marcada e deslocamentos, com os afazeres da vida profissional e pessoal - o que significa, para muita gente, também cuidar das crianças e da casa. (...).

Mesmo com as vantagens, é um engano comum pensar que o curso a distância é sinônimo de vida fácil. (...).

(Guia de Educação a distância, 2014. São Paulo - Ed. Segmento. *Equilibrando o tempo*. Por Daniel dos Santos, p. 44-46)

08. Após a leitura do texto compreende-se que o seu título pretende
- a) revelar que os afazeres da vida diária atrapalham uma rotina de estudos.
 - b) sinalizar para a necessidade de se estar atento à rotina de estudos.
 - c) criticar a razão de se utilizar o tempo de forma não programada.
 - d) mostrar uma razão de se utilizar o tempo disponível para estudo.
 - e) revelar uma justificativa para a opção de realizar cursos a distância.
09. Na última frase do texto o autor admite que há uma crença de que
- a) um curso feito a distância não exige grandes esforços dos seus alunos.
 - b) os alunos que optam por um curso a distância terão mais vantagens do que os estudantes de cursos presenciais em termos de aprendizagem.
 - c) os cursos a distância oferecem mais opções em termos de escolha profissional.
 - d) os cursos a distância oferecem maiores vantagens em termos de aquisição de conhecimentos para os alunos.
 - e) os alunos escolhem os cursos a distância porque têm uma rotina dura de trabalho.
10. A opção em que a palavra apresentada é de gênero gramatical masculino é
- a) educação.
 - b) vida.
 - c) distância.
 - d) problema.
 - e) rotina.

MATEMÁTICA

11. Em uma pesquisa em uma escola de Parnarama, verificou-se que 150 alunos praticavam atletismo como única atividade esportiva, 250 alunos praticavam futebol, também como única atividade esportiva, e 70 alunos praticavam as duas atividades: atletismo e futebol. Quantos alunos foram pesquisados se todos optaram por pelo menos uma das duas atividades esportivas?
- a) 330.
 - b) 400.
 - c) 470.
 - d) 320.
 - e) 220.
12. Dois pedaços de barbante, um verde e outro preto, devem ser cortados em pedaços de mesmo tamanho. Essa medida tem de ser a maior possível. O barbante verde mede 120 metros, e o azul, 180 metros. Qual será o tamanho de cada pedaço depois de cortados?
- a) 15 metros.
 - b) 20 metros.
 - c) 30 metros.
 - d) 60 metros.
 - e) 90 metros.
13. Um guarda de trânsito notou que dos 60 carros que passaram por ele, 48 condutores usavam o cinto de segurança, como manda o Código de Trânsito Brasileiro. Qual é a fração irredutível que representa o número de condutores que passaram pelo guarda e não usavam o cinto de segurança?
- a) $\frac{4}{5}$
 - b) $\frac{1}{5}$
 - c) $\frac{2}{5}$
 - d) $\frac{1}{4}$
 - e) $\frac{3}{8}$

14. A altura de Gilson é 1,69 metro e a de sua irmã Paula é 1,94 metro. Qual é a diferença de altura, em centímetros, entre Paula e Gilson?
- a) 25 cm
 - b) 15 cm
 - c) 35 cm
 - d) 24 cm
 - e) 29 cm
15. João e Francisco pintaram o muro da casa de seu Antônio e, por esse trabalho, ganharam R\$ 300,00. Como João trabalhou mais do que Francisco, vai ganhar uma parte maior desse dinheiro. João vai ganhar R\$ 30,00 a mais do que o dobro do que Francisco ganhar. Quanto João vai receber?
- a) R\$ 230,00
 - b) R\$ 210,00
 - c) R\$ 180,00
 - d) R\$ 150,00
 - e) R\$ 90,00
16. O 13º salário é um direito garantido pela constituição federal. Consiste no pagamento de um salário extra ao trabalhador no final de cada ano. O décimo terceiro salário é calculado sobre o salário integral segundo a seguinte fórmula:
(valor do salário ÷ 12) × nº de meses trabalhados.
- Supondo-se que Marcos receba mensalmente R\$ 1500,00 e tenha trabalhado 8 meses, quanto ele vai receber de 13º?
- a) R\$ 780,00
 - b) R\$ 800,00
 - c) R\$ 850,00
 - d) R\$ 900,00
 - e) R\$ 1000,00
17. A praça de uma cidade tem 3000m² de área; 30% dessa área foi plantada com flores, 40% com grama, 12% com arbustos e a área restante foi coberta com seixo. Qual é a área da parte coberta apenas com seixo?
- a) 400 m²
 - b) 450 m²
 - c) 500 m²
 - d) 540 m²
 - e) 600 m²

18. A horta de dona Jacira possui formato retangular com área de 48m^2 . Ela resolveu redimensionar a horta, aumentando 1m na sua largura e diminuindo 2m no seu comprimento. Com isso, a área da horta aumentou para 50m^2 . Qual o perímetro da nova horta de Jacira?
- a) 32 m
 - b) 30 m
 - c) 24 m
 - d) 20 m
 - e) 16 m
19. Uma pessoa obesa, precisando emagrecer, foi a um médico e, sob sua orientação, fez um regime e reduziu seu peso a 80 kg. Sabendo que o peso dessa pessoa era de 112 kg e que ela emagreceu 4 kg por mês, quanto tempo durou o regime?
- a) 8 meses.
 - b) 7 meses.
 - c) 6 meses.
 - d) 10 meses.
 - e) 9 meses.
20. Seja $f(x) = -x^2 + 4x - 1$ uma função de variável real. Pode-se afirmar corretamente que esta função assume um valor
- a) mínimo, igual a -13 , para $x = 6$.
 - b) mínimo, igual a -6 , para $x = 5$.
 - c) máximo, igual a 3 , para $x = 2$.
 - d) máximo, igual a 2 , para $x = 1$.
 - e) máximo, igual a 5 , para $x = 3$.

21. Assinale a alternativa **CORRETA** sobre hardware.

- a) A memória RAM é considerada dispositivo de armazenamento não volátil.
- b) SSD é uma nova série de processadores mais avançados.
- c) A Cache é um dispositivo com menor capacidade de armazenamento, porém mais lenta que a memória RAM.
- d) O disco rígido possui maior capacidade de armazenamento e velocidade de leitura/gravação mais rápida do que a RAM.
- e) O Pendrive é um dispositivo de entrada e saída considerado mídia removível.




22. Sobre o Sistema Operacional Microsoft Windows, assinale a opção **CORRETA**.

- a) O Ext2/Ext3 é seu sistema de arquivos padrão.
- b) O NTFS é um sistema de arquivos que pode ser usado pelo Windows.
- c) Reiserfs é o sistema de arquivos mais moderno do Windows.
- d) O Ext4 é o novo sistema de arquivos do Windows Vista.
- e) A Swap é criada na instalação de todos os Windows.

23. Marque a alternativa **CORRETA** sobre software.

- a) O Sistema Operacional é o aplicativo editor de texto padrão.
- b) O Antivírus é classificado como software aplicativo.
- c) A planilha eletrônica é um software de linguagem de programação.
- d) Os drivers são softwares de sistema que contém informações sobre cada periférico.
- e) O Scandisk é um software para visualizar e-mail.

24. Qual a afirmação **VERDADEIRA** sobre o Microsoft Word e o Microsoft Excel?

- a) A combinação das teclas CTRL + X serve para sublinhar o texto.
- b) O botão  serve para copiar a formatação do texto selecionado e aplicar em outro texto.
- c) A combinação de teclas CTRL + F4 serve para minimizar as janelas.
- d) O botão  serve para sublinhar o texto com a cor preta.
- e) O botão  serve para iniciar um novo parágrafo.

25. Quanto à Internet, aponte a alternativa **CORRETA**.

- a) No Outlook é possível enviar um arquivo anexo a vários destinatários ao mesmo tempo.
- b) A Internet só permite acesso a páginas restritas de uma única empresa ou órgão público.
- c) O WWW é um serviço de entrega de mensagens eletrônicas para cidadãos de vários países.
- d) O Outlook é um software que viabiliza a navegação na Web.
- e) Download é um serviço que permite bater papo na Internet.

ATUALIDADES E CONHECIMENTOS LOCAIS

- 26.** A história do Maranhão é rica em conflitos históricos. No período colonial ocorreu uma revolta de caráter nativista, que tinha como principais objetivos abastecer a região com mão de obra escrava e produtos comerciais, bem como, sanar os conflitos com a Companhia Geral de Comércio do Maranhão. Este movimento foi
- a) Revolta dos Emboabas.
 - b) Revolta da Balaiada.
 - c) Revolta de Beckman.
 - d) Revolta de Amador Bueno.
 - e) Rebelião dos Holandeses.
- 27.** No contexto do processo de colonização do Brasil, dentro do modelo colonial, tivemos o surgimento de Matões, onde sua história está intrinsecamente ligada à origem do município de Parnarama. Sobre a história de Parnarama, atrelada ao contexto histórico do município de Matões, podemos afirmar:
- a) surgiu a partir da ação dos jesuítas, que tinha como base ocupar a região pelo processo de catequese.
 - b) o município tem sua origem no corredor migratório para o Estado do Piauí, no transporte do gado.
 - c) Parnarama surgiu a partir dos sertanismo de contrato em busca de nativos para o escravismo colonial interno.
 - d) teve sua origem na atuação dos sertanistas, nos corredores migratórios de colonizadores e viajantes.
 - e) Parnarama surgiu como foco de resistência ao ataque aos grupos nativos da região no século XIX.
- 28.** Uma das características do Estado do Maranhão é sua riqueza de diversidades e manifestações culturais. As lendas e os mistérios povoam a mentalidade popular do Estado. Entre as lendas do Maranhão tem uma que é a mais popular na cidade de São Luís. Assinale esta manifestação cultural da capital maranhense.
- a) A lenda de Dom Sebastião.
 - b) Manguda.
 - c) Ana Jansen e sua carruagem encantada.
 - d) Da Fonte do Ribeirão.
 - e) Bumba meu boi.
- 29.** A morte de Margareth Thatcher, conhecida como Dama de Ferro, em 08/04/2013, principal figura da política britânica na década de 80, suscitou muitas discussões, entre elas,
- a) a presença feminina no ambiente político internacional.
 - b) o legado político e econômico na implantação do neoliberalismo.
 - c) a ampla política desenvolvida para proteção dos trabalhadores ingleses.
 - d) a sua neutralidade política na Guerra das Malvinas.
 - e) a sua atuação como a primeira mulher a defender um liberalismo conservador protegendo a legislação trabalhista inglesa.

30. “DADOS NOVOS, PROBLEMAS ANTIGOS - O Brasil aumentou significativamente os gastos com o sistema educacional, mas como mostram os dados mais recentes, ainda somos um país sem avanços notáveis.” (Revista Veja, 10/07/2013. p.100). Esta foi a chamada da reportagem na citada revista sobre a educação brasileira. Sobre este assunto, podemos apontar alguns pontos que colaboram para colocar o país sem “avanços notáveis” no setor, como:

- a) a falta de atenção ao sistema profissionalizante; a iniciativa privada ainda tem um maior número de matrículas no ensino superior; a falta de fiscalização na aplicação dos recursos públicos neste setor e outros.
- b) a necessidade de aprovações de planos de cargos e salários nos municípios; criação de sistema de currículo mais plural e criar um sistema de distribuição de livro para os alunos de escolas públicas.
- c) aprovação da Lei de Diretrizes e Bases (LDB); criação de um sistema de educação mais conservador e aplicação dos recursos maiores nos locais mais distantes.
- d) a criação de prova central para avaliar o ensino médio, base para o mercado de trabalho; instalação de unidades federais de ensino nos municípios e implantação da Prova Brasil.
- e) aplicação dos recursos apenas no ensino fundamental, deixando à iniciativa privada a responsabilidade do ensino superior, com ampliação do PROUNI – Programa Universidade para Todos; a instalação de escolas industriais em substituição das escolas agrícolas e implantação da Lei de Diretrizes e Bases (LDB) em cada município.

CONHECIMENTOS ESPECÍFICOS

31. A Política de Humanização do Sistema Único de Saúde (SUS), institui uma das estratégias para alcançar a qualificação da atenção e da gestão em saúde no SUS, estabelece-se portanto, como construção e qualificação dos vínculos interprofissionais e entre estes e os usuários na produção de saúde. Pode-se dizer que a Rede de Humanização em Saúde é uma rede de construção permanente de laços de cidadania. Com relação aos princípios norteadores da Política de Humanização, indique se são verdadeiras (V) ou falsas (F) as alternativas abaixo.

- () Fortalecimento de trabalho em equipe multiprofissional, fomentando a transversalidade e agrupabilidade.
- () Apoio à construção de redes cooperativas, solidárias e comprometidas com a produção de saúde.
- () Fortalecimento do controle social com caráter participativo em todas as instâncias gestoras do SUS.
- () As relações de trabalho, educação permanente e valorização dos profissionais de saúde não estão inseridas na Política de Humanização do SUS.
- () Valorização da dimensão subjetiva e social em todas as práticas de atenção e gestão do SUS.

A alternativa que contém a sequência **CORRETA**, de cima para baixo, é.

- a) V – V – F – V – V.
- b) V – V – V – F – V.
- c) V – V – F – V – F.
- d) F – F – V – F – V.
- e) F – V – F – V – F.

32. A hanseníase é uma doença infecciosa, crônica, de grande importância para a saúde pública devido à sua magnitude e seu alto poder incapacitante e que acomete, principalmente, a pele e os nervos periféricos. Analise as alternativas abaixo e marque aquela que representa um sintoma que deve ser investigado pelo profissional de saúde ao receber um paciente com suspeita de hanseníase.

- a) Manchas esbranquiçadas (hipocrômicas), acastanhadas ou avermelhadas, com alterações de sensibilidade.
- b) Micose que evolui para manchas hipocrômicas, hiperocrômicas ou eritematosas, com sensibilidade sempre normal.
- c) Hipomelanose caracterizada por uma área esbranquiçada (alba) com descamação, localizada na face, tronco e membros superiores, com sensibilidade preservada.
- d) Manchas acrômicas ocasionadas pela ausência completa de melanócitos e frequentemente associada com outras doenças clínicas.
- e) Lesões que tendem a confluir, formando placas extensas com história clínica de ferimentos, cicatrizes superficiais e pruridos.

33. Os Microrganismos são uma forma de vida que não pode ser visualizada sem auxílio de um microscópio. Estes seres diminutos podem ser encontrados no ar, no solo, e, inclusive, no homem. Os microrganismos podem ser transmitidos por contato com gotículas, aerossóis e exposição a sangue e outros líquidos corpóreos.

Das alternativas abaixo, assinale a **CORRETA**.

- a) A transmissão ocorre por exposição a sangue e outros líquidos corpóreos quando estes estão contaminados e entram em contato com mucosa ou pele não-integra. Por exemplo, o vírus da imunodeficiência humana (HIV), os vírus das hepatites B e C.
- b) A transmissão ocorre por contato quando pequenas partículas contendo microrganismos eliminados durante a respiração, tosse ou espirro ressecam-se, podendo permanecer durante horas suspensas no ar. As partículas ressecadas são capazes de atingir distâncias maiores que 1 metro. Algumas doenças, como a tuberculose e o sarampo, são transmitidas dessa forma.
- c) A transmissão ocorre por aerossóis quando através de gotículas produzidas pela fala, tosse, espirro e aspiração orotraqueal. As gotículas podem atingir até 1 metro de distância e rapidamente se depositam no chão, não permanecendo suspensas no ar. Exemplos: coqueluche, difteria, rubéola, meningite bacteriana.
- d) A transmissão ocorre por gotículas principalmente através das mãos dos profissionais ou por contato com artigos e equipamentos contaminados. Exemplos: herpes simples, diarreia infecciosa.
- e) A capacitação de profissionais e a supervisão das atividades têm baixo impacto na prevenção de infecções.

34. As Doenças Sexualmente Transmissíveis (DST's) são doenças causadas por vários tipos de agentes. São transmitidas, principalmente, por contato sexual com uma pessoa que esteja infectada e são consideradas um grave problema de Saúde

Pública, pois os sinais e sintomas podem ser de difícil identificação, tornando fundamental o diagnóstico precoce e acesso ao tratamento correto.

Das alternativas abaixo, marque a **CORRETA**.

- a) O HPV provoca lesões com aspecto de couve-flor e de tamanhos variáveis nos órgãos genitais. Nas mulheres, pode ser assintomático. A maior gravidade é relacionada ao aparecimento de alguns tipos de câncer, principalmente no colo do útero, vulva, pênis e reto, pois toda infecção pelo HPV causa câncer.
- b) O condiloma acuminado pode ser tratado de forma local, com uso da cauterização, de produtos cáusticos, quimioterapia ou radioterapia. O parceiro também deve ser submetido ao tratamento.
- c) O teste de Elisa é o mais utilizado para o diagnóstico da AIDS, por meio da detecção de anticorpos anti- HIV no sangue, em resposta à infecção pelo HIV não sendo necessário fazer outro teste para confirmação.
- d) Janela imunológica é o termo que designa o intervalo entre a infecção pelo vírus da AIDS e a detecção de anticorpos anti-HIV no sangue da pessoa infectada, por meio de exames laboratoriais específicos. Nesse caso, a detecção de HIV tem possibilidade de um resultado falso-positivo.
- e) A sífilis manifesta-se inicialmente como uma pequena lesão nos órgãos sexuais, denominada cancro duro, além do aumento dos gânglios linfáticos na região inguinal, após a exposição à situação de risco, com pessoa infectada.

35. O serviço de saneamento básico deverá ser efetivamente acessado e usufruído por toda sociedade, oferecendo salubridade ambiental e condições de saúde para os cidadãos com prestação de serviços de forma adequada à Saúde Pública e à proteção do meio ambiente, são os serviços de abastecimento de água, esgotamento sanitário, limpeza urbana, manejo dos resíduos sólidos e serviços de drenagem e de manejo das águas pluviais.

Melhorar as condições de higiene e de saneamento básico são medidas que previnem a hepatite do tipo

- a) B.
- b) Delta.
- c) A.
- d) C.
- e) D.

36. Na base do processo de criação do Sistema Único de Saúde (SUS) encontram-se o conceito ampliado de saúde, a necessidade de criar políticas públicas para promovê-la, o imperativo da participação social na construção do sistema e das políticas de saúde. Nesse sentido, o SUS, como política do Estado brasileiro pela melhoria da qualidade de vida e pela afirmação do direito à vida e à saúde, dialoga com as reflexões e os movimentos no âmbito da promoção da saúde. No SUS, a estratégia de promoção da saúde é retomada como uma possibilidade de focar os aspectos que determinam o processo saúde-doença em nosso País.

Marque a opção **CORRETA** referente à Política Nacional de Promoção da Saúde.

- a) O Ministério da Saúde, Estados e Municípios são esferas de gestão do SUS responsáveis pela desestruturação da Política Nacional de Promoção da Saúde.
- b) A elaboração da Política Nacional de Promoção da Saúde provoca mudança

no modo de organizar, planejar, realizar e avaliar o trabalho em saúde.

- c) São objetivos da Política Nacional de Promoção da Saúde: Reduzir a vulnerabilidade e reduzir riscos à saúde através da redução da qualidade de vida.
- d) A Política Nacional de Promoção da Saúde não interfere na prevenção dos fatores determinantes de agravos à saúde.
- e) Tem o objetivo de reduzir a autonomia e corresponsabilidade de sujeitos e coletividade.

37. A atividade educativa não é um processo de condicionamento para que as pessoas aceitem, sem perguntar, as orientações que lhes são passadas. A simples informação ou divulgação ou transmissão de conhecimento, de como ter saúde ou evitar uma doença, por si só, não vai contribuir para que uma população seja mais sadia e nem é fator que possa contribuir para mudanças desejáveis para melhoria da qualidade de vida da população.

Sobre esse assunto, considere os seguintes objetivos:

- I. conscientizar o indivíduo para que considere a saúde como um valor;
- II. estimular a utilização dos serviços de saúde;
- III. orientar o indivíduo sobre o fato de que a sua saúde depende somente do Estado;
- IV. incentivar o indivíduo a cuidar de sua saúde por meio de seus próprios esforços e ações, exercendo a cidadania almejada.

São objetivos da educação em saúde:

- a) somente I e III.
- b) somente II, III e IV.
- c) somente I e II.
- d) somente I, II e IV.
- e) somente III e IV.

38. O sistema imunológico é capaz de reconhecer milhares de tipos de microorganismos, muitos diferentes uns dos outros, e de desencadear contra cada tipo uma resposta adequada. O organismo reconhece e reage com a produção de anticorpos específicos contra determinado agente infeccioso. A resposta imunológica é um dos mais importantes mecanismos adaptativos, pois permite a sobrevivência em ambientes potencialmente lesivos. Acerca da imunidade, a administração de imunoglobulina em trabalhadores, com o objetivo de conferir imunidade imediata e transitória, visa a combater um ou mais agentes:
- a) químicos.
 - b) físicos.
 - c) radioativos.
 - d) ionizantes.
 - e) biológicos.
39. Um homem de 45 anos viajará para uma região com recomendação de aplicação da vacina contra febre amarela (atenuada). Considerando que a pessoa em questão nunca recebeu essa vacina, o Calendário de Vacinação do Adulto e do Idoso do Ministério da Saúde recomenda administrar a vacina:
- a) dois dias antes da data da viagem.
 - b) cinco dias antes da data da viagem.
 - c) dez dias antes da data da viagem.
 - d) quinze dias antes da data da viagem.
 - e) trinta dias antes da data da viagem.
40. A classificação de doenças de notificação compulsória implica benefícios para a coletividade, no contexto da Saúde Pública. A notificação compulsória consiste na comunicação da ocorrência de casos individuais, agregados de casos ou surtos, suspeitos ou confirmados, da lista de agravos relacionados na Portaria nº 104, de 25 de janeiro de 2011, do Ministério da Saúde. A notificação é obrigatória a todos os profissionais de saúde visando à adoção das medidas de controle pertinentes. Esse procedimento é obrigatório, quando numa empresa ocorre um caso confirmado de
- a) gripe.
 - b) tuberculose.
 - c) pneumonia.
 - d) câncer.
 - e) hipertensão.
41. A administração de medicamentos é uma das atividades que o Técnico de Enfermagem desenvolve com muita frequência, exige muita atenção e conhecimento técnico-científico para subsidiá-lo na realização do procedimento, pois envolve uma sequência de ações que visam a melhoria da condição de saúde e melhores resultados no tratamento do paciente. Durante a fase de preparo e administração de medicamentos, o profissional de enfermagem deve ter muita atenção para evitar erros, assegurando que o paciente receba corretamente a medicação. Sobre a administração de um medicamento na quantidade maior do que o prescrito, causando efeitos indesejáveis, refere-se à dose
- a) letal.
 - b) máxima.
 - c) média.
 - d) mínima.
 - e) tóxica.

42. O técnico de enfermagem realiza vários cuidados diretos ao paciente, de acordo com o perfil e atribuição profissional. Dentre as ações realizadas, rotineiramente, faz-se a verificação dos sinais vitais do paciente. Em relação aos locais de verificação do pulso, marque a alternativa **CORRETA**.

- a) Pulso carotídeo – pode ser sentido no ponto médio entre a sínfise púbica e a espinha ilíaca ântero-superior.
- b) Pulso braquial – sentido na superfície medial do terço médio do braço, entre os compartimentos musculares anterior e posterior.
- c) Pulso radial – pode ser palpado posteriormente ao maléolo medial.
- d) Pulso femoral – pode ser sentido na parte da frente do punho.
- e) Pulso poplíteo – é palpado lateralmente ao tendão do extensor longo do hálux.

43. De acordo com as alterações físicas, o puerpério pode ser classificado em quatro fases distintas: imediato, mediato, tardio e remoto. No pós-parto mediato, a senhora C. P. S. queixou-se de dores semelhantes a cólicas que se manifestam durante a amamentação. O profissional de saúde deve orientá-la, explicando que essas dores são devido à(s):

- a) involução uterina.
- b) produção de leite.
- c) infecção urinária.
- d) complicações do parto.
- e) presença de lóquio.

44. Nos Programas de Atenção à Saúde do Idoso, é importante considerar o Estatuto do Idoso, o qual institui que o idoso goza de todos os direitos fundamentais inerentes à pessoa humana, sem prejuízo da proteção integral de que trata esta Lei, assegurando-lhe, por lei ou por outros meios, todas as

oportunidades e facilidades, para preservação de sua saúde física e mental e seu aperfeiçoamento moral, intelectual, espiritual e social, em condições de liberdade e dignidade. Considerando as assertivas abaixo,

- I. Cadastramento da pessoa idosa em base territorial.
- II. Ao idoso, internado ou em observação, é assegurado o direito a acompanhante, devendo o órgão de saúde proporcionar as condições adequadas para a sua permanência em tempo integral, segundo o critério médico.
- III. É vedado ao idoso mentalmente sadio optar pelo tratamento de saúde que lhe for reputado mais favorável.

é **CORRETO** o que consta em:

- a) I, apenas.
- b) II e III, apenas.
- c) III, apenas.
- d) I e II, apenas.
- e) I, II, III.

45. Um homem de 32 anos de idade buscou o serviço de saúde para tratamento de lesões que lhe surgiram na face há mais de 3 anos. Ele mora em região rural e nunca fez nenhum tipo de acompanhamento médico. Apresenta deformações (com formações de caroços) no nariz e orelhas, queda de pêlos nas sobrancelhas e nódulos espalhados pelas mãos e braços. Feita a baciloscopia, o paciente recebeu o diagnóstico de Hanseníase Virchoviana e iniciou tratamento medicamentoso.

Acerca dessa situação hipotética, assinale a opção **CORRETA**.

- a) Considerando a forma clínica da doença apresentada pelo paciente, a baciloscopia deverá ser positiva.
- b) É indicada a imobilização das mãos e braços e o uso de protetores oclusivos para os olhos para melhorar as lesões.
- c) Nessa forma de hanseníase, não há perda de sensibilidade nervosa nem lesão visceral.
- d) O paciente deverá ser levado a uma UTI em razão da gravidade da doença.
- e) Não são considerados sinais e sintomas dermatológicos da hanseníase as manchas pigmentares ou discrômicas, a placa e tubérculo.

46. A assistência de enfermagem na fase perioperatória inclui os cuidados de enfermagem ministrados antes (pré-operatório), durante (transoperatório) e depois (pós-operatório) de uma cirurgia. Esses procedimentos podem ocorrer no hospital, em um centro cirúrgico ligado a um hospital, em um centro cirúrgico isolado, em consultório médico ou em ambulatório. Em quaisquer desses espaços, os cuidados de enfermagem desenvolvidos pelo técnico de enfermagem podem ser específicos, de acordo com o tipo de cirurgia e condições do paciente, ou podem ser cuidados comuns, independentemente da cirurgia e do local de sua realização.

Assim, considerando a assistência de enfermagem na fase perioperatória, analise as seguintes afirmativas e assinale a alternativa **INCORRETA**.

- a) Antes do início de qualquer procedimento cirúrgico, o técnico de enfermagem deve se certificar se o paciente tem alergia a esparadrapos, pomadas e soluções a serem utilizadas na fase perioperatória, uma vez que alergias precisam ser diferenciadas dos efeitos colaterais indesejáveis das

drogas a serem utilizadas durante a cirurgia, por exemplo.

- b) O jejum é recomendado antes de procedimentos eletivos que exijam anestesia geral, anestesia local ou sedação. O técnico de enfermagem deve remover os líquidos e alimentos sólidos da cabeceira do paciente e colocar um aviso na cama para alertar os profissionais de saúde assistenciais e familiares sobre as restrições do jejum.
- c) Alguns pacientes fazem o uso de próteses que podem se perder ou sofrer algum dano durante a cirurgia. Por isso, o técnico de enfermagem, no caso das dentaduras, por exemplo, deve orientar o paciente para mantê-las na cavidade oral durante a cirurgia para evitar possíveis perdas.
- d) Cabe ao técnico de enfermagem, na sala de recuperação pós-anestésica, estar atento aos padrões respiratório, circulatório e neurológico do paciente, bem como ao gerenciamento da dor para que as medidas efetivas sejam tomadas em benefício do paciente.
- e) Os principais riscos pós-operatórios imediatos são o choque e a hipoxemia devido a problemas respiratórios, por isso o profissional de enfermagem deve estar atento aos sinais vitais do paciente.

47. A assistência à saúde prestada pelos profissionais de enfermagem deve estar pautada na excelência do cuidado, visando-se a melhor recuperação dos sistemas fisiológicos do paciente. Acerca da assistência de enfermagem prestada ao paciente em emergência hospitalar, analise o que se segue:

Uma mulher vítima de queimadura deu entrada em um pronto-socorro tendo 30% da área do corpo queimada. Encontra-se consciente e queixando-se de náuseas.

Considerando as ações de enfermagem na situação hipotética acima, na sala de atendimento de emergência, assinale a opção **CORRETA**.

- a) A ação prioritária é a realização de curativos nas áreas queimadas.
 - b) É necessário puncionar uma veia calibrosa para instalar venóclise.
 - c) A sondagem nasogástrica é contraindicada devido às queixas de náuseas.
 - d) Deve-se avaliar as áreas queimadas expostas, sendo recomendado o uso apenas do lençol de cima, a fim de promover a hipotermia
 - e) Recomenda-se a remoção de flictenas, pois o conteúdo armazenado nessas estruturas pode favorecer a ocorrência de infecções no tecido subjacente.
- 48.** A hospitalização de pacientes portadores de agentes infecciosos que apresentam transmissão inter-humana predispõe à sua disseminação entre pacientes, funcionários e visitantes das unidades de internação. Para evitar essa transmissão, são adotadas algumas precauções. Acerca dos aspectos relacionados às precauções-padrão e controle de infecção, assinale a opção **CORRETA**.
- a) As precauções básicas e universais, relativas à manipulação de sangue, secreções, mucosas ou peles não íntegras, são medidas de prevenção indicadas preferencialmente aos pacientes com diagnóstico definido ou presumido de doenças infecciosas.
 - b) No caso de dengue, é obrigatória a permanência do paciente em isolamento.
 - c) Ao se utilizar a máscara, esta deve cobrir apenas a boca, sendo dispensável que cubra o nariz.
 - d) As luvas devem ser constantemente utilizadas quando o funcionário estiver

trabalhando no setor de isolamento, mesmo quando não esteja prestando assistência ao doente.

- e) Todas as pessoas que entram no quarto de um paciente imunocomprometido devem usar equipamentos de proteção individual e adotar as precauções básicas.
- 49.** Os produtos e artigos hospitalares utilizados em procedimentos são definidos de acordo com o grau de risco de aquisição de infecções, nas seguintes categorias: críticos, semicríticos e não críticos. Sendo assim, assinale a alternativa que apresenta um artigo **semicrítico**.
- a) Espéculo vaginal.
 - b) Termômetro.
 - c) Tecido para procedimento cirúrgico.
 - d) Comadre.
 - e) Cabo de laringoscópio.
- 50.** O cuidado de enfermagem é essencial para a realização de exames com segurança, conforto e qualidade que o paciente e seus familiares necessitam. Um dos fatores que contribuem para a qualidade dos exames laboratoriais é o seu preparo e a forma de coleta do material para que não ocorra alteração dos resultados. Para a colheita de urina em 24 horas para Glicosúria e Proteinúria de uma trabalhadora portadora de Diabetes, o técnico de enfermagem deve orientar
- a) coleta da primeira urina da manhã.
 - b) não desprezar o primeiro jato de urina.
 - c) término da coleta na manhã do dia seguinte.
 - d) suspensão da ingestão de frutas por três dias.
 - e) utilização de um frasco diferente para cada micção.