



PROCESSO SELETIVO SIMPLIFICADO

PREFEITURA MUNICIPAL DE PARNAÍBA

Secretaria Municipal de Saúde



Universidade
Estadual do Piauí

PROVA ESCRITA OBJETIVA – TIPO NF - 02
CARGO: **CONDUTOR SOCORRISTA**
DATA: 05/06/2016 – HORÁRIO: 9h às 12h (horário do Piauí)

LEIA AS INSTRUÇÕES:

01. Você deve receber do fiscal o material abaixo:
 - a) Este caderno com 40 questões objetivas sem falha ou repetição.
 - b) Um CARTÃO-RESPOSTA destinado às respostas objetivas da prova.

OBS: Para realizar sua prova, use apenas o material mencionado acima e, em hipótese alguma, papéis para rascunhos.
02. Verifique se este material está completo e se seus dados pessoais conferem com aqueles constantes do CARTÃO-RESPOSTA.
03. Após a conferência, você deverá assinar seu nome completo, no espaço próprio do CARTÃO-RESPOSTA utilizando caneta esferográfica com tinta de cor azul ou preta.
04. Escreva o seu nome nos espaços indicados na capa deste CADERNO DE QUESTÕES, observando as condições para tal (assinatura e letra de forma), bem como o preenchimento do campo reservado à informação de seu número de inscrição.
05. No CARTÃO-RESPOSTA, a marcação das letras correspondentes às respostas de sua opção, deve ser feita com o preenchimento de todo o espaço do campo reservado para tal fim.
06. Tenha muito cuidado com o CARTÃO-RESPOSTA, para não dobrar, amassar ou manchar, pois este é personalizado e em hipótese alguma poderá ser substituído.
07. Para cada uma das questões são apresentadas cinco alternativas classificadas com as letras (A), (B), (C), (D) e (E); assinale apenas uma alternativa para cada questão, pois somente uma responde adequadamente ao quesito proposto. A marcação em mais de uma alternativa anula a questão, **mesmo que uma das respostas esteja correta**; também serão nulas as marcações rasuradas.
08. As questões são identificadas pelo número que fica à esquerda de seu enunciado.
09. Os fiscais não estão autorizados a emitir opinião nem a prestar esclarecimentos sobre o conteúdo das provas. Cabe única e exclusivamente ao candidato interpretar e decidir a este respeito.
10. Reserve os 30(trinta) minutos finais para marcar seu CARTÃO-RESPOSTA. Os rascunhos e as marcações assinaladas no CADERNO DE QUESTÕES não serão levados em conta.
11. Quando terminar sua Prova, antes de sair da sala, assine a LISTA DE FREQUÊNCIA, entregue ao Fiscal o CADERNO DE QUESTÕES e o CARTÃO-RESPOSTA, que deverão conter sua assinatura.
12. O tempo de duração para esta prova é de **3 (três) horas**.
13. Por motivos de segurança, você somente poderá ausentar-se da sala de prova depois de **1h e 30minutos** do início de sua prova.
14. O rascunho ao lado não tem validade definitiva como marcação do Cartão-Resposta, destina-se apenas à conferência do gabarito por parte do candidato.

Nº DE INSCRIÇÃO

--	--	--	--	--	--

Assinatura

Nome do Candidato (letra de forma)

RASCUNHO

01		21	
02		22	
03		23	
04		24	
05		25	
06		26	
07		27	
08		28	
09		29	
10		30	
11		31	
12		32	
13		33	
14		34	
15		35	
16		36	
17		37	
18		38	
19		39	
20		40	

NÚCLEO DE CONCURSOS E PROMOÇÃO DE EVENTOS – NUCEPE
 FOLHA DE ANOTAÇÃO DO GABARITO - ATENÇÃO: Esta parte somente deverá ser destacada pelo fiscal da sala, após o término da prova.
 PROCESSO SELETIVO SIMPLIFICADO – SECRETARIA MUNICIPAL DA SAÚDE - SESA - PARNAÍBA - PI

Nº DE INSCRIÇÃO

--	--	--	--	--	--	--

LÍNGUA PORTUGUESA

Leia o texto que segue para responder às questões de 01 a 07.

Estilo de vida saudável abre espaço para mercado de produtos naturais

A cada ano, a procura por produtos naturais faz com que o consumidor tenha mais opções de escolha.

Uma alimentação saudável traz benefícios para a vida. Além das vitaminas das frutas, verduras e produtos naturais, já foi comprovado que a alimentação saudável é essencial no combate a doenças como hipertensão, diabetes e dos problemas cardiovasculares. Pensando nisso, as pessoas estão cada vez mais em busca de produtos para serem acrescentados às refeições diárias, como uma maneira de prevenção de doenças e busca de qualidade de vida.

[...]

(Jornal O Dia – O Dia Domingo – Diversidade. Editora: Biá Boakari e Virgiane Passos. Por Aldenora Cavalcante. Teresina, 21 de fevereiro de 2016.)

QUESTÃO 01

O título do texto **Estilo de vida saudável abre espaço para mercado de produtos naturais** chama a atenção para

- a) um novo ramo de negócio que surge e se expande em função de novos hábitos de vida.
- b) um antigo e esquecido mercado de consumo.
- c) uma forma de vida por muitos rejeitada.
- d) um negócio que se expande em função dos recursos financeiros da população.
- e) uma forma de viver por muitos desejada.

QUESTÃO 02

O texto ressalta a relação entre alimentação e

- a) hábitos naturais.
- b) produtos a serem evitados para consumo.
- c) saúde dos idosos.
- d) tanto ao combate às doenças quanto a sua prevenção.
- e) crenças populares sobre doenças.

QUESTÃO 03

O subtítulo do texto **A cada ano, a procura por produtos naturais faz com que o consumidor tenha mais opções de escolha** sugere, claramente, a relação econômica que existe entre

- a) demanda e procura.
- b) aceitação e demanda.
- c) procura e oferta.
- d) mercado e oferta.
- e) preços e oferta.

QUESTÃO 04

Na frase: **A cada ano, a procura por produtos naturais faz com que o consumidor tenha mais opções de escolha**, a expressão sublinhada, sem alteração de sentido para o contexto, pode ser substituída por

- a) Em todos os anos.
- b) Ano a ano.
- c) Uma vez por ano.
- d) Nos últimos anos.
- e) No último ano.

QUESTÃO 05

Marque a opção na qual a palavra apresentada, de gênero gramatical masculino, tem um correspondente no gênero feminino.

- a) Estilo.
- b) Espaço.
- c) Produtos.
- d) Mercado.
- e) Consumidor.

QUESTÃO 06

Em: **Uma alimentação saudável traz incontáveis benefícios para a vida**, o segmento sublinhado na palavra **incontáveis** agrega à palavra original o sentido de

- a) confirmação.
- b) inclusão.
- c) afirmação.
- d) negação.
- e) repetição.

QUESTÃO 07

O trecho sublinhado em: **Uma alimentação saudável traz benefícios para a vida** estará igualmente correto e manterá sentido igual, em caso de substituição por

- a) à.
- b) sobre a.
- c) além da.
- d) sob a.
- e) até a.

Texto para as questões 08, 09 e 10.

Muito nutritiva

Todos sabemos que as cascas das frutas contêm importantes nutrientes. Por isso é comum encontrarmos recomendações para seu aproveitamento, principalmente pelas populações mais carentes. A banana, por exemplo, é considerada fruta muito nutritiva, rica em minerais principalmente o potássio. Quando a consumimos, a casca vai para o lixo. Por acaso, você sabe o quanto se perde para o lixo?

[...]

(Revista Coleção Frutas & saúde. Ano IV. Nº 42. P. 28)

QUESTÃO 08

De acordo com as informações do texto,

- a) as cascas das frutas têm mais nutrientes do que a própria fruta.
- b) as frutas são recomendadas, preferencialmente, às populações de maior poder aquisitivo.
- c) não aproveitamos as cascas das frutas e, assim, perdemos uma importante fonte de nutrientes.
- d) temos consciência de quanto perdemos de nutrientes concentrados nas cascas das frutas que jogamos no lixo.
- e) a banana, por ser rica em potássio, deve ser consumida pelas populações mais carentes.

QUESTÃO 09

No texto, temos estruturas como: **Todos sabemos ...**, **é comum encontrarmos recomendações...** e **Quando a consumimos,....** Antes das formas verbais sublinhadas subentende-se a existência da palavra

- a) Eu.
- b) Nós.
- c) Você.
- d) Vós.
- e) Eles.

QUESTÃO 10

O texto apresenta importantes informações especializadas sobre os nutrientes concentrados em frutas e nas suas cascas. Pelo teor das informações é escrito numa linguagem mais formal. Essa formalidade, no entanto, é quebrada no momento em que há uma aproximação maior com o interlocutor, leitor, verificada em

- a) Todos sabemos que as cascas das frutas contêm importantes nutrientes.
- b) Por isso é comum encontrarmos recomendações para seu aproveitamento, ...
- c) A banana, por exemplo, é considerada fruta muito nutritiva ...
- d) Quando a consumimos, a casca vai para o lixo.
- e) Por acaso, você sabe o quanto se perde para o lixo?

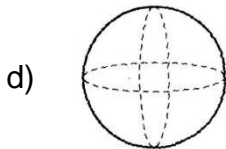
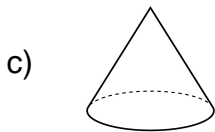
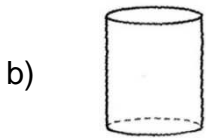
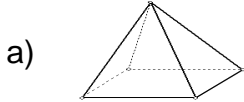
RACIOCÍNIO LÓGICO

QUESTÃO 11

Observe as vistas de um sólido geométrico.



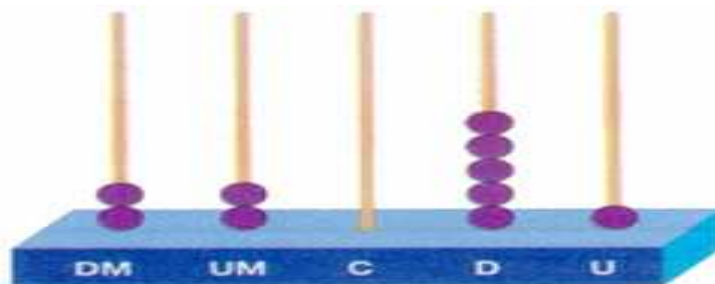
A qual dos sólidos abaixo essas vistas pertencem?



QUESTÃO 12

O ábaco é um instrumento de cálculo muito antigo, inventado há mais de 400 anos. Em alguns lugares do mundo ainda é utilizado, principalmente na Ásia. Qual número está representado no ábaco seguinte?

- a) 2251.
- b) 22051.
- c) 22150.
- d) 22501.
- e) 15022.



QUESTÃO 13

No Brasil, as distâncias máximas entre os pontos extremos norte-sul é de 4394 km e entre leste-oeste é de 4319 km. Arredondando esses números, respectivamente, para a unidade de milhar mais próxima e para a dezena mais próxima, obteremos:

- a) 4000 e 4400.
- b) 4390 e 4320.
- c) 4400 e 4320.
- d) 4000 e 4320.
- e) 4390 e 4300.

QUESTÃO 14

No quadro seguinte temos o horário das aulas a que Nicodemos deve assistir semanalmente.

Horário	2ª feira	3ª feira	4ª feira	5ª feira	6ª feira
De 7h 00min às 7h 50min	Língua Portuguesa	Ed. Física	Língua Portuguesa	Ed. Física	Língua Portuguesa
De 7h50min às 8h40min	Matemática	Ciências	Matemática	Ciências	Matemática
De 8h40min às 9h30min	Matemática	Língua Portuguesa	Matemática	Geografia/História	Espanhol
Intervalo (de 9h30min a 10h00min)					
De 10h00min às 10h50min	Geografia/História	Matemática	Ciências	Inglês	Geografia/História
De 10h50min às 11h40min	Arte	Língua Portuguesa	Geografia/História	Língua Portuguesa	Arte

Supondo-se que Nicodemos tenha assistido a todas as aulas de uma semana. Quantas horas de aulas de Matemática ele assistiu?

- a) 5 horas.
- b) 6 horas.
- c) 5 horas e 40 minutos.
- d) 6 horas e 30 minutos.
- e) 6 horas e 40 minutos.

QUESTÃO 15

Antônio pintou a numeração de todas as poltronas de um cinema de 1 a 300 e recebeu 50 centavos por algarismo pintado. Sabendo-se que Antônio gastou 66,00 reais com pincel e tinta, quanto ele recebeu líquido pelo trabalho de pintura?

- a) R\$ 84,00.
- b) R\$ 792,00.
- c) R\$ 396,00.
- d) R\$ 412,00.
- e) R\$ 330,00.

QUESTÃO 16

A oitava parte do décimo número da sequência 1, 2, 4, 8, 16, 32, ... é igual a:

- a) 16.
- b) 32.
- c) 64.
- d) 128.
- e) 256.

QUESTÃO 17

A quantidade mínima de planos que se deve utilizar para se fechar uma sala retangular em um espaço tridimensional é igual a

- a) 4.
- b) 6.
- c) 8.
- d) 5.
- e) 7.

QUESTÃO 18

Sérgio tem $\frac{6}{7}$ de um bolo e pretende comê-lo em 3 dias, em quantidades iguais. Que parte do bolo ele comerá por dia?

- a) $\frac{1}{21}$.
- b) $\frac{2}{21}$.
- c) $\frac{1}{7}$.
- d) $\frac{2}{7}$.
- e) $\frac{3}{7}$.

QUESTÃO 19

Em um concurso público foram aprovados $\frac{3}{8}$ dos candidatos inscritos. Sabendo que foram reprovados 375 candidatos, qual o total de candidatos aprovados neste concurso?

- a) 600.
- b) 300.
- c) 275.
- d) 255.
- e) 225.

QUESTÃO 20

Considere uma sequência onde cada termo, a partir do terceiro, é a soma dos dois anteriores mais próximos. Sabendo-se que o primeiro termo é igual a 2 e o sexto termo vale 2016, qual é o quinto termo desta sequência?

- a) 1210.
- b) 806.
- c) 802.
- d) 406.
- e) 402.

CONHECIMENTOS ESPECÍFICOS

QUESTÃO 21

Dirigir veículo com a Carteira Nacional de Habilitação cassada ou com suspensão do direito de dirigir resultará em:

- a) Multa somente.
- b) Multa (cinco vezes) e apreensão do veículo.
- c) Multa (três vezes) e apreensão do veículo.
- d) Multa (dez vezes) e apreensão do veículo.
- e) Multa (três vezes) e recolhimento da habilitação.

QUESTÃO 22

Estacionar o veículo nas esquinas e a menos de cinco metros do bordo do alinhamento da via transversal:

- a) Infração média; Penalidade – Multa; Medida administrativa – Retenção do veículo.
- b) Infração grave; Penalidade – Multa; Medida administrativa – Remoção do veículo.
- c) Infração gravíssima; Penalidade – Multa; Medida administrativa – Recolhimento da habilitação.
- d) Infração média; Penalidade – Multa; Medida administrativa – Remoção do veículo.
- e) Infração gravíssima; Penalidade – Multa; Medida administrativa – Remoção do veículo.

QUESTÃO 23

Analise as afirmações sobre mudanças de direção e manobras do Código de Trânsito Brasileiro e assinale a **INCORRETA**.

- a) Verificar as condições do trânsito à sua volta, certificando-se de não criar perigo para os demais usuários da via.
- b) Verificar se não é permitido e se não é possível fazer a manobra com segurança.
- c) Sinalizar as intenções com antecedência.
- d) Posicionar-se corretamente na via.
- e) Executar a manobra com cuidado, sempre atento à posição dos demais veículos.

QUESTÃO 24

Responda a alternativa **CORRETA**, em relação aos tipos de categorias de habilitação.

- a) A categoria E permite conduzir todos os veículos das categorias A, B, C e D, trailers e veículos que rebocam unidades com mais de 6.000 Kg de PBT ou com lotação superior a 8 passageiros.
- b) A categoria D permite dirigir todos os veículos das categorias A, B e C, e veículos de passageiros com lotação maior que 8 lugares.
- c) A categoria C permite dirigir todos os veículos das categorias A e B, e tratores, máquina agrícolas e veículos de carga com mais de 3.500 Kg de PBT, com ou sem reboque, desde que o reboque pese menos de 6.000 kg de PBT.
- d) A categoria B permite dirigir veículos automotores com ou sem reboque, com peso PTB acima de 3.500 kg e lotação máxima de 8 lugares, fora o condutor.
- e) A categoria A permite conduzir veículos automotores de 2 ou 3 rodas, com ou sem carro lateral.

QUESTÃO 25

Será obrigatória a expedição de um novo Certificado de Registro de Veículo (CRV) quando, **EXCETO**,

- a) for transferida a propriedade.
- b) o proprietário mudar o município de domicílio ou residência.
- c) for alterada qualquer característica do veículo.
- d) houver mudança de categoria.
- e) anualmente e com a quitação das multas.

QUESTÃO 26

O Código de Trânsito Brasileiro determina que a placa e a tarjeta dos veículos em experiência/fabricante, tenham as cores respectivas:

- a) Verde/branca.
- b) Branca/verde.
- c) Azul/branca.
- d) Branca/azul.
- e) Vermelha/branca.

QUESTÃO 27

A placa de advertência abaixo, adverte:



- a) O condutor que a pista vai se estreitar em ambos os lados.
- b) O condutor que à frente a via era de sentido único e pista dupla passará a ser de sentido duplo e pista simples.
- c) O condutor que à frente a via era de sentido duplo e pista simples, passará a ser de sentido único e pista dupla.
- d) O condutor que a pista vai se estreitar a direita.
- e) O condutor que estará saindo de uma pista simples de sentido único para uma pista dupla, também de sentido único.

QUESTÃO 28

No trânsito, os condutores alcoolizados têm práticas perigosas que se tornam elementos de risco, **EXCETO**,

- a) excesso de velocidade.
- b) manobras arriscadas.
- c) avaliação correta das distâncias.
- d) reações fora de tempo, atrasada.
- e) perda de controle do veículo.

QUESTÃO 29

A sonolência é responsável por mais de 10% dos acidentes automobilísticos, percentual extremamente elevado quando comparado às demais causas. Diante dos sinais de sonolência, **NÃO** se deve:

- a) redobrar os cuidados.
- b) dirigir se estiver realmente descansado.
- c) atentar aos períodos em que há baixa do nível de energia, como após refeições.
- d) chegar ao destino o mais rápido possível para descansar.
- e) revezar em trajetos longos, para não chegar ao limite.

QUESTÃO 30

A Hemorragia interna ocorrem em órgãos internos, como fígado, baço, pulmão, estômago, devido a traumatismos profundos, e levam rapidamente ao estado de choque. Qual o procedimento correto para socorrer uma vítima com os sinais de hemorragia interna.

- a) Levar a vítima o mais rápido possível, sem se preocupar com as dores.
- b) Colocar uma compressa quente no local do trauma.
- c) Dar líquido a vítima.
- d) Colocar a vítima para dormir.
- e) Monitorar os sinais vitais para evitar uma parada cardiorrespiratória.

QUESTÃO 31

Produtos poluentes altamente tóxicos e agressivos são lançados ao meio ambiente, com grande capacidade de contaminação. Cabe ao condutor, **EXCETO**,

- a) deixar o motor do veículo funcionando desnecessariamente.
- b) fazer as verificações de rotina em pneus e suspensão, para diminuir o desgaste.
- c) fazer um planejamento das atividades, para usar o veículo de maneira racional.
- d) evitar deslocamento desnecessários.
- e) evitar acelerar o veículo em ponto morto.

QUESTÃO 32

Sobre o sistema de freios todas as afirmações são corretas, **EXCETO**,

- a) o freio do veículo serve para reduzir a velocidade ou fazer o veículo parar completamente.
- b) ao pisar no pedal do freio, a pressão aplicada é transmitida a um sistema hidráulico, preenchido por um óleo especial, o fluido do freio.
- c) o servo-freio ou hidrovácuo é um componente presente na maioria dos veículo, mas só atua se o motor estiver desligado.
- d) o fluido precisa ser drenado e substituído, periodicamente.
- e) lonas e tambores são elementos de desgaste natural, cuja substituição periódica é previsível.

QUESTÃO 33

Segundo a Resolução do CONTRAN nº 26/98, assinale a alternativa **CORRETA**.

- a) O transporte de carga em veículos destinados ao transporte de passageiros, do tipo ônibus, micro-ônibus, ou outras categorias, não está autorizado no Código de Trânsito Brasileiro.
- b) A carga só poderá ser acomodada em compartimento próprio, junto dos passageiros, que no ônibus é o bagageiro.
- c) Os limites máximos de peso e dimensões da carga, serão fixados pelas legislações existentes somente na esfera federal.
- d) No caso do transporte rodoviário internacional de passageiros serão observados os Tratados, Convenções ou Acordos internacionais, enquanto vinculados à República Federativa Brasileira.
- e) Fica permitida o transporte de produtos considerados perigosos conforme a legislação específica.

QUESTÃO 34

O motorista profissional, no exercício da sua profissão e na condução de veículo de transporte de passageiros com mais de 10 (dez lugares) e de carga com peso bruto total superior a 4.536 (quatro mil e quinhentos e trinta e seis) fica submetido à seguinte condição:

- a) Observar intervalo mínimo de 30 (trinta) minutos para descanso a cada 4 (quatro) horas ininterruptas na condução de veículo.
- b) Observar, dentro do período de 24 (vinte e quatro) horas, intervalo de, no mínimo, 11 (onze) horas de descanso, podendo ser fracionado em 9 (nove) horas mais 2 (duas), no mesmo dia.
- c) O motorista profissional autônomo deverá portar a ficha de trabalho das últimas 24 (vinte quatro) horas.
- d) Em relação ao transporte de passageiro de característica urbana, o fracionamento do intervalo de descanso poderá ser superior a três períodos, devendo ser observado o período mínimo de cinco minutos para cada intervalo.
- e) É de responsabilidade da empresa o controle do tempo de direção.

QUESTÃO 35

O peso máximo (autorizado) que o veículo pode transmitir ao pavimento, constituído da soma da tara mais a lotação, define-se como:

- a) Lotação.
- b) Peso bruto total.
- c) Conjugado.
- d) Peso bruto total combinado.
- e) Capacidade máxima de tração.

QUESTÃO 36

A Resolução nº 304/2008, através do artigo 41 da Lei Federal nº 10.741, estabelece a obrigatoriedade de se:

- a) Destinar 2% (dois por cento) do total de vagas regulamentadas de estacionamento para veículos que transportem pessoas portadoras de deficiência física ou visual, desde que devidamente identificados.
- b) Destinar 10% (dez por cento) do total de vagas regulamentadas de estacionamento para veículos que transportem pessoas portadoras de deficiência física ou visual, desde que devidamente identificados.
- c) Destinar 6% (seis por cento) do total de vagas regulamentadas de estacionamento para veículos que transportem pessoas portadoras de deficiência física ou visual, desde que devidamente identificados.
- d) Destinar 5% (cinco por cento) do total de vagas regulamentadas de estacionamento para veículos que transportem pessoas portadoras de deficiência física ou visual, desde que devidamente identificados.
- e) Destinar 3% (três por cento) do total de vagas regulamentadas de estacionamento para veículos que transportem pessoas portadoras de deficiência física ou visual, desde que devidamente identificados.

QUESTÃO 37

A velocidade máxima permitida para a via será indicada por meio de sinalização, observadas suas características técnicas e condições de trânsito. Onde não existir sinalização regulamentadora, a velocidade mínima nas estradas para os ônibus e micro-ônibus, será:

- a) 90 Km/h.
- b) 80 Km/h.
- c) 60 Km/h.
- d) 40 km/h.
- e) 30 km/h.

QUESTÃO 38

Hábito simples como tomar banho, lavar as mãos e escovar os dentes estão entre as principais atitudes preventivas para o seu bem-estar. De acordo com a higiene pessoal, assinale a alternativa **INCORRETA**.

- a) A higiene pessoal previne a ocorrência de doenças infecciosas.
- b) A pessoa asseada é sempre ignorada por seu grupo social.
- c) O indivíduo sem asseio fica mais vulnerável à contaminação de doenças.
- d) Os mecanismos de higiene pessoal devem ser aplicados em todo o corpo e incentivados, desde dos primeiros anos de vida.
- e) Uma pessoa que não preza por sua higiene pode ser ignorada pela sociedade.

QUESTÃO 39

Um motorista que está conduzindo dignitário em veículo blindado ao notar a tentativa de abordagem criminosa de parte de outro veículo, deve, **EXCETO**,

- a) analisar a situação.
- b) reagir rapidamente com segurança.
- c) utilizar técnicas para a fuga.
- d) proteger o dignitário.
- e) enfrentar os criminosos sem se preocupar com a segurança.

QUESTÃO 40

A prática de boas atitudes entre os usuários do trânsito tem o poder de promover o respeito mútuo e a cidadania. É essencial saber agir corretamente frente às diversas situações do dia-a-dia, reconhecendo e alterando os maus-hábitos e posturas negativas. Para tanto, alguns valores devem ser considerados, **EXCETO**,

- a) desrespeito.
- b) flexibilidade.
- c) bom senso.
- d) receptividade.
- e) paciência.